


## QU'EST-CE QUE LE CADEAU? (B)


Quel nombre se trouve dans chaque cadeau?

$36 \div 6 =$  

$18 \div 3 =$  

$18 \div 6 =$  

$6 \div 3 =$  

$16 \div 8 =$  

$49 \div$    $= 7$

$56 \div$    $= 7$

$12 \div$    $= 6$

$16 \div$    $= 8$


$36 \div$    $= 6$

$$    $\div 4 = 5$

$$    $\div 2 = 8$

$$    $\div 2 = 6$

$$    $\div 7 = 8$

$$    $\div 5 = 4$

$14 \div 7 =$  

$4 \div 2 =$  

$12 \div 6 =$  

$42 \div 6 =$  

$9 \div 3 =$  

$25 \div$    $= 5$


$36 \div$    $= 6$


$24 \div$    $= 8$


$48 \div$    $= 8$


$20 \div$    $= 5$

$$    $\div 7 = 8$

$$    $\div 8 = 7$

$$    $\div 6 = 7$

$$    $\div 8 = 2$

$$    $\div 4 = 5$

$30 \div 5 =$  

$40 \div 8 =$  

$49 \div 7 =$  

$30 \div 6 =$  

$24 \div 8 =$  

$12 \div$    $= 2$


$20 \div$    $= 5$


$48 \div$    $= 8$


$10 \div$    $= 2$


$16 \div$    $= 2$

$$    $\div 2 = 3$

$$    $\div 7 = 6$

$$    $\div 8 = 2$

$$    $\div 6 = 7$

$$    $\div 8 = 2$