


QU'EST-CE QUE LE CADEAU? (J)

Quel nombre se trouve dans chaque cadeau?

$15 + 25 =$ 

$17 + 8 =$ 

$20 + 21 =$ 

$15 + 8 =$ 

$9 + 20 =$ 

$24 +$  $= 44$


$15 +$  $= 35$


$3 +$  $= 24$


$9 +$  $= 34$


$20 +$  $= 40$

 $+ 13 = 18$


 $+ 15 = 22$

 $+ 11 = 17$


 $+ 12 = 33$


 $+ 2 = 11$

$23 + 2 =$ 

$10 + 19 =$ 

$15 + 20 =$ 

$8 + 16 =$ 

$13 + 11 =$ 

$22 +$  $= 40$

$12 +$  $= 19$

$19 +$  $= 23$

$24 +$  $= 46$


$13 +$  $= 37$


 $+ 3 = 14$

 $+ 24 = 49$


 $+ 2 = 20$


 $+ 20 = 42$


 $+ 8 = 13$

$9 + 8 =$ 

$14 + 11 =$ 

$10 + 8 =$ 

$21 + 16 =$ 

$4 + 16 =$ 

$24 +$  $= 37$

$4 +$  $= 8$

$22 +$  $= 28$


$23 +$  $= 45$


$11 +$  $= 17$

 $+ 11 = 31$

 $+ 4 = 26$

 $+ 22 = 30$

 $+ 15 = 24$

 $+ 16 = 25$