

SUITES DE NOMBRES LUTINS (A)

Chaque lutin spécialise dans la fabrication de un seul jouet dont il en fabrique à chaque jour la même quantité. Les lutins doivent garder en note le total cumulé de jouets qu'ils ont fabriqué. Continuez chaque suites pour montrer le total cumulé des trois prochains jours.



61, 62, 63, 64, _____, _____, _____.

Quantité de jouets par jour: _____



68, 71, 74, 77, _____, _____, _____.

Quantité de jouets par jour: _____



33, 38, 43, 48, _____, _____, _____.

Quantité de jouets par jour: _____

13, 18, 23, 28, _____, _____, _____.

Quantité de jouets par jour: _____

75, 77, 79, 81, _____, _____, _____.

Quantité de jouets par jour: _____

50, 59, 68, 77, _____, _____, _____.

Quantité de jouets par jour: _____



9, 15, 21, 27, _____, _____, _____.

Quantité de jouets par jour: _____



SUITES DE NOMBRES LUTINS (A) SOLUTIONS

Chaque lutin spécialise dans la fabrication de un seul jouet dont il en fabrique à chaque jour la même quantité. Les lutins doivent garder en note le total cumulé de jouets qu'ils ont fabriqué. Continuez chaque suites pour montrer le total cumulé des trois prochains jours.



61, 62, 63, 64, **65, 66, 67**

Quantité de jouets par jour:



68, 71, 74, 77, **80, 83, 86**

Quantité de jouets par jour:

33, 38, 43, 48, **53, 58, 63**

Quantité de jouets par jour:



13, 18, 23, 28, **33, 38, 43**

Quantité de jouets par jour:

75, 77, 79, 81, **83, 85, 87**

Quantité de jouets par jour:

50, 59, 68, 77, **86, 95, 104**

Quantité de jouets par jour:



9, 15, 21, 27, **33, 39, 45**

Quantité de jouets par jour:



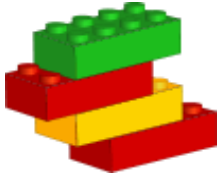
SUITES DE NOMBRES LUTINS (B)

Chaque lutin spécialise dans la fabrication de un seul jouet dont il en fabrique à chaque jour la même quantité. Les lutins doivent garder en note le total cumulé de jouets qu'ils ont fabriqué. Continuez chaque suites pour montrer le total cumulé des trois prochains jours.




63, 70, 77, 84, _____, _____, _____.

Quantité de jouets par jour: _____



31, 38, 45, 52, _____, _____, _____.

Quantité de jouets par jour: _____



21, 27, 33, 39, _____, _____, _____.

Quantité de jouets par jour: _____

42, 49, 56, 63, _____, _____, _____.

Quantité de jouets par jour: _____

19, 24, 29, 34, _____, _____, _____.

Quantité de jouets par jour: _____

22, 27, 32, 37, _____, _____, _____.

Quantité de jouets par jour: _____



49, 51, 53, 55, _____, _____, _____.

Quantité de jouets par jour: _____



SUITES DE NOMBRES LUTINS (B)

SOLUTIONS

Chaque lutin spécialise dans la fabrication de un seul jouet dont il en fabrique à chaque jour la même quantité. Les lutins doivent garder en note le total cumulé de jouets qu'ils ont fabriqué. Continuez chaque suites pour montrer le total cumulé des trois prochains jours.



63, 70, 77, 84, **91, 98, 105**

Quantité de jouets par jour:



31, 38, 45, 52, **59, 66, 73**

Quantité de jouets par jour:



21, 27, 33, 39, **45, 51, 57**

Quantité de jouets par jour:

42, 49, 56, 63, **70, 77, 84**

Quantité de jouets par jour:

19, 24, 29, 34, **39, 44, 49**

Quantité de jouets par jour:

22, 27, 32, 37, **42, 47, 52**

Quantité de jouets par jour:



49, 51, 53, 55, **57, 59, 61**

Quantité de jouets par jour:



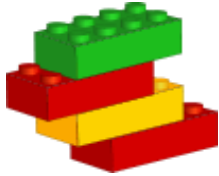
SUITES DE NOMBRES LUTINS (C)

Chaque lutin spécialise dans la fabrication de un seul jouet dont il en fabrique à chaque jour la même quantité. Les lutins doivent garder en note le total cumulé de jouets qu'ils ont fabriqué. Continuez chaque suites pour montrer le total cumulé des trois prochains jours.




40, 49, 58, 67, _____, _____, _____.

Quantité de jouets par jour: _____



44, 50, 56, 62, _____, _____, _____.

Quantité de jouets par jour: _____



17, 23, 29, 35, _____, _____, _____.

Quantité de jouets par jour: _____

31, 36, 41, 46, _____, _____, _____.

Quantité de jouets par jour: _____

1, 2, 3, 4, _____, _____, _____.

Quantité de jouets par jour: _____



67, 72, 77, 82, _____, _____, _____.

Quantité de jouets par jour: _____



SUITES DE NOMBRES LUTINS (C) SOLUTIONS

Chaque lutin spécialise dans la fabrication de un seul jouet dont il en fabrique à chaque jour la même quantité. Les lutins doivent garder en note le total cumulé de jouets qu'ils ont fabriqué. Continuez chaque suites pour montrer le total cumulé des trois prochains jours.



40, 49, 58, 67, **76, 85, 94**
Quantité de jouets par jour:



44, 50, 56, 62, **68, 74, 80**
Quantité de jouets par jour:



52, 57, 62, 67, **72, 77, 82**
Quantité de jouets par jour:

17, 23, 29, 35, **41, 47, 53**
Quantité de jouets par jour:

31, 36, 41, 46, **51, 56, 61**
Quantité de jouets par jour:

1, 2, 3, 4, **5, 6, 7**
Quantité de jouets par jour:



67, 72, 77, 82, **87, 92, 97**
Quantité de jouets par jour:



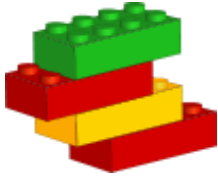
SUITES DE NOMBRES LUTINS (D)

Chaque lutin spécialise dans la fabrication de un seul jouet dont il en fabrique à chaque jour la même quantité. Les lutins doivent garder en note le total cumulé de jouets qu'ils ont fabriqué. Continuez chaque suites pour montrer le total cumulé des trois prochains jours.




71, 78, 85, 92, _____, _____, _____.

Quantité de jouets par jour: _____



56, 59, 62, 65, _____, _____, _____.

Quantité de jouets par jour: _____



9, 18, 27, 36, _____, _____, _____.

Quantité de jouets par jour: _____

74, 79, 84, 89, _____, _____, _____.

Quantité de jouets par jour: _____

7, 11, 15, 19, _____, _____, _____.

Quantité de jouets par jour: _____

58, 60, 62, 64, _____, _____, _____.

Quantité de jouets par jour: _____



28, 33, 38, 43, _____, _____, _____.

Quantité de jouets par jour: _____



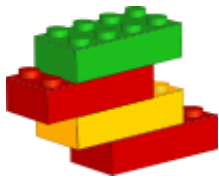
SUITES DE NOMBRES LUTINS (D) SOLUTIONS

Chaque lutin spécialise dans la fabrication de un seul jouet dont il en fabrique à chaque jour la même quantité. Les lutins doivent garder en note le total cumulé de jouets qu'ils ont fabriqué. Continuez chaque suites pour montrer le total cumulé des trois prochains jours.



71, 78, 85, 92, **99, 106, 113**

Quantité de jouets par jour:



56, 59, 62, 65, **68, 71, 74**

Quantité de jouets par jour:



9, 18, 27, 36, **45, 54, 63**

Quantité de jouets par jour:

74, 79, 84, 89, **94, 99, 104**

Quantité de jouets par jour:

7, 11, 15, 19, **23, 27, 31**

Quantité de jouets par jour:

58, 60, 62, 64, **66, 68, 70**

Quantité de jouets par jour:



28, 33, 38, 43, **48, 53, 58**

Quantité de jouets par jour:

Joyeux Noël de MathsLibres.com



SUITES DE NOMBRES LUTINS (E)

Chaque lutin spécialise dans la fabrication de un seul jouet dont il en fabrique à chaque jour la même quantité. Les lutins doivent garder en note le total cumulé de jouets qu'ils ont fabriqué. Continuez chaque suites pour montrer le total cumulé des trois prochains jours.




40, 49, 58, 67, _____, _____, _____.

Quantité de jouets par jour: _____



33, 36, 39, 42, _____, _____, _____.

Quantité de jouets par jour: _____



18, 26, 34, 42, _____, _____, _____.

Quantité de jouets par jour: _____

67, 69, 71, 73, _____, _____, _____.

Quantité de jouets par jour: _____

74, 75, 76, 77, _____, _____, _____.

Quantité de jouets par jour: _____

67, 74, 81, 88, _____, _____, _____.

Quantité de jouets par jour: _____



47, 51, 55, 59, _____, _____, _____.

Quantité de jouets par jour: _____



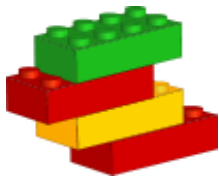
SUITES DE NOMBRES LUTINS (E) SOLUTIONS

Chaque lutin spécialise dans la fabrication de un seul jouet dont il en fabrique à chaque jour la même quantité. Les lutins doivent garder en note le total cumulé de jouets qu'ils ont fabriqué. Continuez chaque suites pour montrer le total cumulé des trois prochains jours.



40, 49, 58, 67, **76, 85, 94**

Quantité de jouets par jour:



33, 36, 39, 42, **45, 48, 51**

Quantité de jouets par jour:



18, 26, 34, 42, **50, 58, 66**

Quantité de jouets par jour:

67, 69, 71, 73, **75, 77, 79**

Quantité de jouets par jour:

74, 75, 76, 77, **78, 79, 80**

Quantité de jouets par jour:

67, 74, 81, 88, **95, 102, 109**

Quantité de jouets par jour:



47, 51, 55, 59, **63, 67, 71**

Quantité de jouets par jour:

Joyeux Noël de MathsLibres.com



SUITES DE NOMBRES LUTINS (F)

Chaque lutin spécialise dans la fabrication de un seul jouet dont il en fabrique à chaque jour la même quantité. Les lutins doivent garder en note le total cumulé de jouets qu'ils ont fabriqué. Continuez chaque suites pour montrer le total cumulé des trois prochains jours.



43, 52, 61, 70, _____, _____, _____.

Quantité de jouets par jour: _____




17, 19, 21, 23, _____, _____, _____.

Quantité de jouets par jour: _____

64, 71, 78, 85, _____, _____, _____.

Quantité de jouets par jour: _____



31, 33, 35, 37, _____, _____, _____.

Quantité de jouets par jour: _____

23, 27, 31, 35, _____, _____, _____.

Quantité de jouets par jour: _____

63, 68, 73, 78, _____, _____, _____.

Quantité de jouets par jour: _____



72, 80, 88, 96, _____, _____, _____.

Quantité de jouets par jour: _____



SUITES DE NOMBRES LUTINS (F)

SOLUTIONS

Chaque lutin spécialise dans la fabrication de un seul jouet dont il en fabrique à chaque jour la même quantité. Les lutins doivent garder en note le total cumulé de jouets qu'ils ont fabriqué. Continuez chaque suites pour montrer le total cumulé des trois prochains jours.



43, 52, 61, 70, **79, 88, 97**

Quantité de jouets par jour:



17, 19, 21, 23, **25, 27, 29**

Quantité de jouets par jour:



64, 71, 78, 85, **92, 99, 106**

Quantité de jouets par jour:

31, 33, 35, 37, **39, 41, 43**

Quantité de jouets par jour:

23, 27, 31, 35, **39, 43, 47**

Quantité de jouets par jour:

63, 68, 73, 78, **83, 88, 93**

Quantité de jouets par jour:



72, 80, 88, 96, **104, 112, 120**

Quantité de jouets par jour:



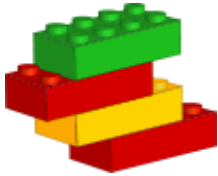
SUITES DE NOMBRES LUTINS (9)

Chaque lutin spécialise dans la fabrication de un seul jouet dont il en fabrique à chaque jour la même quantité. Les lutins doivent garder en note le total cumulé de jouets qu'ils ont fabriqué. Continuez chaque suites pour montrer le total cumulé des trois prochains jours.




47, 51, 55, 59, _____, _____, _____.

Quantité de jouets par jour: _____



53, 57, 61, 65, _____, _____, _____.

Quantité de jouets par jour: _____



75, 78, 81, 84, _____, _____, _____.

Quantité de jouets par jour: _____

49, 57, 65, 73, _____, _____, _____.

Quantité de jouets par jour: _____

13, 18, 23, 28, _____, _____, _____.

Quantité de jouets par jour: _____

16, 21, 26, 31, _____, _____, _____.

Quantité de jouets par jour: _____



17, 19, 21, 23, _____, _____, _____.

Quantité de jouets par jour: _____



SUITES DE NOMBRES LUTINS (9) SOLUTIONS

Chaque lutin spécialise dans la fabrication de un seul jouet dont il en fabrique à chaque jour la même quantité. Les lutins doivent garder en note le total cumulé de jouets qu'ils ont fabriqué. Continuez chaque suites pour montrer le total cumulé des trois prochains jours.



47, 51, 55, 59, **63, 67, 71**
Quantité de jouets par jour:



53, 57, 61, 65, **69, 73, 77**
Quantité de jouets par jour:



75, 78, 81, 84, **87, 90, 93**
Quantité de jouets par jour:

49, 57, 65, 73, **81, 89, 97**
Quantité de jouets par jour:

13, 18, 23, 28, **33, 38, 43**
Quantité de jouets par jour:

16, 21, 26, 31, **36, 41, 46**
Quantité de jouets par jour:



17, 19, 21, 23, **25, 27, 29**
Quantité de jouets par jour:



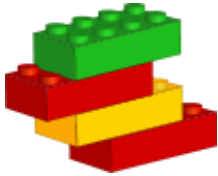
SUITES DE NOMBRES LUTINS (H)

Chaque lutin spécialise dans la fabrication de un seul jouet dont il en fabrique à chaque jour la même quantité. Les lutins doivent garder en note le total cumulé de jouets qu'ils ont fabriqué. Continuez chaque suites pour montrer le total cumulé des trois prochains jours.




46, 55, 64, 73, _____, _____, _____.

Quantité de jouets par jour: _____



44, 46, 48, 50, _____, _____, _____.

Quantité de jouets par jour: _____



15, 21, 27, 33, _____, _____, _____.

Quantité de jouets par jour: _____

36, 44, 52, 60, _____, _____, _____.

Quantité de jouets par jour: _____

19, 21, 23, 25, _____, _____, _____.

Quantité de jouets par jour: _____

49, 51, 53, 55, _____, _____, _____.

Quantité de jouets par jour: _____



25, 32, 39, 46, _____, _____, _____.

Quantité de jouets par jour: _____



SUITES DE NOMBRES LUTINS (H) SOLUTIONS

Chaque lutin spécialise dans la fabrication de un seul jouet dont il en fabrique à chaque jour la même quantité. Les lutins doivent garder en note le total cumulé de jouets qu'ils ont fabriqué. Continuez chaque suites pour montrer le total cumulé des trois prochains jours.



46, 55, 64, 73, **82, 91, 100**
Quantité de jouets par jour:



44, 46, 48, 50, **52, 54, 56**
Quantité de jouets par jour:



15, 21, 27, 33, **39, 45, 51**
Quantité de jouets par jour:

36, 44, 52, 60, **68, 76, 84**
Quantité de jouets par jour:

19, 21, 23, 25, **27, 29, 31**
Quantité de jouets par jour:

49, 51, 53, 55, **57, 59, 61**
Quantité de jouets par jour:



25, 32, 39, 46, **53, 60, 67**
Quantité de jouets par jour:



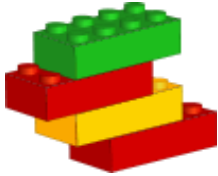
SUITES DE NOMBRES LUTINS (I)

Chaque lutin spécialise dans la fabrication de un seul jouet dont il en fabrique à chaque jour la même quantité. Les lutins doivent garder en note le total cumulé de jouets qu'ils ont fabriqué. Continuez chaque suites pour montrer le total cumulé des trois prochains jours.




10, 19, 28, 37, _____, _____, _____.

Quantité de jouets par jour: _____



15, 17, 19, 21, _____, _____, _____.

Quantité de jouets par jour: _____



67, 73, 79, 85, _____, _____, _____.

Quantité de jouets par jour: _____

33, 35, 37, 39, _____, _____, _____.

Quantité de jouets par jour: _____

3, 7, 11, 15, _____, _____, _____.

Quantité de jouets par jour: _____



56, 64, 72, 80, _____, _____, _____.

Quantité de jouets par jour: _____



SUITES DE NOMBRES LUTINS (I)

SOLUTIONS


Chaque lutin spécialise dans la fabrication de un seul jouet dont il en fabrique à chaque jour la même quantité. Les lutins doivent garder en note le total cumulé de jouets qu'ils ont fabriqué. Continuez chaque suites pour montrer le total cumulé des trois prochains jours.



10, 19, 28, 37, **46, 55, 64**
Quantité de jouets par jour:



15, 17, 19, 21, **23, 25, 27**
Quantité de jouets par jour:



14, 20, 26, 32, **38, 44, 50**
Quantité de jouets par jour:

67, 73, 79, 85, **91, 97, 103**
Quantité de jouets par jour:

33, 35, 37, 39, **41, 43, 45**
Quantité de jouets par jour:

3, 7, 11, 15, **19, 23, 27**
Quantité de jouets par jour:



56, 64, 72, 80, **88, 96, 104**
Quantité de jouets par jour:



SUITES DE NOMBRES LUTINS (J)

Chaque lutin spécialise dans la fabrication de un seul jouet dont il en fabrique à chaque jour la même quantité. Les lutins doivent garder en note le total cumulé de jouets qu'ils ont fabriqué. Continuez chaque suites pour montrer le total cumulé des trois prochains jours.




74, 75, 76, 77, _____, _____, _____.

Quantité de jouets par jour: _____



47, 49, 51, 53, _____, _____, _____.

Quantité de jouets par jour: _____



70, 72, 74, 76, _____, _____, _____.

Quantité de jouets par jour: _____

40, 42, 44, 46, _____, _____, _____.

Quantité de jouets par jour: _____

58, 60, 62, 64, _____, _____, _____.

Quantité de jouets par jour: _____

43, 50, 57, 64, _____, _____, _____.

Quantité de jouets par jour: _____



67, 69, 71, 73, _____, _____, _____.

Quantité de jouets par jour: _____

Joyeux Noël de MathsLibres.com



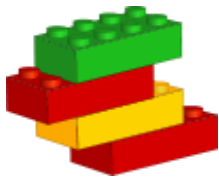
SUITES DE NOMBRES LUTINS (J) SOLUTIONS

Chaque lutin spécialise dans la fabrication de un seul jouet dont il en fabrique à chaque jour la même quantité. Les lutins doivent garder en note le total cumulé de jouets qu'ils ont fabriqué. Continuez chaque suites pour montrer le total cumulé des trois prochains jours.




74, 75, 76, 77, **78, 79, 80**

Quantité de jouets par jour:



47, 49, 51, 53, **55, 57, 59**

Quantité de jouets par jour:



70, 72, 74, 76, **78, 80, 82**

Quantité de jouets par jour:

40, 42, 44, 46, **48, 50, 52**

Quantité de jouets par jour:

58, 60, 62, 64, **66, 68, 70**

Quantité de jouets par jour:

43, 50, 57, 64, **71, 78, 85**

Quantité de jouets par jour:



67, 69, 71, 73, **75, 77, 79**

Quantité de jouets par jour:

