





SECOUEZ LE CADEAU (C)


Simplifiez chaque fraction et découvrez ce qui est dans chaque boîte.


1. $\frac{36}{66} =$ 


6. $\frac{30}{70} =$ 


2. $\frac{3}{27} =$ 


7. $\frac{5}{25} =$ 

3. $\frac{42}{70} =$ 

8. $\frac{5}{15} =$ 

4. $\frac{35}{84} =$ 

9. $\frac{21}{35} =$ 

5. $\frac{10}{40} =$ 

10. $\frac{15}{30} =$ 