





# SECOUÉZ LE CADEAU (A)


Simplifiez chaque fraction et découvrez ce qui est dans chaque boîte.


1.  $\frac{50}{100} =$  


6.  $\frac{3}{36} =$  


2.  $\frac{9}{81} =$  


7.  $\frac{2}{10} =$  

3.  $\frac{54}{66} =$  

8.  $\frac{7}{35} =$  

4.  $\frac{12}{30} =$  

9.  $\frac{35}{60} =$  

5.  $\frac{6}{30} =$  

10.  $\frac{10}{40} =$  