

Compte de Pièces de Monnaie (A)

Quelle est la valeur totale de chaque collection de pièces de monnaie?

1.



= ?

2.



= ?

3.



= ?

Compte de Pièces de Monnaie (A) Solutions



Quelle est la valeur totale de chaque collection de pièces de monnaie?

1.



= \$1.11

2.



= \$1.74

3.




= \$1.13

Images de pièces de monnaie provenant de la Monnaie des États-Unis

Compte de Pièces de Monnaie (B)


Quelle est la valeur totale de chaque collection de pièces de monnaie?

1.




= ?

2.



= ?

3.




= ?

Compte de Pièces de Monnaie (B) Solutions

Quelle est la valeur totale de chaque collection de pièces de monnaie?

1.




= \$2.78

2.



= \$1.52

3.



= \$2.00

Images de pièces de monnaie provenant de la Monnaie des États-Unis

Compte de Pièces de Monnaie (C)

Quelle est la valeur totale de chaque collection de pièces de monnaie?

1.



= ?

2.





= ?

3.



= ?



Compte de Pièces de Monnaie (C) Solutions

Quelle est la valeur totale de chaque collection de pièces de monnaie?

1.



= \$1.68

2.



= \$1.92

3.



= \$1.97

Images de pièces de monnaie provenant de la Monnaie des États-Unis

Compte de Pièces de Monnaie (D)

Quelle est la valeur totale de chaque collection de pièces de monnaie?

1.



= ?

2.



= ?

3.



= ?

Compte de Pièces de Monnaie (D) Solutions

Quelle est la valeur totale de chaque collection de pièces de monnaie?

1.



= \$0.62

2.



= \$1.23

3.





= \$2.08

Images de pièces de monnaie provenant de la Monnaie des États-Unis

Compte de Pièces de Monnaie (E)


Quelle est la valeur totale de chaque collection de pièces de monnaie?

1.




= ?

2.



= ?

3.



= ?

Images de pièces de monnaie provenant de la Monnaie des États-Unis

Compte de Pièces de Monnaie (E) Solutions

Quelle est la valeur totale de chaque collection de pièces de monnaie?

1.



= \$2.29

2.





= \$2.66

3.





= \$1.93



Compte de Pièces de Monnaie (F)


Quelle est la valeur totale de chaque collection de pièces de monnaie?

1.




= ?

2.



= ?

3.





= ?

Images de pièces de monnaie provenant de la Monnaie des États-Unis

Compte de Pièces de Monnaie (F) Solutions


Quelle est la valeur totale de chaque collection de pièces de monnaie?

1.





= \$1.98

2.



= \$2.23

3.



= \$1.42

Images de pièces de monnaie provenant de la Monnaie des États-Unis

Compte de Pièces de Monnaie (G)


Quelle est la valeur totale de chaque collection de pièces de monnaie?

1.



= ?

2.



= ?

3.



= ?

Compte de Pièces de Monnaie (G) Solutions

Quelle est la valeur totale de chaque collection de pièces de monnaie?

1.




= \$1.46

2.



= \$1.97

3.




= \$2.32

Images de pièces de monnaie provenant de la Monnaie des États-Unis

Compte de Pièces de Monnaie (H)



Quelle est la valeur totale de chaque collection de pièces de monnaie?

1.




= ?

2.



= ?

3.



= ?

Compte de Pièces de Monnaie (H) Solutions

Quelle est la valeur totale de chaque collection de pièces de monnaie?

1.



= \$1.43

2.



= \$2.42

3.



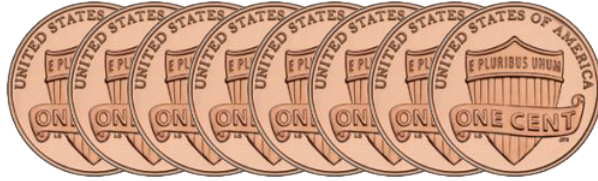

= \$2.18

Images de pièces de monnaie provenant de la Monnaie des États-Unis

Compte de Pièces de Monnaie (I)



Quelle est la valeur totale de chaque collection de pièces de monnaie?

1.




= ?

2.



= ?

3.




= ?

Images de pièces de monnaie provenant de la Monnaie des États-Unis

Compte de Pièces de Monnaie (I) Solutions



Quelle est la valeur totale de chaque collection de pièces de monnaie?

1.




= \$2.63

2.



= \$1.63

3.



= \$1.33

Images de pièces de monnaie provenant de la Monnaie des États-Unis

Compte de Pièces de Monnaie (J)


Quelle est la valeur totale de chaque collection de pièces de monnaie?

1.




= ?

2.



= ?

3.





= ?

Compte de Pièces de Monnaie (J) Solutions

Quelle est la valeur totale de chaque collection de pièces de monnaie?

1.




= \$1.50

2.



= \$2.40

3.



= \$1.27