

# Compte de Pièces de Monnaie (A)


Quelle est la valeur totale de chaque collection de pièces de monnaie?

1.



= ?

2.



= ?

3.



= ?

# Compte de Pièces de Monnaie (A) Solutions



Quelle est la valeur totale de chaque collection de pièces de monnaie?

1.



= \$1.11

2.



= \$1.74

3.



= \$1.13

Images de pièces de monnaie provenant de la Monnaie des États-Unis