

Mesurer la longueur (A)

Nom: _____

Date: _____

Note: _____

Veillez mesurer la longueur de chaque barre au **quart de pouce** le plus près.

1. Longueur de la barre:



2. Longueur de la barre:



3. Longueur de la barre:



4. Longueur de la barre:



5. Longueur de la barre:



6. Longueur de la barre:



7. Longueur de la barre:



8. Longueur de la barre:



9. Longueur de la barre:



10. Longueur de la barre:



Mesurer la longueur (A) Réponses

Nom: _____

Date: _____

Note: _____

Veillez mesurer la longueur de chaque barre au **quart de pouce** le plus près.

1.

Longueur de la barre:



2.

Longueur de la barre:



3.

Longueur de la barre:



4.

Longueur de la barre:



5.

Longueur de la barre:



6.

Longueur de la barre:



7.

Longueur de la barre:



8.

Longueur de la barre:



9.

Longueur de la barre:



10.

Longueur de la barre:



Mesurer la longueur (B)

Nom: _____

Date: _____

Note: _____

Veillez mesurer la longueur de chaque barre au **quart de pouce** le plus près.

1. Longueur de la barre:



2. Longueur de la barre:



3. Longueur de la barre:



4. Longueur de la barre:



5. Longueur de la barre:



6. Longueur de la barre:



7. Longueur de la barre:



8. Longueur de la barre:



9. Longueur de la barre:



10. Longueur de la barre:



Mesurer la longueur (B) Réponses

Nom: _____

Date: _____

Note: _____

Veillez mesurer la longueur de chaque barre au **quart de pouce** le plus près.

1. Longueur de la barre:



2. Longueur de la barre:



3. Longueur de la barre:



4. Longueur de la barre:



5. Longueur de la barre:



6. Longueur de la barre:



7. Longueur de la barre:



8. Longueur de la barre:



9. Longueur de la barre:



10. Longueur de la barre:



Mesurer la longueur (C)

Nom: _____

Date: _____

Note: _____

Veillez mesurer la longueur de chaque barre au **quart de pouce** le plus près.

1. Longueur de la barre:



2. Longueur de la barre:



3. Longueur de la barre:




4. Longueur de la barre:



5. Longueur de la barre:



6. Longueur de la barre:



7. Longueur de la barre:



8. Longueur de la barre:



9. Longueur de la barre:



10. Longueur de la barre:



Mesurer la longueur (C) Réponses

Nom: _____

Date: _____

Note: _____

Veillez mesurer la longueur de chaque barre au **quart de pouce** le plus près.

1.

Longueur de la barre:



2.

Longueur de la barre:



3.

Longueur de la barre:



4.

Longueur de la barre:



5.

Longueur de la barre:



6.

Longueur de la barre:



7.

Longueur de la barre:



8.

Longueur de la barre:



9.

Longueur de la barre:



10.

Longueur de la barre:



Mesurer la longueur (D)

Nom: _____

Date: _____

Note: _____

Veuillez mesurer la longueur de chaque barre au **quart de pouce** le plus près.

1. Longueur de la barre:



2. Longueur de la barre:



3. Longueur de la barre:



4. Longueur de la barre:



5. Longueur de la barre:



6. Longueur de la barre:



7. Longueur de la barre:



8. Longueur de la barre:



9. Longueur de la barre:



10. Longueur de la barre:



Mesurer la longueur (D) Réponses

Nom: _____

Date: _____

Note: _____

Veuillez mesurer la longueur de chaque barre au **quart de pouce** le plus près.

1. Longueur de la barre:



2. Longueur de la barre:



3. Longueur de la barre:



4. Longueur de la barre:



5. Longueur de la barre:



6. Longueur de la barre:



7. Longueur de la barre:



8. Longueur de la barre:



9. Longueur de la barre:



10. Longueur de la barre:



Mesurer la longueur (E)

Nom: _____

Date: _____

Note: _____

Veillez mesurer la longueur de chaque barre au **quart de pouce** le plus près.

1. Longueur de la barre:



2. Longueur de la barre:



3. Longueur de la barre:



4. Longueur de la barre:



5. Longueur de la barre:



6. Longueur de la barre:



7. Longueur de la barre:



8. Longueur de la barre:



9. Longueur de la barre:



10. Longueur de la barre:



Mesurer la longueur (E) Réponses

Nom: _____

Date: _____

Note: _____

Veillez mesurer la longueur de chaque barre au **quart de pouce** le plus près.

1. Longueur de la barre:



2. Longueur de la barre:



3. Longueur de la barre:



4. Longueur de la barre:



5. Longueur de la barre:



6. Longueur de la barre:



7. Longueur de la barre:



8. Longueur de la barre:



9. Longueur de la barre:



10. Longueur de la barre:



Mesurer la longueur (F)

Nom: _____

Date: _____

Note: _____

Veillez mesurer la longueur de chaque barre au **quart de pouce** le plus près.

1. Longueur de la barre:



2. Longueur de la barre:



3. Longueur de la barre:



4. Longueur de la barre:



5. Longueur de la barre:



6. Longueur de la barre:



7. Longueur de la barre:



8. Longueur de la barre:



9. Longueur de la barre:



10. Longueur de la barre:



Mesurer la longueur (F) Réponses

Nom: _____

Date: _____

Note: _____

Veillez mesurer la longueur de chaque barre au **quart de pouce** le plus près.

1. Longueur de la barre:



2. Longueur de la barre:



3. Longueur de la barre:



4. Longueur de la barre:



5. Longueur de la barre:



6. Longueur de la barre:



7. Longueur de la barre:



8. Longueur de la barre:



9. Longueur de la barre:



10. Longueur de la barre:



Mesurer la longueur (G)

Nom: _____

Date: _____

Note: _____

Veillez mesurer la longueur de chaque barre au **quart de pouce** le plus près.

1.

Longueur de la barre:



2.

Longueur de la barre:



3.

Longueur de la barre:



4.

Longueur de la barre:



5.

Longueur de la barre:



6.

Longueur de la barre:



7.

Longueur de la barre:



8.

Longueur de la barre:



9.

Longueur de la barre:



10.

Longueur de la barre:



Mesurer la longueur (G) Réponses

Nom: _____

Date: _____

Note: _____

Veillez mesurer la longueur de chaque barre au **quart de pouce** le plus près.

1.

Longueur de la barre:



2.

Longueur de la barre:



3.

Longueur de la barre:



4.

Longueur de la barre:



5.

Longueur de la barre:



6.

Longueur de la barre:



7.

Longueur de la barre:



8.

Longueur de la barre:



9.

Longueur de la barre:



10.

Longueur de la barre:



Mesurer la longueur (H)

Nom: _____

Date: _____

Note: _____

Veillez mesurer la longueur de chaque barre au **quart de pouce** le plus près.

1.

Longueur de la barre:



2.

Longueur de la barre:



3.

Longueur de la barre:



4.

Longueur de la barre:



5.

Longueur de la barre:



6.

Longueur de la barre:



7.

Longueur de la barre:



8.

Longueur de la barre:



9.

Longueur de la barre:



10.

Longueur de la barre:



Mesurer la longueur (H) Réponses

Nom: _____

Date: _____

Note: _____

Veillez mesurer la longueur de chaque barre au **quart de pouce** le plus près.

1.

Longueur de la barre:



2.

Longueur de la barre:



3.

Longueur de la barre:



4.

Longueur de la barre:



5.

Longueur de la barre:



6.

Longueur de la barre:



7.

Longueur de la barre:



8.

Longueur de la barre:



9.

Longueur de la barre:



10.

Longueur de la barre:



Mesurer la longueur (I)

Nom: _____

Date: _____


Note: _____

Veillez mesurer la longueur de chaque barre au **quart de pouce** le plus près.

1. Longueur de la barre:



2. Longueur de la barre:



3. Longueur de la barre:



4. Longueur de la barre:




5. Longueur de la barre:



6. Longueur de la barre:




7. Longueur de la barre:




8. Longueur de la barre:



9. Longueur de la barre:



10. Longueur de la barre:



Mesurer la longueur (I) Réponses

Nom: _____

Date: _____


Note: _____

Veuillez mesurer la longueur de chaque barre au **quart de pouce** le plus près.

1. Longueur de la barre:



2. Longueur de la barre:



3. Longueur de la barre:



4. Longueur de la barre:



5. Longueur de la barre:



6. Longueur de la barre:



7. Longueur de la barre:




8. Longueur de la barre:



9. Longueur de la barre:



10. Longueur de la barre:



Mesurer la longueur (J)

Nom: _____

Date: _____

Note: _____

Veillez mesurer la longueur de chaque barre au **quart de pouce** le plus près.

1. Longueur de la barre:



2. Longueur de la barre:



3. Longueur de la barre:



4. Longueur de la barre:



5. Longueur de la barre:



6. Longueur de la barre:



7. Longueur de la barre:



8. Longueur de la barre:



9. Longueur de la barre:



10. Longueur de la barre:



Mesurer la longueur (J) Réponses

Nom: _____

Date: _____

Note: _____

Veillez mesurer la longueur de chaque barre au **quart de pouce** le plus près.

1. Longueur de la barre:



2. Longueur de la barre:



3. Longueur de la barre:



4. Longueur de la barre:



5. Longueur de la barre:



6. Longueur de la barre:



7. Longueur de la barre:



8. Longueur de la barre:



9. Longueur de la barre:



10. Longueur de la barre:

