

# Mesurer la longueur (A)

Nom: \_\_\_\_\_

Date: \_\_\_\_\_

Note: \_\_\_\_\_

Veillez mesurer la longueur de chaque barre au **seizième de pouce** le plus près.

1.

Longueur de la barre:



2.

Longueur de la barre:



3.

Longueur de la barre:



4.

Longueur de la barre:



5.

Longueur de la barre:



6.

Longueur de la barre:



7.

Longueur de la barre:



8.

Longueur de la barre:



9.

Longueur de la barre:



10.

Longueur de la barre:



## Mesurer la longueur (A) Réponses

Nom: \_\_\_\_\_

Date: \_\_\_\_\_

Note: \_\_\_\_\_

Veillez mesurer la longueur de chaque barre au **seizième de pouce** le plus près.

1.

Longueur de la barre:

1 11/16 in



2.

Longueur de la barre:

3 3/8 in



3.

Longueur de la barre:

2 3/16 in



4.

Longueur de la barre:

3 5/8 in



5.

Longueur de la barre:

2 3/4 in



6.

Longueur de la barre:

2 1/2 in



7.

Longueur de la barre:

3 9/16 in



8.

Longueur de la barre:

4 1/16 in



9.

Longueur de la barre:

1 1/8 in



10.

Longueur de la barre:

4 7/8 in



## Mesurer la longueur (B)

Nom: \_\_\_\_\_

Date: \_\_\_\_\_

Note: \_\_\_\_\_

Veillez mesurer la longueur de chaque barre au **seizième de pouce** le plus près.

1. Longueur de la barre:



2. Longueur de la barre:



3. Longueur de la barre:



4. Longueur de la barre:



5. Longueur de la barre:



6. Longueur de la barre:



7. Longueur de la barre:



8. Longueur de la barre:



9. Longueur de la barre:



10. Longueur de la barre:



## Mesurer la longueur (B) Réponses

Nom: \_\_\_\_\_

Date: \_\_\_\_\_

Note: \_\_\_\_\_

Veillez mesurer la longueur de chaque barre au **seizième de pouce** le plus près.

1. Longueur de la barre:



2. Longueur de la barre:



3. Longueur de la barre:



4. Longueur de la barre:



5. Longueur de la barre:



6. Longueur de la barre:



7. Longueur de la barre:



8. Longueur de la barre:



9. Longueur de la barre:



10. Longueur de la barre:



# Mesurer la longueur (C)

Nom: \_\_\_\_\_

Date: \_\_\_\_\_

Note: \_\_\_\_\_

Veillez mesurer la longueur de chaque barre au **seizième de pouce** le plus près.

1. Longueur de la barre:



2. Longueur de la barre:



3. Longueur de la barre:



4. Longueur de la barre:



5. Longueur de la barre:



6. Longueur de la barre:



7. Longueur de la barre:



8. Longueur de la barre:



9. Longueur de la barre:



10. Longueur de la barre:



## Mesurer la longueur (C) Réponses

Nom: \_\_\_\_\_

Date: \_\_\_\_\_

Note: \_\_\_\_\_

Veillez mesurer la longueur de chaque barre au **seizième de pouce** le plus près.

1.

Longueur de la barre:

$6 \frac{7}{8}$  in



2.

Longueur de la barre:

$1 \frac{15}{16}$  in



3.

Longueur de la barre:

$5 \frac{7}{16}$  in



4.

Longueur de la barre:

$1 \frac{5}{16}$  in



5.

Longueur de la barre:

$1 \frac{3}{4}$  in



6.

Longueur de la barre:

$5 \frac{1}{4}$  in



7.

Longueur de la barre:

$1 \frac{13}{16}$  in



8.

Longueur de la barre:

$3 \frac{3}{8}$  in



9.

Longueur de la barre:

$3 \frac{1}{8}$  in



10.

Longueur de la barre:

$3 \frac{9}{16}$  in



## Mesurer la longueur (D)

Nom: \_\_\_\_\_

Date: \_\_\_\_\_

Note: \_\_\_\_\_

Veillez mesurer la longueur de chaque barre au **seizième de pouce** le plus près.

1. Longueur de la barre:



2. Longueur de la barre:



3. Longueur de la barre:



4. Longueur de la barre:



5. Longueur de la barre:



6. Longueur de la barre:



7. Longueur de la barre:



8. Longueur de la barre:



9. Longueur de la barre:



10. Longueur de la barre:



## Mesurer la longueur (D) Réponses

Nom: \_\_\_\_\_

Date: \_\_\_\_\_

Note: \_\_\_\_\_

Veillez mesurer la longueur de chaque barre au **seizième de pouce** le plus près.

1. Longueur de la barre:



2. Longueur de la barre:



3. Longueur de la barre:



4. Longueur de la barre:



5. Longueur de la barre:



6. Longueur de la barre:



7. Longueur de la barre:



8. Longueur de la barre:



9. Longueur de la barre:



10. Longueur de la barre:





# Mesurer la longueur (E)

Nom: \_\_\_\_\_

Date: \_\_\_\_\_

Note: \_\_\_\_\_

Veillez mesurer la longueur de chaque barre au **seizième de pouce** le plus près.

1.

Longueur de la barre:



2.

Longueur de la barre:



3.

Longueur de la barre:



4.

Longueur de la barre:



5.

Longueur de la barre:



6.

Longueur de la barre:



7.

Longueur de la barre:



8.

Longueur de la barre:



9.

Longueur de la barre:



10.

Longueur de la barre:



## Mesurer la longueur (E) Réponses

Nom: \_\_\_\_\_

Date: \_\_\_\_\_

Note: \_\_\_\_\_

Veillez mesurer la longueur de chaque barre au **seizième de pouce** le plus près.

1.

Longueur de la barre:

$2 \frac{1}{8}$  in



2.

Longueur de la barre:

$3 \frac{7}{8}$  in



3.

Longueur de la barre:

$3 \frac{1}{4}$  in



4.

Longueur de la barre:

$2 \frac{7}{16}$  in



5.

Longueur de la barre:

$6 \frac{1}{2}$  in



6.

Longueur de la barre:

$3 \frac{11}{16}$  in



7.

Longueur de la barre:

$1 \frac{3}{16}$  in



8.

Longueur de la barre:

$3 \frac{3}{8}$  in



9.

Longueur de la barre:

$4 \frac{3}{4}$  in



10.

Longueur de la barre:

$1 \frac{1}{16}$  in



## Mesurer la longueur (F)

Nom: \_\_\_\_\_

Date: \_\_\_\_\_

Note: \_\_\_\_\_

Veillez mesurer la longueur de chaque barre au **seizième de pouce** le plus près.

1. Longueur de la barre:



2. Longueur de la barre:



3. Longueur de la barre:



4. Longueur de la barre:



5. Longueur de la barre:



6. Longueur de la barre:



7. Longueur de la barre:



8. Longueur de la barre:



9. Longueur de la barre:



10. Longueur de la barre:



## Mesurer la longueur (F) Réponses

Nom: \_\_\_\_\_

Date: \_\_\_\_\_

Note: \_\_\_\_\_

Veillez mesurer la longueur de chaque barre au **seizième de pouce** le plus près.

1.

Longueur de la barre:

$2 \frac{1}{16}$  in



2.

Longueur de la barre:

$4 \frac{3}{4}$  in



3.

Longueur de la barre:

$1 \frac{3}{16}$  in



4.

Longueur de la barre:

$4 \frac{9}{16}$  in



5.

Longueur de la barre:

$5 \frac{13}{16}$  in



6.

Longueur de la barre:

$1 \frac{11}{16}$  in



7.

Longueur de la barre:

$4 \frac{15}{16}$  in



8.

Longueur de la barre:

$4 \frac{1}{8}$  in



9.

Longueur de la barre:

$5 \frac{1}{4}$  in



10.

Longueur de la barre:

$1 \frac{3}{8}$  in



# Mesurer la longueur (G)

Nom: \_\_\_\_\_

Date: \_\_\_\_\_

Note: \_\_\_\_\_

Veillez mesurer la longueur de chaque barre au **seizième de pouce** le plus près.

1. Longueur de la barre:



2. Longueur de la barre:



3. Longueur de la barre:



4. Longueur de la barre:



5. Longueur de la barre:



6. Longueur de la barre:



7. Longueur de la barre:



8. Longueur de la barre:



9. Longueur de la barre:



10. Longueur de la barre:



## Mesurer la longueur (G) Réponses

Nom: \_\_\_\_\_

Date: \_\_\_\_\_

Note: \_\_\_\_\_

Veillez mesurer la longueur de chaque barre au **seizième de pouce** le plus près.

1. Longueur de la barre:



2. Longueur de la barre:



3. Longueur de la barre:



4. Longueur de la barre:



5. Longueur de la barre:



6. Longueur de la barre:



7. Longueur de la barre:



8. Longueur de la barre:



9. Longueur de la barre:



10. Longueur de la barre:



# Mesurer la longueur (H)

Nom: \_\_\_\_\_

Date: \_\_\_\_\_

Note: \_\_\_\_\_

Veillez mesurer la longueur de chaque barre au **seizième de pouce** le plus près.

1. Longueur de la barre:



2. Longueur de la barre:



3. Longueur de la barre:



4. Longueur de la barre:



5. Longueur de la barre:



6. Longueur de la barre:



7. Longueur de la barre:



8. Longueur de la barre:



9. Longueur de la barre:



10. Longueur de la barre:



## Mesurer la longueur (H) Réponses

Nom: \_\_\_\_\_

Date: \_\_\_\_\_

Note: \_\_\_\_\_

Veillez mesurer la longueur de chaque barre au **seizième de pouce** le plus près.

1.

Longueur de la barre:

$1 \frac{1}{8}$  in



2.

Longueur de la barre:

$3 \frac{9}{16}$  in



3.

Longueur de la barre:

$2 \frac{5}{16}$  in



4.

Longueur de la barre:

$2 \frac{7}{16}$  in



5.

Longueur de la barre:

$5 \frac{15}{16}$  in



6.

Longueur de la barre:

$3 \frac{3}{8}$  in



7.

Longueur de la barre:

$3 \frac{3}{4}$  in



8.

Longueur de la barre:

$6 \frac{13}{16}$  in



9.

Longueur de la barre:

2 in



10.

Longueur de la barre:

$1 \frac{1}{16}$  in





# Mesurer la longueur (I)

Nom: \_\_\_\_\_

Date: \_\_\_\_\_

Note: \_\_\_\_\_

Veillez mesurer la longueur de chaque barre au **seizième de pouce** le plus près.

1.

Longueur de la barre:



2.

Longueur de la barre:



3.

Longueur de la barre:



4.

Longueur de la barre:



5.

Longueur de la barre:



6.

Longueur de la barre:



7.

Longueur de la barre:




8.

Longueur de la barre:




9.

Longueur de la barre:



10.

Longueur de la barre:



## Mesurer la longueur (I) Réponses

Nom: \_\_\_\_\_

Date: \_\_\_\_\_

Note: \_\_\_\_\_

Veillez mesurer la longueur de chaque barre au **seizième de pouce** le plus près.

1.

Longueur de la barre:


$1 \frac{3}{8}$  in



2.

Longueur de la barre:


$2 \frac{15}{16}$  in



3.

Longueur de la barre:


$6 \frac{7}{16}$  in



4.

Longueur de la barre:

$4 \frac{7}{8}$  in



5.

Longueur de la barre:


$6 \frac{1}{4}$  in



6.

Longueur de la barre:

$1 \frac{5}{16}$  in



7.

Longueur de la barre:

$6 \frac{13}{16}$  in



8.

Longueur de la barre:


3 in



9.

Longueur de la barre:


$3 \frac{5}{8}$  in



10.

Longueur de la barre:

$6 \frac{11}{16}$  in



# Mesurer la longueur (J)

Nom: \_\_\_\_\_

Date: \_\_\_\_\_

Note: \_\_\_\_\_

Veillez mesurer la longueur de chaque barre au **seizième de pouce** le plus près.

1. Longueur de la barre:



2. Longueur de la barre:



3. Longueur de la barre:



4. Longueur de la barre:



5. Longueur de la barre:



6. Longueur de la barre:



7. Longueur de la barre:



8. Longueur de la barre:



9. Longueur de la barre:



10. Longueur de la barre:



## Mesurer la longueur (J) Réponses

Nom: \_\_\_\_\_

Date: \_\_\_\_\_

Note: \_\_\_\_\_

Veillez mesurer la longueur de chaque barre au **seizième de pouce** le plus près.

1. Longueur de la barre:



2. Longueur de la barre:



3. Longueur de la barre:



4. Longueur de la barre:



5. Longueur de la barre:



6. Longueur de la barre:



7. Longueur de la barre:



8. Longueur de la barre:



9. Longueur de la barre:



10. Longueur de la barre:

