



Comptage de Chapeaux des Leprechauns (D)

Comptez combien de chapeaux des Leprechauns sont dans chaque groupe?


1. Il y a ____ chapeaux des Leprechauns dans le groupe ci-dessous.




2. Il y a ____ chapeaux des Leprechauns dans le groupe ci-dessous.



3. Il y a ____ chapeaux des Leprechauns dans le groupe ci-dessous.



4. Il y a ____ chapeaux des Leprechauns dans le groupe ci-dessous.



5. Il y a ____ chapeaux des Leprechauns dans le groupe ci-dessous.



6. Il y a ____ chapeaux des Leprechauns dans le groupe ci-dessous.

