


## Comptage de Chapeaux des Leprechauns (B)

Comptez combien de chapeaux des Leprechauns sont dans chaque groupe?

1. Il y a \_\_\_\_ chapeaux des Leprechauns dans le groupe ci-dessous.




2. Il y a \_\_\_\_ chapeaux des Leprechauns dans le groupe ci-dessous.



3. Il y a \_\_\_\_ chapeaux des Leprechauns dans le groupe ci-dessous.



4. Il y a \_\_\_\_ chapeaux des Leprechauns dans le groupe ci-dessous.



5. Il y a \_\_\_\_ chapeaux des Leprechauns dans le groupe ci-dessous.




6. Il y a \_\_\_\_ chapeaux des Leprechauns dans le groupe ci-dessous.



## Comptage de Chapeaux des Leprechauns (B) Réponses

Comptez combien de chapeaux des Leprechauns sont dans chaque groupe?

1. Il y a 35 chapeaux des Leprechauns dans le groupe ci-dessous.



2. Il y a 10 chapeaux des Leprechauns dans le groupe ci-dessous.



3. Il y a 18 chapeaux des Leprechauns dans le groupe ci-dessous.



4. Il y a 20 chapeaux des Leprechauns dans le groupe ci-dessous.



5. Il y a 14 chapeaux des Leprechauns dans le groupe ci-dessous.



6. Il y a 12 chapeaux des Leprechauns dans le groupe ci-dessous.

