

Comptage de Chapeaux des Leprechauns (A)

Comptez combien de chapeaux des Leprechauns sont dans chaque groupe?

1. Il y a ____ chapeaux des Leprechauns dans le groupe ci-dessous.



2. Il y a ____ chapeaux des Leprechauns dans le groupe ci-dessous.



3. Il y a ____ chapeaux des Leprechauns dans le groupe ci-dessous.



4. Il y a ____ chapeaux des Leprechauns dans le groupe ci-dessous.



5. Il y a ____ chapeaux des Leprechauns dans le groupe ci-dessous.



6. Il y a ____ chapeaux des Leprechauns dans le groupe ci-dessous.



Comptage de Chapeaux des Leprechauns (A) Réponses

Comptez combien de chapeaux des Leprechauns sont dans chaque groupe?

1. Il y a 12 chapeaux des Leprechauns dans le groupe ci-dessous.




2. Il y a 5 chapeaux des Leprechauns dans le groupe ci-dessous.



3. Il y a 9 chapeaux des Leprechauns dans le groupe ci-dessous.



4. Il y a 30 chapeaux des Leprechauns dans le groupe ci-dessous.



5. Il y a 6 chapeaux des Leprechauns dans le groupe ci-dessous.



6. Il y a 4 chapeaux des Leprechauns dans le groupe ci-dessous.



Comptage de Chapeaux des Leprechauns (B)

Comptez combien de chapeaux des Leprechauns sont dans chaque groupe?

1. Il y a ____ chapeaux des Leprechauns dans le groupe ci-dessous.



2. Il y a ____ chapeaux des Leprechauns dans le groupe ci-dessous.



3. Il y a ____ chapeaux des Leprechauns dans le groupe ci-dessous.



4. Il y a ____ chapeaux des Leprechauns dans le groupe ci-dessous.



5. Il y a ____ chapeaux des Leprechauns dans le groupe ci-dessous.



6. Il y a ____ chapeaux des Leprechauns dans le groupe ci-dessous.



Comptage de Chapeaux des Leprechauns (B) Réponses

Comptez combien de chapeaux des Leprechauns sont dans chaque groupe?

1. Il y a 6 chapeaux des Leprechauns dans le groupe ci-dessous.



2. Il y a 6 chapeaux des Leprechauns dans le groupe ci-dessous.



3. Il y a 8 chapeaux des Leprechauns dans le groupe ci-dessous.



4. Il y a 7 chapeaux des Leprechauns dans le groupe ci-dessous.



5. Il y a 4 chapeaux des Leprechauns dans le groupe ci-dessous.




6. Il y a 21 chapeaux des Leprechauns dans le groupe ci-dessous.



Comptage de Chapeaux des Leprechauns (C)

Comptez combien de chapeaux des Leprechauns sont dans chaque groupe?

1. Il y a ____ chapeaux des Leprechauns dans le groupe ci-dessous.



2. Il y a ____ chapeaux des Leprechauns dans le groupe ci-dessous.



3. Il y a ____ chapeaux des Leprechauns dans le groupe ci-dessous.



4. Il y a ____ chapeaux des Leprechauns dans le groupe ci-dessous.



5. Il y a ____ chapeaux des Leprechauns dans le groupe ci-dessous.




6. Il y a ____ chapeaux des Leprechauns dans le groupe ci-dessous.



Comptage de Chapeaux des Leprechauns (C) Réponses

Comptez combien de chapeaux des Leprechauns sont dans chaque groupe?

1. Il y a 16 chapeaux des Leprechauns dans le groupe ci-dessous.



2. Il y a 2 chapeaux des Leprechauns dans le groupe ci-dessous.



3. Il y a 11 chapeaux des Leprechauns dans le groupe ci-dessous.



4. Il y a 4 chapeaux des Leprechauns dans le groupe ci-dessous.



5. Il y a 5 chapeaux des Leprechauns dans le groupe ci-dessous.



6. Il y a 9 chapeaux des Leprechauns dans le groupe ci-dessous.



Comptage de Chapeaux des Leprechauns (D)

Comptez combien de chapeaux des Leprechauns sont dans chaque groupe?

1. Il y a ____ chapeaux des Leprechauns dans le groupe ci-dessous.




2. Il y a ____ chapeaux des Leprechauns dans le groupe ci-dessous.



3. Il y a ____ chapeaux des Leprechauns dans le groupe ci-dessous.



4. Il y a ____ chapeaux des Leprechauns dans le groupe ci-dessous.



5. Il y a ____ chapeaux des Leprechauns dans le groupe ci-dessous.



6. Il y a ____ chapeaux des Leprechauns dans le groupe ci-dessous.



Comptage de Chapeaux des Leprechauns (D) Réponses

Comptez combien de chapeaux des Leprechauns sont dans chaque groupe?

1. Il y a 5 chapeaux des Leprechauns dans le groupe ci-dessous.




2. Il y a 6 chapeaux des Leprechauns dans le groupe ci-dessous.



3. Il y a 2 chapeaux des Leprechauns dans le groupe ci-dessous.



4. Il y a 20 chapeaux des Leprechauns dans le groupe ci-dessous.



5. Il y a 10 chapeaux des Leprechauns dans le groupe ci-dessous.



6. Il y a 3 chapeaux des Leprechauns dans le groupe ci-dessous.



Comptage de Chapeaux des Leprechauns (E)

Comptez combien de chapeaux des Leprechauns sont dans chaque groupe?

1. Il y a ____ chapeaux des Leprechauns dans le groupe ci-dessous.




2. Il y a ____ chapeaux des Leprechauns dans le groupe ci-dessous.




3. Il y a ____ chapeaux des Leprechauns dans le groupe ci-dessous.



4. Il y a ____ chapeaux des Leprechauns dans le groupe ci-dessous.



5. Il y a ____ chapeaux des Leprechauns dans le groupe ci-dessous.



6. Il y a ____ chapeaux des Leprechauns dans le groupe ci-dessous.



Comptage de Chapeaux des Leprechauns (E) Réponses

Comptez combien de chapeaux des Leprechauns sont dans chaque groupe?

1. Il y a 9 chapeaux des Leprechauns dans le groupe ci-dessous.




2. Il y a 10 chapeaux des Leprechauns dans le groupe ci-dessous.




3. Il y a 5 chapeaux des Leprechauns dans le groupe ci-dessous.



4. Il y a 20 chapeaux des Leprechauns dans le groupe ci-dessous.



5. Il y a 12 chapeaux des Leprechauns dans le groupe ci-dessous.




6. Il y a 10 chapeaux des Leprechauns dans le groupe ci-dessous.



Comptage de Chapeaux des Leprechauns (F)

Comptez combien de chapeaux des Leprechauns sont dans chaque groupe?

1. Il y a ____ chapeaux des Leprechauns dans le groupe ci-dessous.



2. Il y a ____ chapeaux des Leprechauns dans le groupe ci-dessous.



3. Il y a ____ chapeaux des Leprechauns dans le groupe ci-dessous.



4. Il y a ____ chapeaux des Leprechauns dans le groupe ci-dessous.



5. Il y a ____ chapeaux des Leprechauns dans le groupe ci-dessous.




6. Il y a ____ chapeaux des Leprechauns dans le groupe ci-dessous.



Comptage de Chapeaux des Leprechauns (F) Réponses

Comptez combien de chapeaux des Leprechauns sont dans chaque groupe?

1. Il y a 28 chapeaux des Leprechauns dans le groupe ci-dessous.



2. Il y a 14 chapeaux des Leprechauns dans le groupe ci-dessous.



3. Il y a 4 chapeaux des Leprechauns dans le groupe ci-dessous.



4. Il y a 4 chapeaux des Leprechauns dans le groupe ci-dessous.



5. Il y a 6 chapeaux des Leprechauns dans le groupe ci-dessous.



6. Il y a 12 chapeaux des Leprechauns dans le groupe ci-dessous.




Comptage de Chapeaux des Leprechauns (G)

Comptez combien de chapeaux des Leprechauns sont dans chaque groupe?

1. Il y a ____ chapeaux des Leprechauns dans le groupe ci-dessous.



2. Il y a ____ chapeaux des Leprechauns dans le groupe ci-dessous.



3. Il y a ____ chapeaux des Leprechauns dans le groupe ci-dessous.



4. Il y a ____ chapeaux des Leprechauns dans le groupe ci-dessous.



5. Il y a ____ chapeaux des Leprechauns dans le groupe ci-dessous.



6. Il y a ____ chapeaux des Leprechauns dans le groupe ci-dessous.




Comptage de Chapeaux des Leprechauns (G) Réponses

Comptez combien de chapeaux des Leprechauns sont dans chaque groupe?

1. Il y a 9 chapeaux des Leprechauns dans le groupe ci-dessous.



2. Il y a 36 chapeaux des Leprechauns dans le groupe ci-dessous.



3. Il y a 3 chapeaux des Leprechauns dans le groupe ci-dessous.



4. Il y a 9 chapeaux des Leprechauns dans le groupe ci-dessous.



5. Il y a 2 chapeaux des Leprechauns dans le groupe ci-dessous.



6. Il y a 6 chapeaux des Leprechauns dans le groupe ci-dessous.



Comptage de Chapeaux des Leprechauns (H)

Comptez combien de chapeaux des Leprechauns sont dans chaque groupe?

1. Il y a ____ chapeaux des Leprechauns dans le groupe ci-dessous.



2. Il y a ____ chapeaux des Leprechauns dans le groupe ci-dessous.



3. Il y a ____ chapeaux des Leprechauns dans le groupe ci-dessous.



4. Il y a ____ chapeaux des Leprechauns dans le groupe ci-dessous.



5. Il y a ____ chapeaux des Leprechauns dans le groupe ci-dessous.



6. Il y a ____ chapeaux des Leprechauns dans le groupe ci-dessous.



Comptage de Chapeaux des Leprechauns (H) Réponses

Comptez combien de chapeaux des Leprechauns sont dans chaque groupe?

1. Il y a 7 chapeaux des Leprechauns dans le groupe ci-dessous.



2. Il y a 14 chapeaux des Leprechauns dans le groupe ci-dessous.



3. Il y a 6 chapeaux des Leprechauns dans le groupe ci-dessous.



4. Il y a 7 chapeaux des Leprechauns dans le groupe ci-dessous.



5. Il y a 6 chapeaux des Leprechauns dans le groupe ci-dessous.



6. Il y a 3 chapeaux des Leprechauns dans le groupe ci-dessous.



Comptage de Chapeaux des Leprechauns (I)

Comptez combien de chapeaux des Leprechauns sont dans chaque groupe?

1. Il y a ____ chapeaux des Leprechauns dans le groupe ci-dessous.



2. Il y a ____ chapeaux des Leprechauns dans le groupe ci-dessous.



3. Il y a ____ chapeaux des Leprechauns dans le groupe ci-dessous.



4. Il y a ____ chapeaux des Leprechauns dans le groupe ci-dessous.



5. Il y a ____ chapeaux des Leprechauns dans le groupe ci-dessous.



6. Il y a ____ chapeaux des Leprechauns dans le groupe ci-dessous.



Comptage de Chapeaux des Leprechauns (I) Réponses

Comptez combien de chapeaux des Leprechauns sont dans chaque groupe?

1. Il y a 6 chapeaux des Leprechauns dans le groupe ci-dessous.



2. Il y a 8 chapeaux des Leprechauns dans le groupe ci-dessous.



3. Il y a 15 chapeaux des Leprechauns dans le groupe ci-dessous.



4. Il y a 5 chapeaux des Leprechauns dans le groupe ci-dessous.



5. Il y a 9 chapeaux des Leprechauns dans le groupe ci-dessous.



6. Il y a 6 chapeaux des Leprechauns dans le groupe ci-dessous.



Comptage de Chapeaux des Leprechauns (J)

Comptez combien de chapeaux des Leprechauns sont dans chaque groupe?

1. Il y a ____ chapeaux des Leprechauns dans le groupe ci-dessous.




2. Il y a ____ chapeaux des Leprechauns dans le groupe ci-dessous.




3. Il y a ____ chapeaux des Leprechauns dans le groupe ci-dessous.



4. Il y a ____ chapeaux des Leprechauns dans le groupe ci-dessous.



5. Il y a ____ chapeaux des Leprechauns dans le groupe ci-dessous.



6. Il y a ____ chapeaux des Leprechauns dans le groupe ci-dessous.



Comptage de Chapeaux des Leprechauns (J) Réponses

Comptez combien de chapeaux des Leprechauns sont dans chaque groupe?

1. Il y a 8 chapeaux des Leprechauns dans le groupe ci-dessous.




2. Il y a 7 chapeaux des Leprechauns dans le groupe ci-dessous.




3. Il y a 8 chapeaux des Leprechauns dans le groupe ci-dessous.



4. Il y a 16 chapeaux des Leprechauns dans le groupe ci-dessous.



5. Il y a 42 chapeaux des Leprechauns dans le groupe ci-dessous.



6. Il y a 6 chapeaux des Leprechauns dans le groupe ci-dessous.

