

# Tir à la Cible avec une Boule de Neige (B)

Nom: \_\_\_\_\_

Date: \_\_\_\_\_

Lancez chaque boule de neige à la cible correcte.

$$\begin{array}{r} 36 \\ + 69 \\ \hline \end{array}$$



$$\begin{array}{r} 84 \\ + 32 \\ \hline \end{array}$$



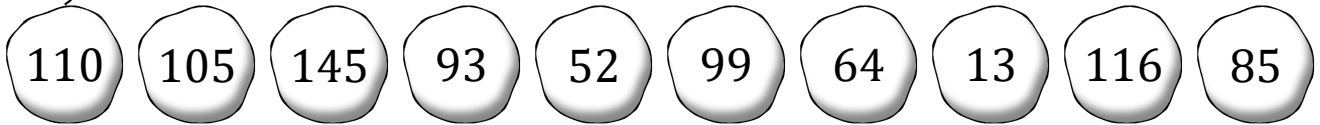
$$\begin{array}{r} 13 \\ + 97 \\ \hline \end{array}$$



$$\begin{array}{r} 46 \\ - 33 \\ \hline \end{array}$$



$$\begin{array}{r} 123 \\ - 24 \\ \hline \end{array}$$



$$\begin{array}{r} 130 \\ - 78 \\ \hline \end{array}$$



$$\begin{array}{r} 30 \\ + 55 \\ \hline \end{array}$$



$$\begin{array}{r} 53 \\ + 40 \\ \hline \end{array}$$



$$\begin{array}{r} 60 \\ + 85 \\ \hline \end{array}$$








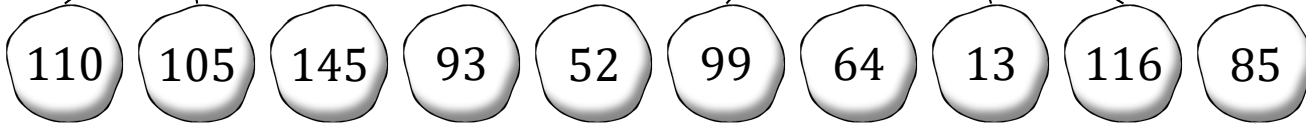





$$\begin{array}{r} 103 \\ - 39 \\ \hline \end{array}$$

# Tir à la Cible avec une Boule de Neige (B) Réponses

Nom: \_\_\_\_\_

Date: \_\_\_\_\_

Lancez chaque boule de neige à la cible correcte.

$\begin{array}{r} 36 \\ + 69 \\ \hline \end{array}$	$\begin{array}{r} 84 \\ + 32 \\ \hline \end{array}$	$\begin{array}{r} 13 \\ + 97 \\ \hline \end{array}$	$\begin{array}{r} 46 \\ - 33 \\ \hline \end{array}$	$\begin{array}{r} 123 \\ - 24 \\ \hline \end{array}$					
									
									
									
$\begin{array}{r} 130 \\ - 78 \\ \hline \end{array}$	$\begin{array}{r} 30 \\ + 55 \\ \hline \end{array}$	$\begin{array}{r} 53 \\ + 40 \\ \hline \end{array}$	$\begin{array}{r} 60 \\ + 85 \\ \hline \end{array}$	$\begin{array}{r} 103 \\ - 39 \\ \hline \end{array}$					