

COMPTER HALLOWEEN (B)

Nom: _____

Date: _____

Score: _____ /4

Comptez le nombre d'objets dans chaque groupe.


1. Il y a citrouilles d'Halloween.




2. Il y a chauves-souris.



3. Il y a sorcières.



4. Il y a fantômes.



COMPTER HALLOWEEN (B) REPONSES

Nom: _____

Date: _____

Score: _____ /4

Comptez le nombre d'objets dans chaque groupe.


1. Il y a citrouilles d'Halloween.



2. Il y a chauves-souris.



3. Il y a sorcières.



4. Il y a fantômes.

