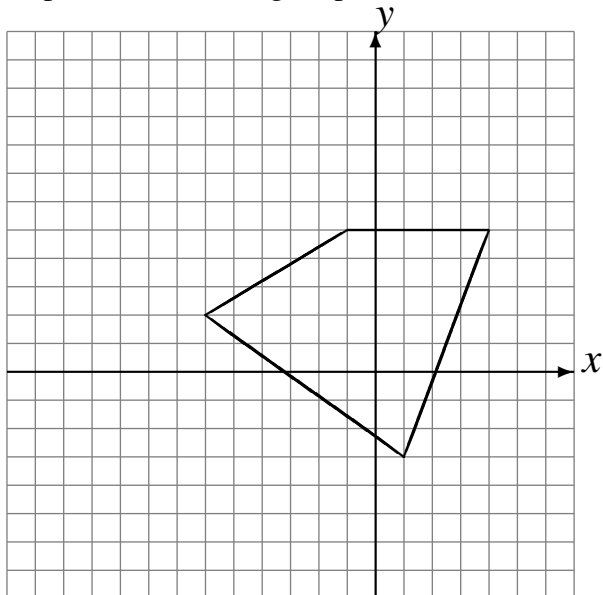


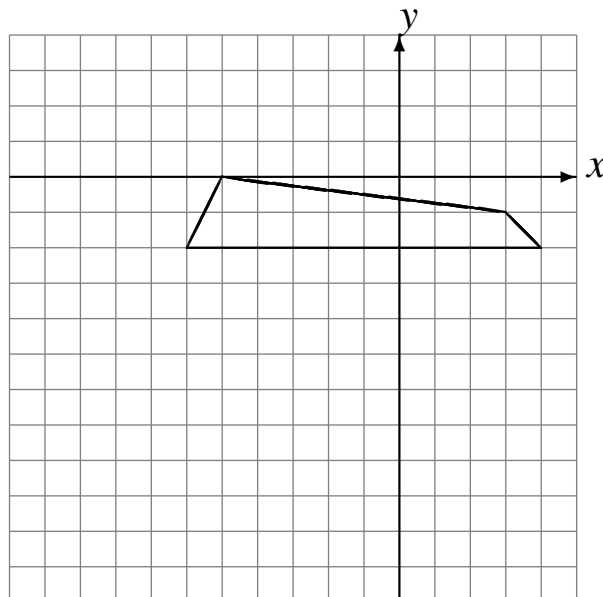
Translations (I)

Dessinez l'image finale et les étapes intermédiaires de la translation décrite.

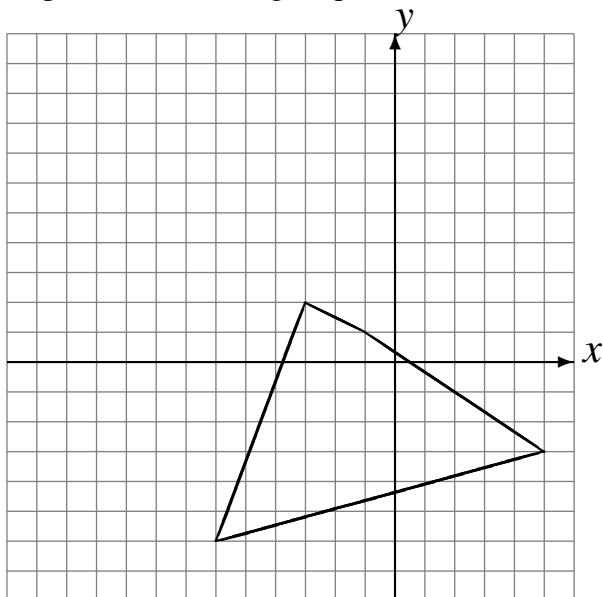
Déplacement de la figure par $(2, 4)$.
Déplacement de la figure par $(-4, -3)$.
Déplacement de la figure par $(-4, -3)$.



Déplacement de la figure par $(-2, -6)$.
Déplacement de la figure par $(0, 3)$.
Déplacement de la figure par $(-2, 0)$.



Déplacement de la figure par $(-2, 6)$.
Déplacement de la figure par $(-4, 0)$.
Déplacement de la figure par $(6, -1)$.



Déplacement de la figure par $(-3, 0)$.
Déplacement de la figure par $(5, 2)$.
Déplacement de la figure par $(6, -1)$.

