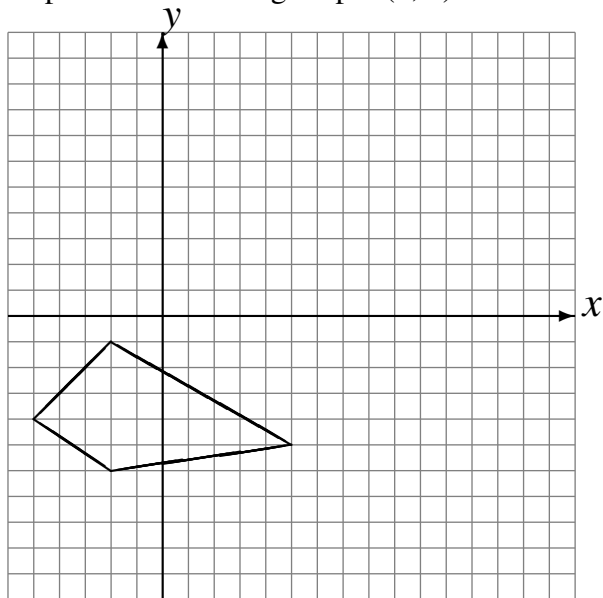


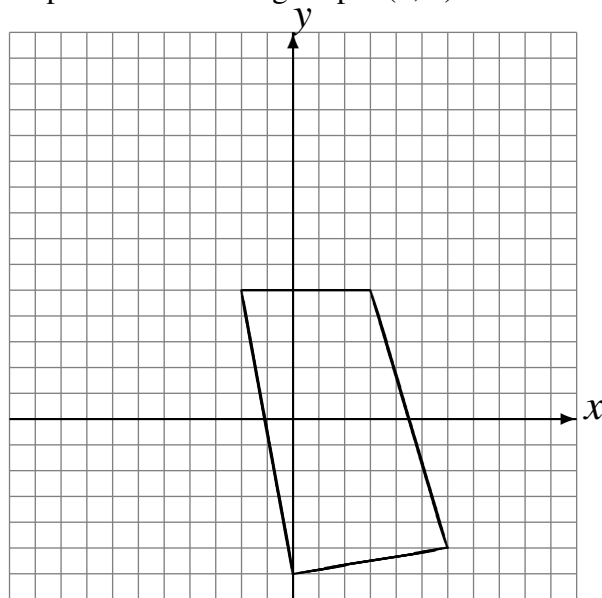
# Translations (H)

Dessinez l'image finale et les étapes intermédiaires de la translation décrite.

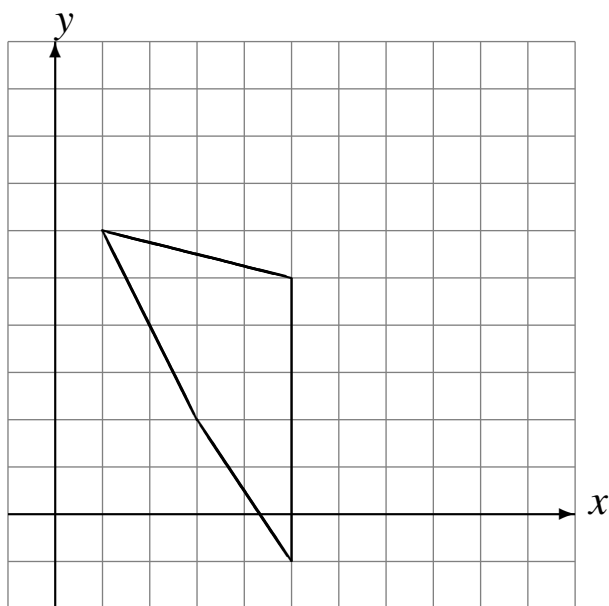
Déplacement de la figure par  $(5, 6)$ .  
Déplacement de la figure par  $(0, -6)$ .  
Déplacement de la figure par  $(5, 1)$ .



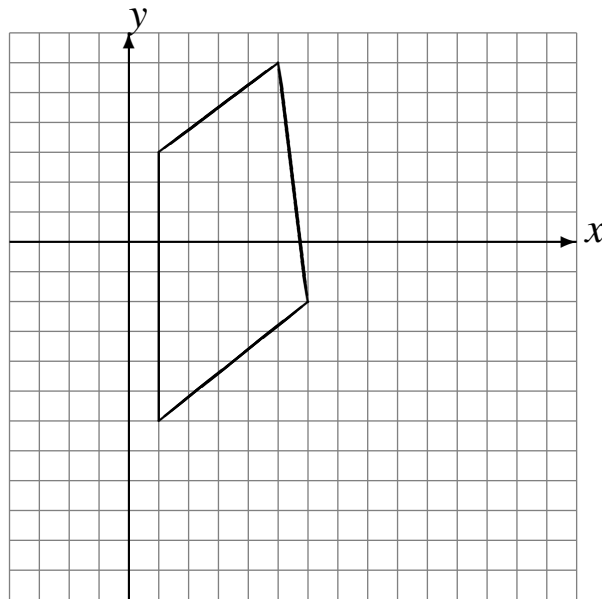
Déplacement de la figure par  $(-4, 0)$ .  
Déplacement de la figure par  $(2, 3)$ .  
Déplacement de la figure par  $(0, 6)$ .



Déplacement de la figure par  $(-1, 3)$ .  
Déplacement de la figure par  $(6, -2)$ .  
Déplacement de la figure par  $(-4, 1)$ .



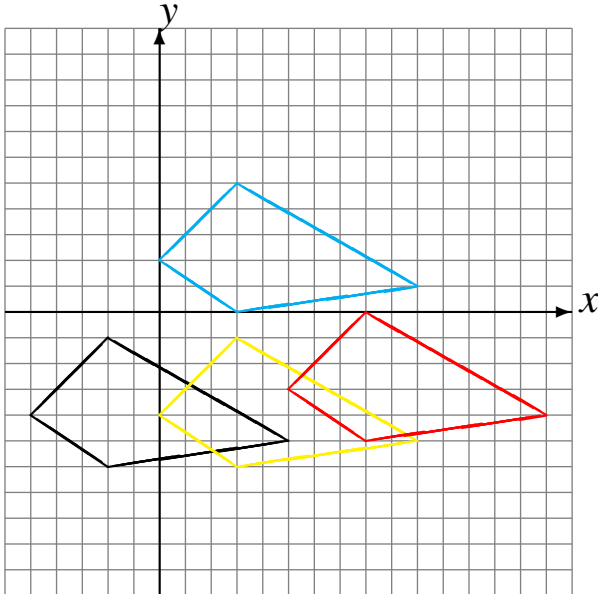
Déplacement de la figure par  $(0, -4)$ .  
Déplacement de la figure par  $(4, -1)$ .  
Déplacement de la figure par  $(-3, 3)$ .



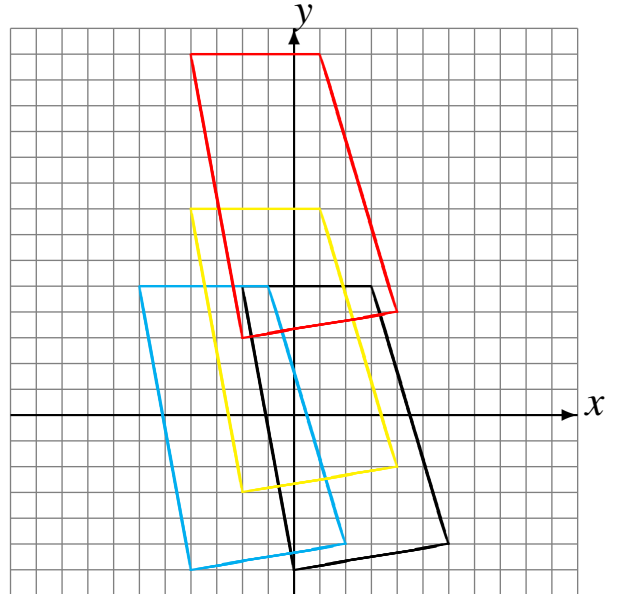
# Translations (H) Solutions

Dessinez l'image finale et les étapes intermédiaires de la translation décrite.

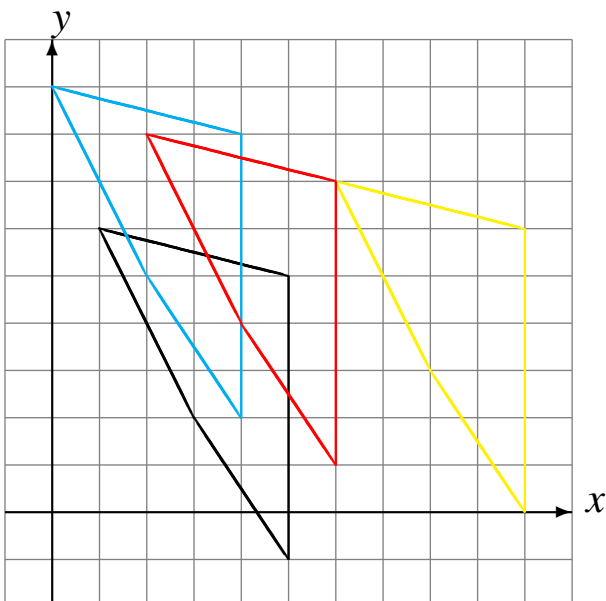
Déplacement de la figure par  $(5, 6)$ .  
Déplacement de la figure par  $(0, -6)$ .  
Déplacement de la figure par  $(5, 1)$ .



Déplacement de la figure par  $(-4, 0)$ .  
Déplacement de la figure par  $(2, 3)$ .  
Déplacement de la figure par  $(0, 6)$ .



Déplacement de la figure par  $(-1, 3)$ .  
Déplacement de la figure par  $(6, -2)$ .  
Déplacement de la figure par  $(-4, 1)$ .



Déplacement de la figure par  $(0, -4)$ .  
Déplacement de la figure par  $(4, -1)$ .  
Déplacement de la figure par  $(-3, 3)$ .

