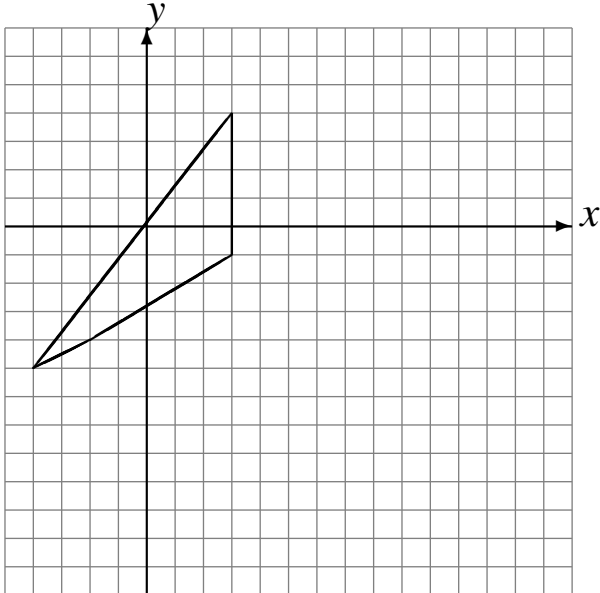


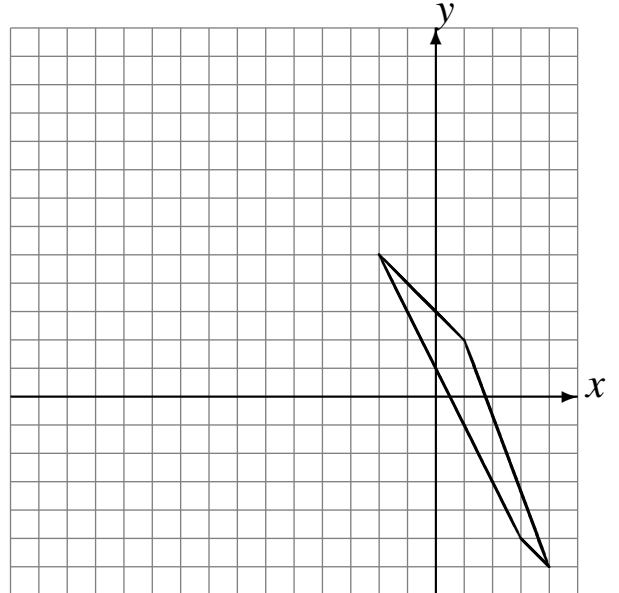
# Translations (F)

Dessinez l'image finale et les étapes intermédiaires de la translation décrite.

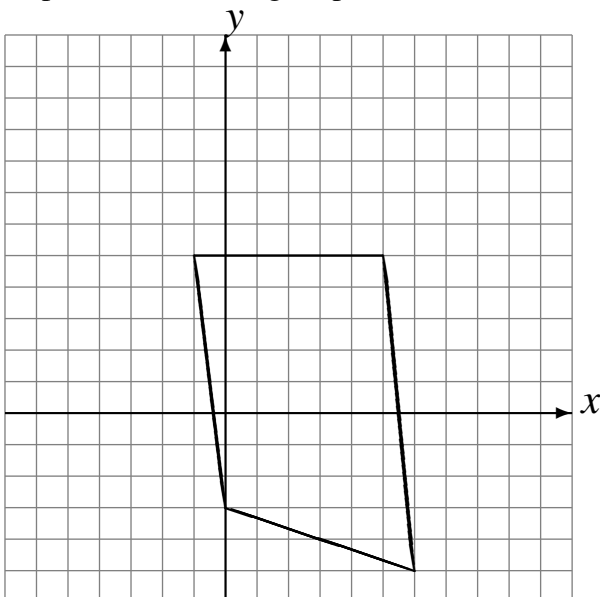
Déplacement de la figure par  $(4, -5)$ .  
Déplacement de la figure par  $(3, -1)$ .  
Déplacement de la figure par  $(4, 5)$ .



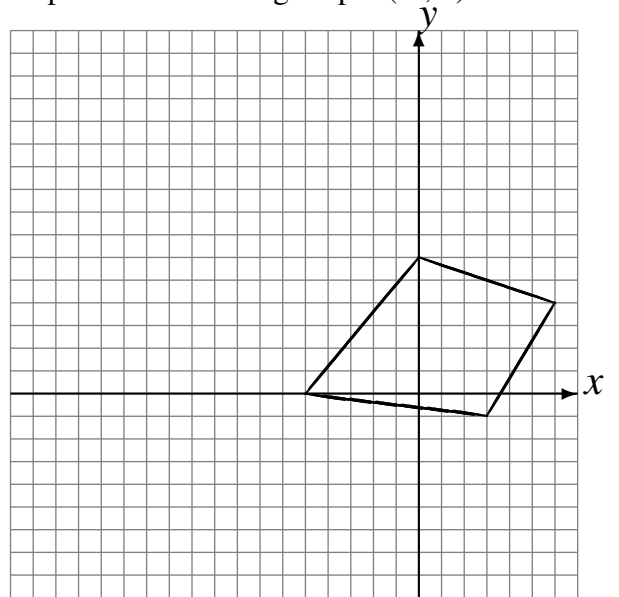
Déplacement de la figure par  $(-4, 6)$ .  
Déplacement de la figure par  $(-2, 0)$ .  
Déplacement de la figure par  $(-6, -3)$ .



Déplacement de la figure par  $(-2, 6)$ .  
Déplacement de la figure par  $(1, 0)$ .  
Déplacement de la figure par  $(0, 0)$ .



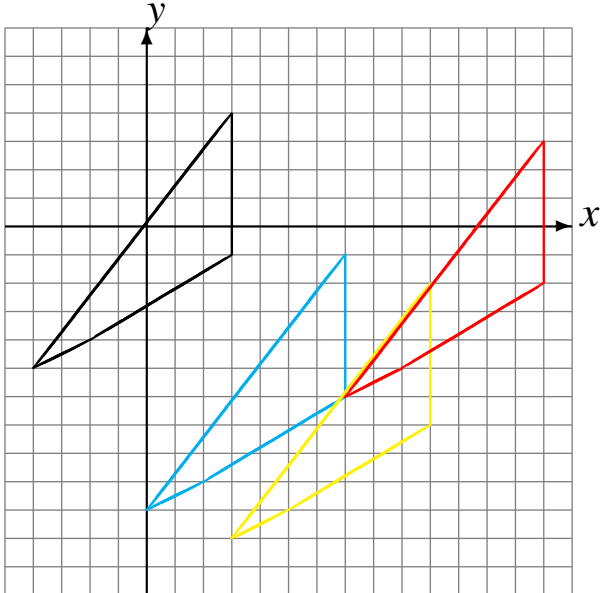
Déplacement de la figure par  $(-5, -4)$ .  
Déplacement de la figure par  $(-6, 4)$ .  
Déplacement de la figure par  $(-1, 6)$ .



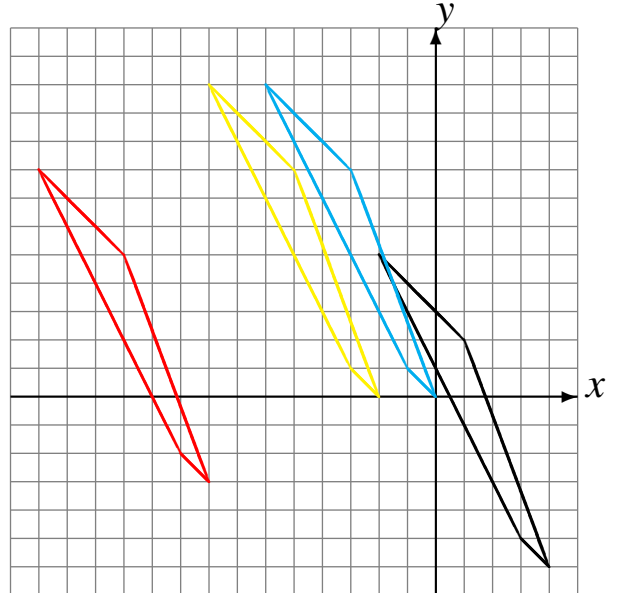
# Translations (F) Solutions

Dessinez l'image finale et les étapes intermédiaires de la translation décrite.

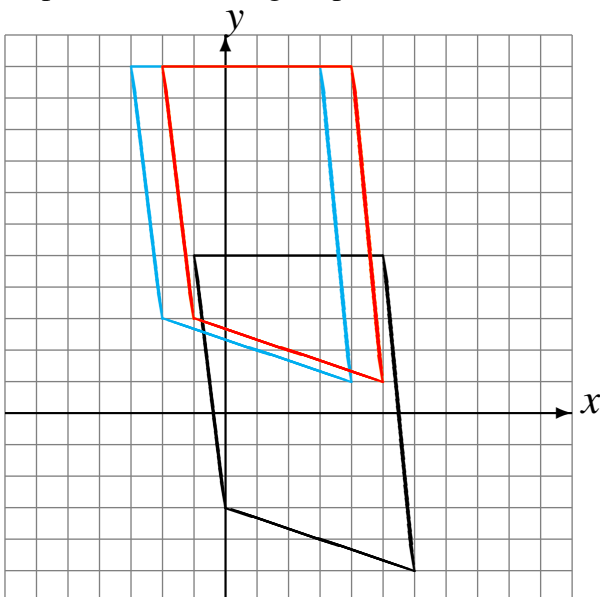
Déplacement de la figure par  $(4, -5)$ .  
Déplacement de la figure par  $(3, -1)$ .  
Déplacement de la figure par  $(4, 5)$ .



Déplacement de la figure par  $(-4, 6)$ .  
Déplacement de la figure par  $(-2, 0)$ .  
Déplacement de la figure par  $(-6, -3)$ .



Déplacement de la figure par  $(-2, 6)$ .  
Déplacement de la figure par  $(1, 0)$ .  
Déplacement de la figure par  $(0, 0)$ .



Déplacement de la figure par  $(-5, -4)$ .  
Déplacement de la figure par  $(-6, 4)$ .  
Déplacement de la figure par  $(-1, 6)$ .

