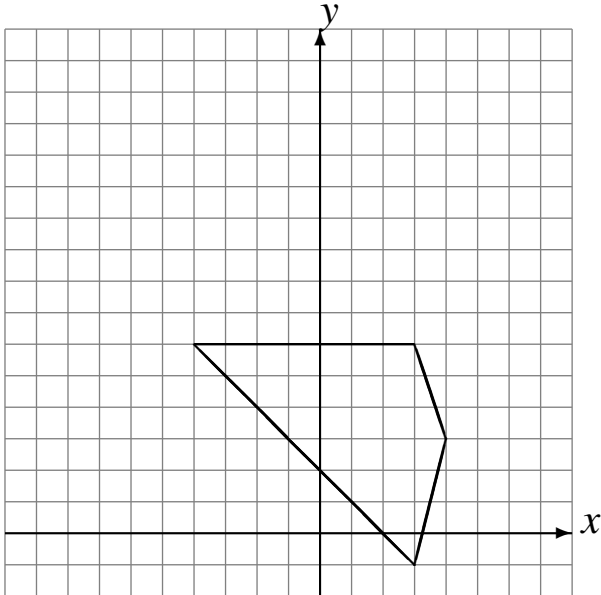


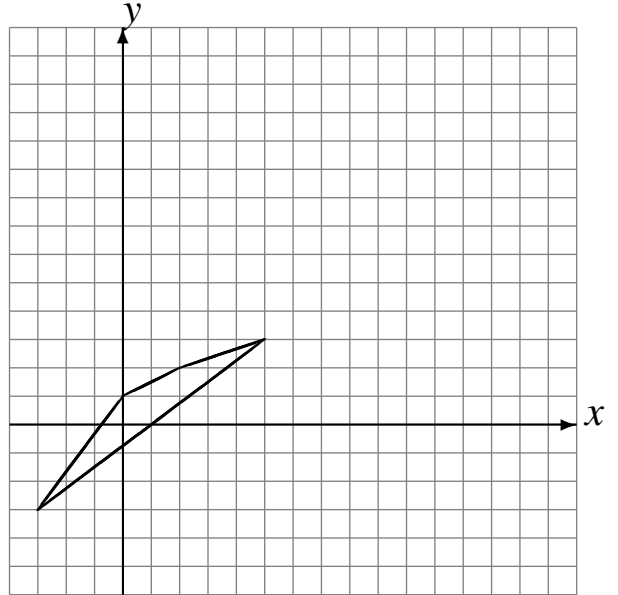
Translations (D)

Dessinez l'image finale et les étapes intermédiaires de la translation décrite.

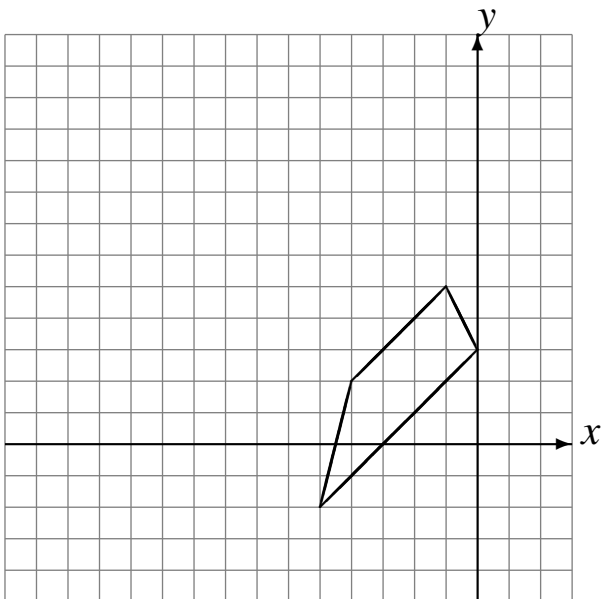
Déplacement de la figure par $(-3, 6)$.
Déplacement de la figure par $(2, 3)$.
Déplacement de la figure par $(-2, -4)$.



Déplacement de la figure par $(4, 1)$.
Déplacement de la figure par $(3, 6)$.
Déplacement de la figure par $(3, -1)$.



Déplacement de la figure par $(2, 6)$.
Déplacement de la figure par $(-6, -3)$.
Déplacement de la figure par $(-5, -5)$.



Déplacement de la figure par $(-3, -6)$.
Déplacement de la figure par $(-5, -3)$.
Déplacement de la figure par $(6, 0)$.

