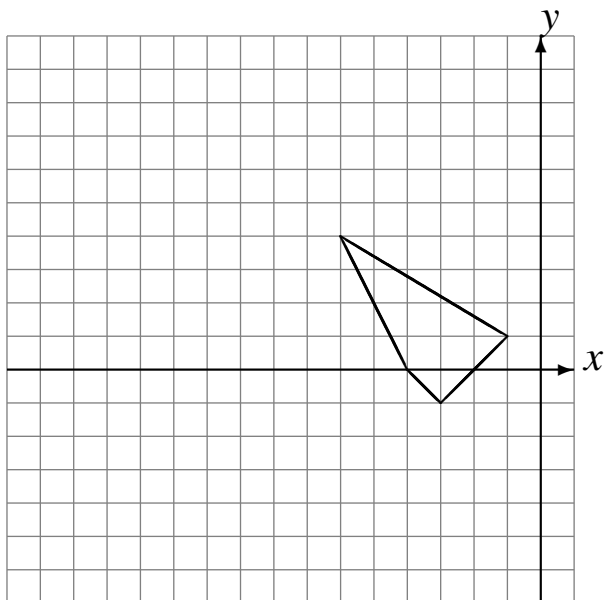


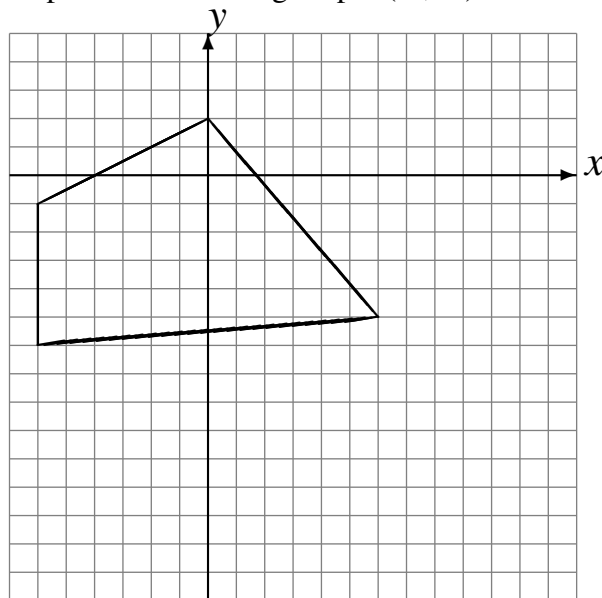
## Translations (B)

Dessinez l'image finale et les étapes intermédiaires de la translation décrite.

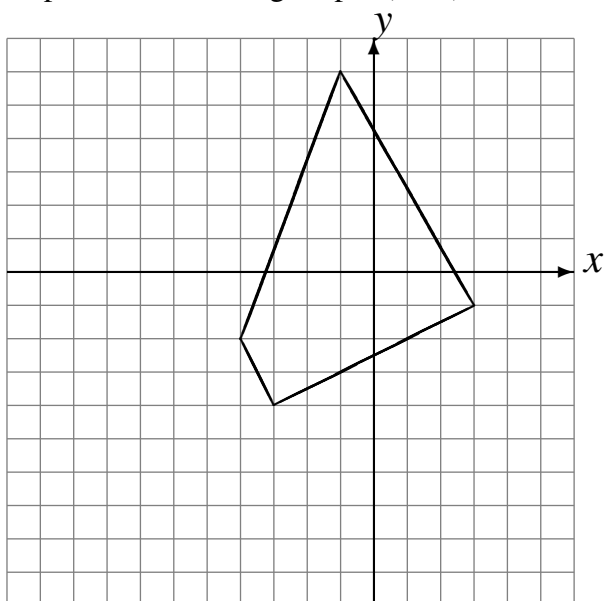
Déplacement de la figure par  $(-2, -1)$ .  
Déplacement de la figure par  $(-3, 0)$ .  
Déplacement de la figure par  $(-4, 1)$ .



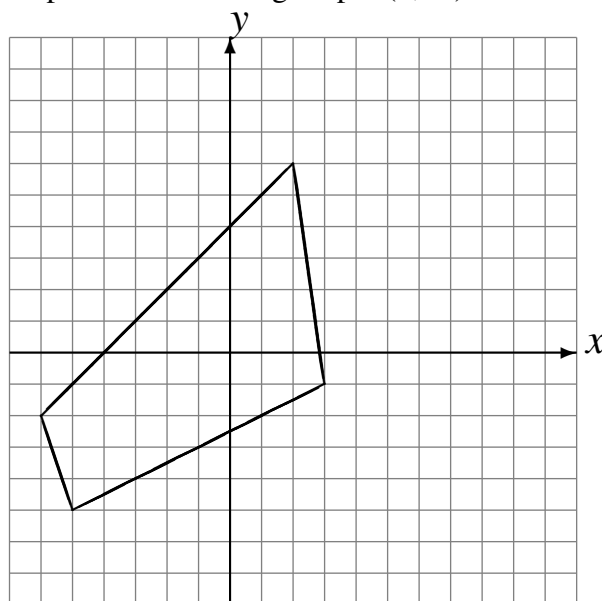
Déplacement de la figure par  $(2, -6)$ .  
Déplacement de la figure par  $(4, 5)$ .  
Déplacement de la figure par  $(-2, -3)$ .



Déplacement de la figure par  $(-5, -1)$ .  
Déplacement de la figure par  $(1, -2)$ .  
Déplacement de la figure par  $(4, -2)$ .



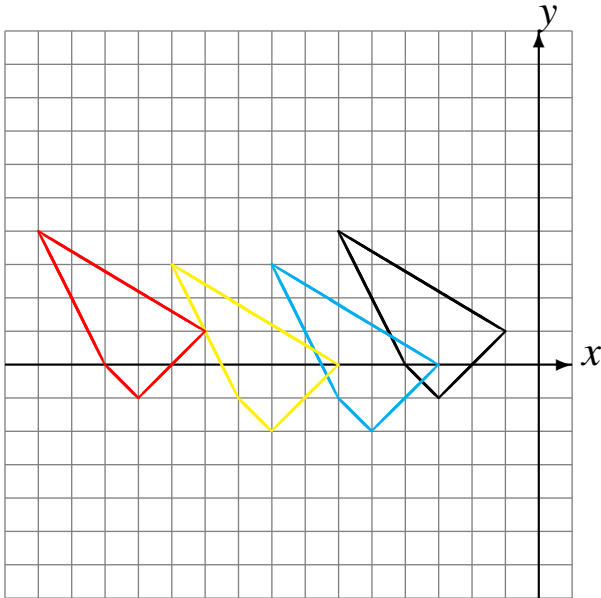
Déplacement de la figure par  $(2, -2)$ .  
Déplacement de la figure par  $(4, 5)$ .  
Déplacement de la figure par  $(0, -5)$ .



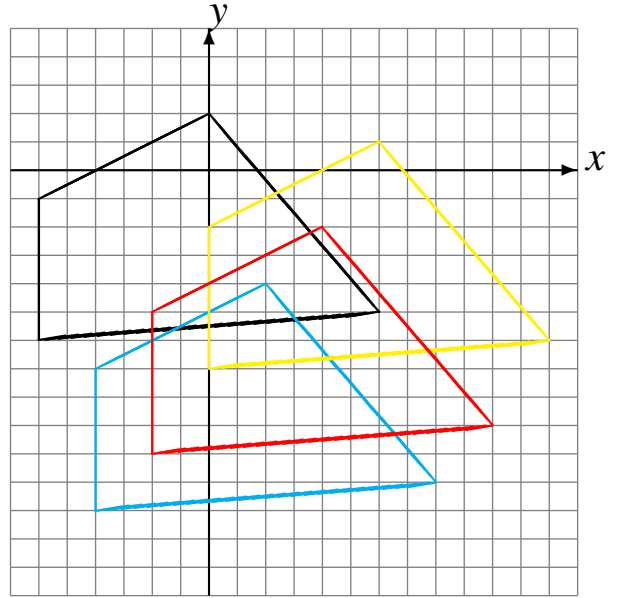
## Translations (B) Solutions

Dessinez l'image finale et les étapes intermédiaires de la translation décrite.

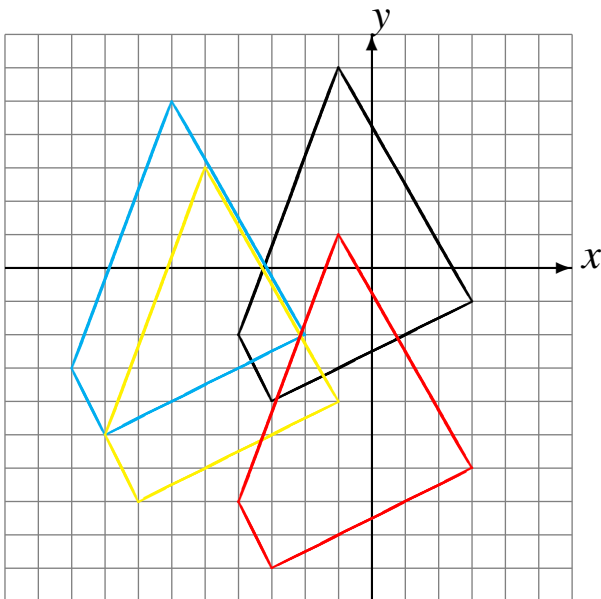
Déplacement de la figure par  $(-2, -1)$ .  
Déplacement de la figure par  $(-3, 0)$ .  
Déplacement de la figure par  $(-4, 1)$ .



Déplacement de la figure par  $(2, -6)$ .  
Déplacement de la figure par  $(4, 5)$ .  
Déplacement de la figure par  $(-2, -3)$ .



Déplacement de la figure par  $(-5, -1)$ .  
Déplacement de la figure par  $(1, -2)$ .  
Déplacement de la figure par  $(4, -2)$ .



Déplacement de la figure par  $(2, -2)$ .  
Déplacement de la figure par  $(4, 5)$ .  
Déplacement de la figure par  $(0, -5)$ .

