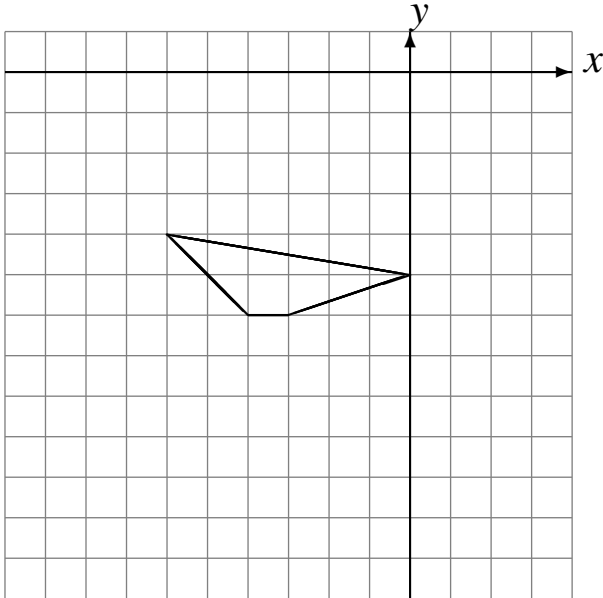


# Translations (H)

Dessinez l'image finale et les étapes intermédiaires de la translation décrite.

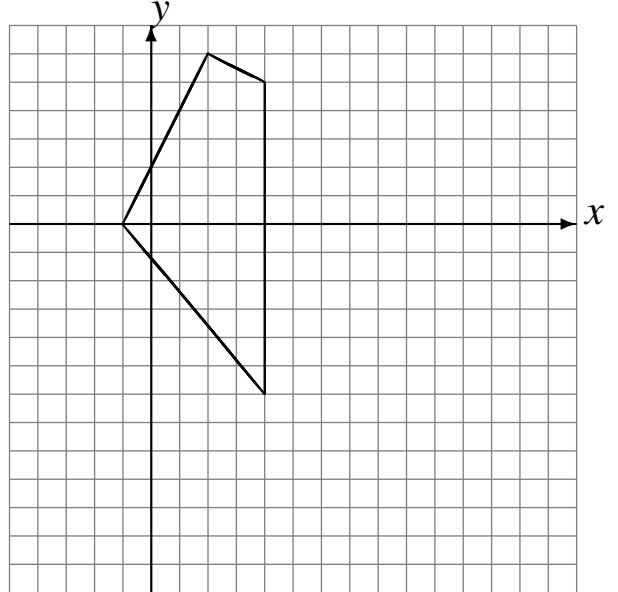
Déplacement de la figure par  $(2, -6)$ .

Déplacement de la figure par  $(-4, 4)$ .



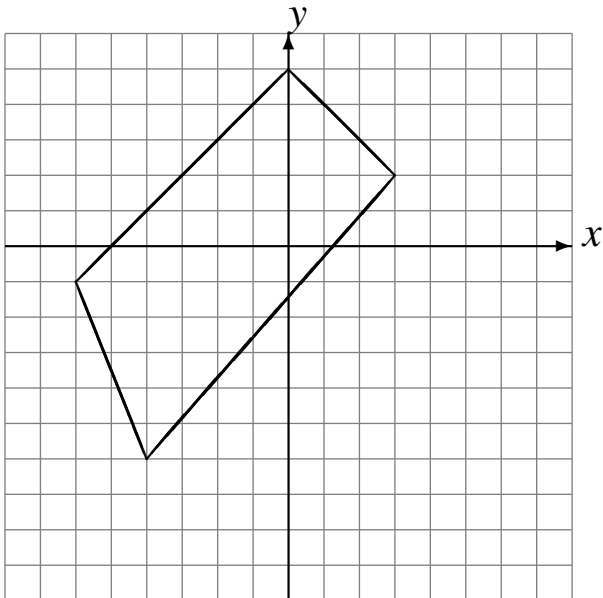
Déplacement de la figure par  $(4, -6)$ .

Déplacement de la figure par  $(2, 1)$ .



Déplacement de la figure par  $(3, -3)$ .

Déplacement de la figure par  $(0, 1)$ .



Déplacement de la figure par  $(-1, 5)$ .

Déplacement de la figure par  $(-6, -3)$ .

