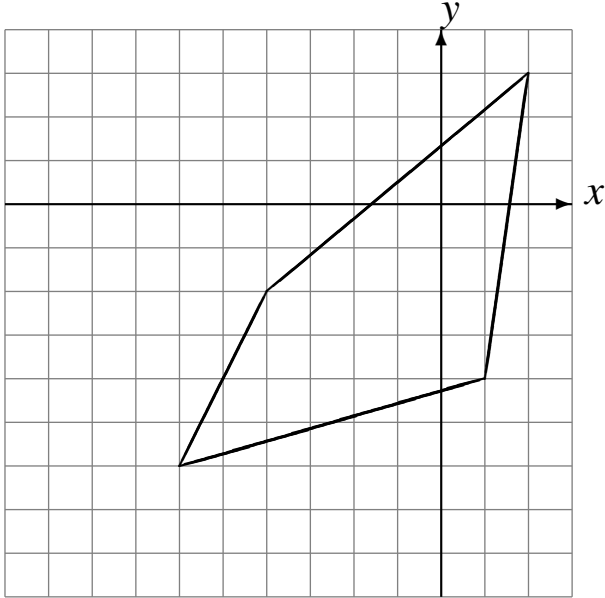


Translations (D)

Dessinez l'image finale et les étapes intermédiaires de la translation décrite.

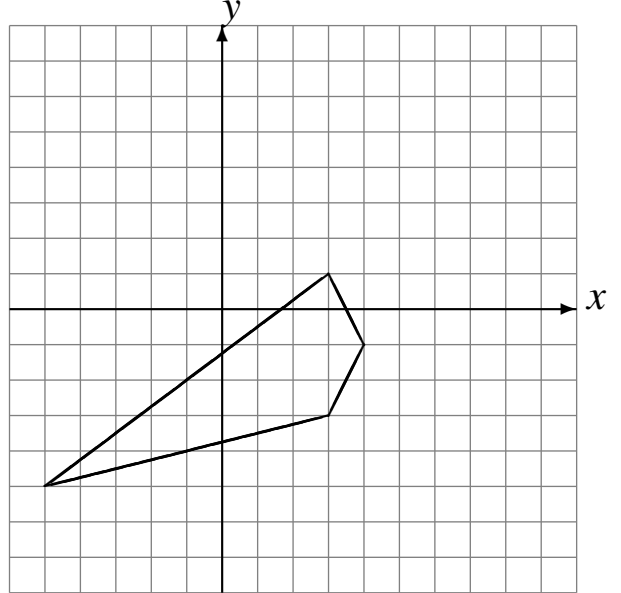
Déplacement de la figure par $(-2, -2)$.

Déplacement de la figure par $(-1, 0)$.



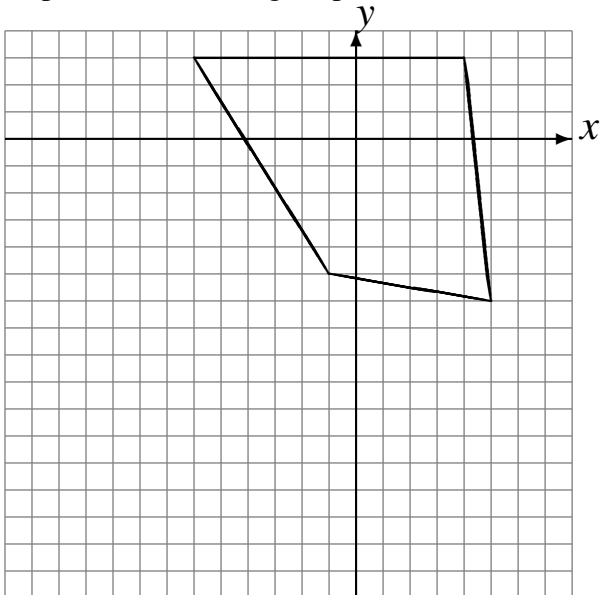
Déplacement de la figure par $(5, 0)$.

Déplacement de la figure par $(-4, 3)$.



Déplacement de la figure par $(-5, -6)$.

Déplacement de la figure par $(1, -4)$.



Déplacement de la figure par $(6, 4)$.

Déplacement de la figure par $(3, -2)$.

