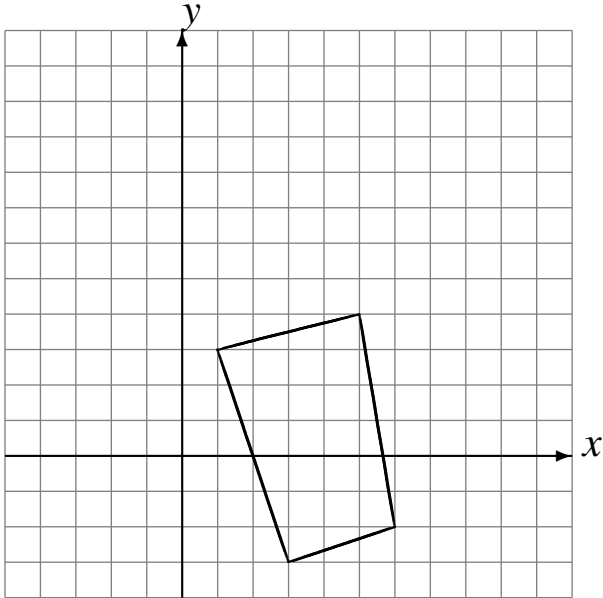


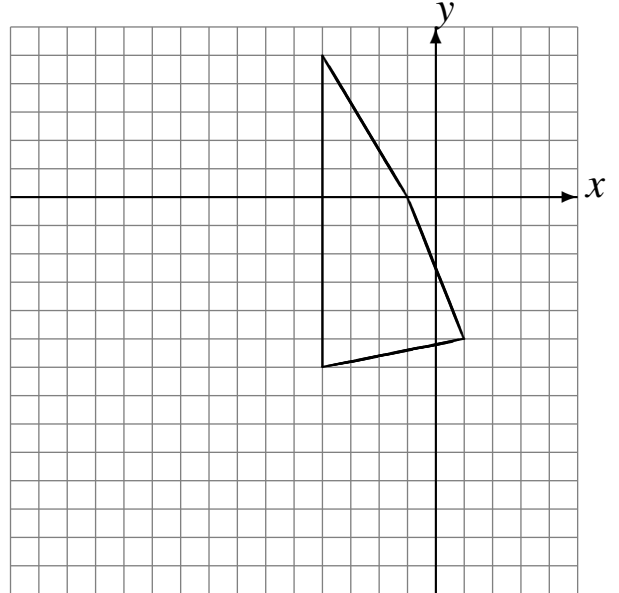
Translations (C)

Dessinez l'image finale et les étapes intermédiaires de la translation décrite.

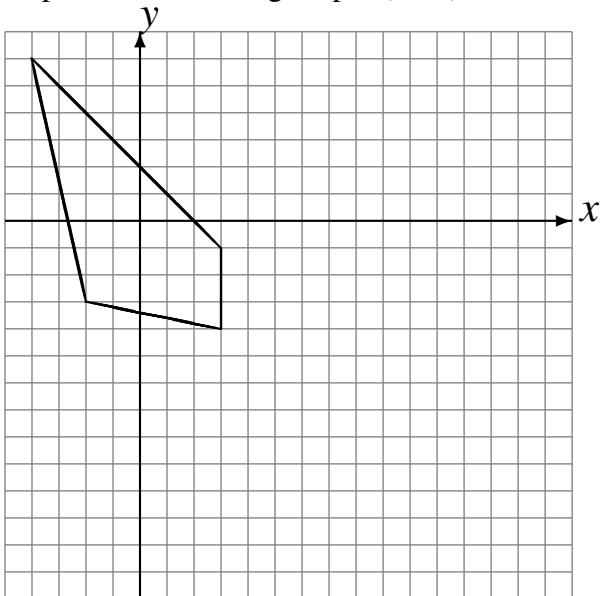
Déplacement de la figure par $(-2, 2)$.
Déplacement de la figure par $(0, 5)$.



Déplacement de la figure par $(-2, -3)$.
Déplacement de la figure par $(-6, -4)$.



Déplacement de la figure par $(6, -5)$.
Déplacement de la figure par $(6, -4)$.



Déplacement de la figure par $(6, 4)$.
Déplacement de la figure par $(-6, -2)$.

