

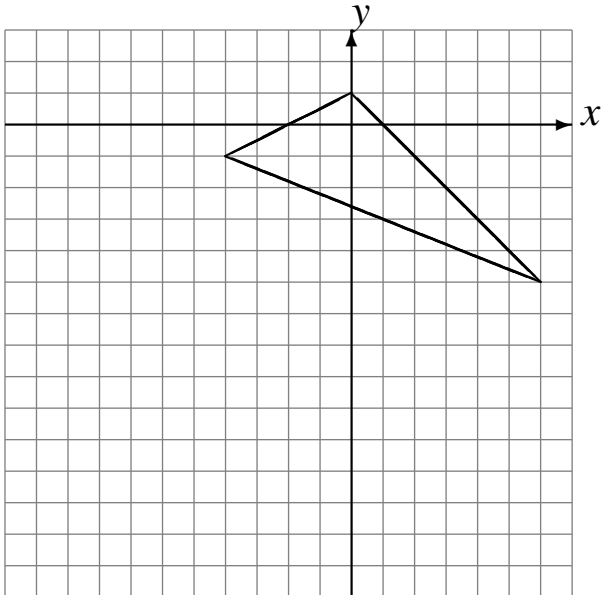
Translations (D)

Dessinez l'image finale et les étapes intermédiaires de la translation décrite.

Déplacement de la figure par $(-6, -2)$.

Déplacement de la figure par $(1, -5)$.

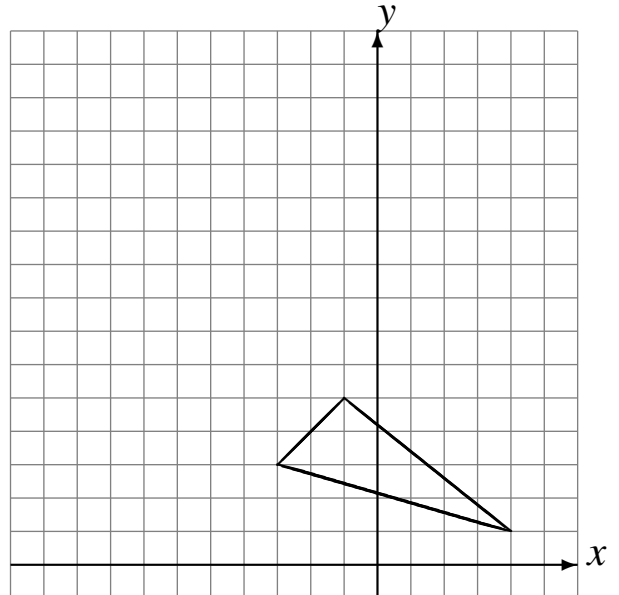
Déplacement de la figure par $(0, -1)$.



Déplacement de la figure par $(-1, 4)$.

Déplacement de la figure par $(-2, 3)$.

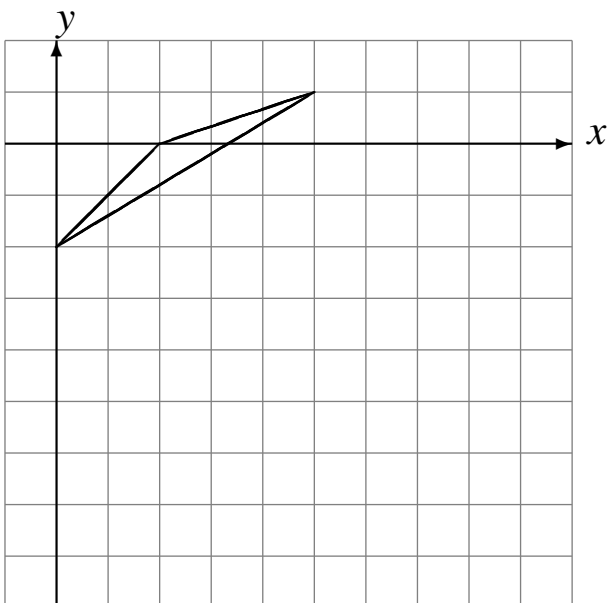
Déplacement de la figure par $(-3, 3)$.



Déplacement de la figure par $(3, -6)$.

Déplacement de la figure par $(-2, 4)$.

Déplacement de la figure par $(2, 2)$.



Déplacement de la figure par $(-5, -6)$.

Déplacement de la figure par $(-1, -5)$.

Déplacement de la figure par $(-5, -2)$.

