

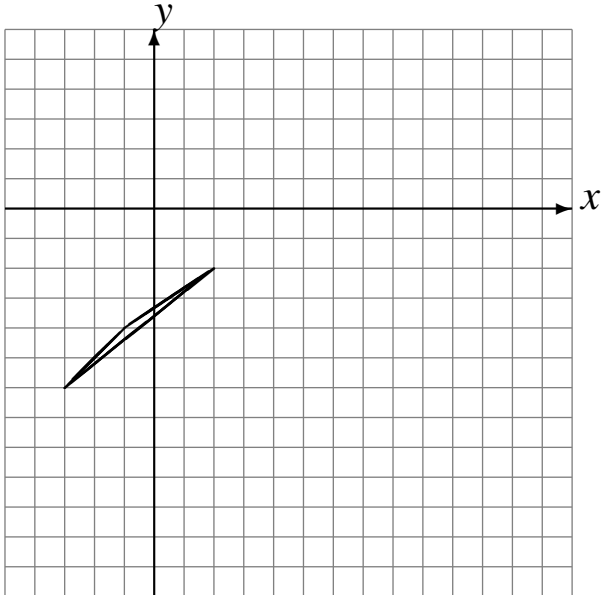
## Translations (B)

Dessinez l'image finale et les étapes intermédiaires de la translation décrite.

Déplacement de la figure par  $(-1, -2)$ .

Déplacement de la figure par  $(6, 5)$ .

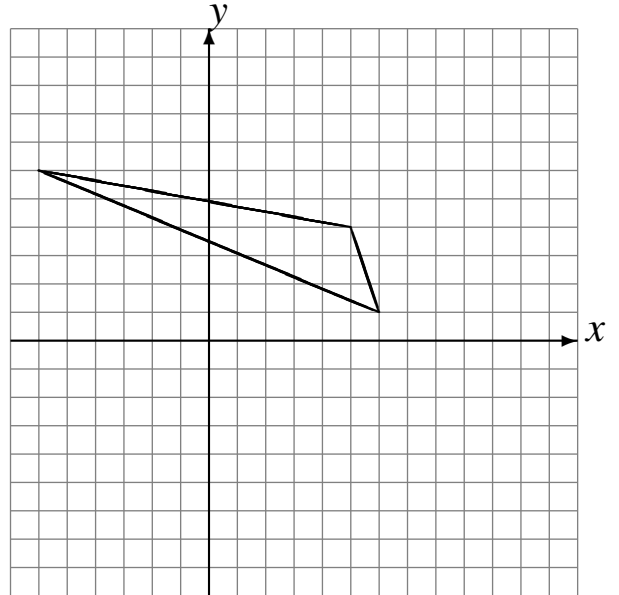
Déplacement de la figure par  $(6, -4)$ .



Déplacement de la figure par  $(3, -6)$ .

Déplacement de la figure par  $(3, 4)$ .

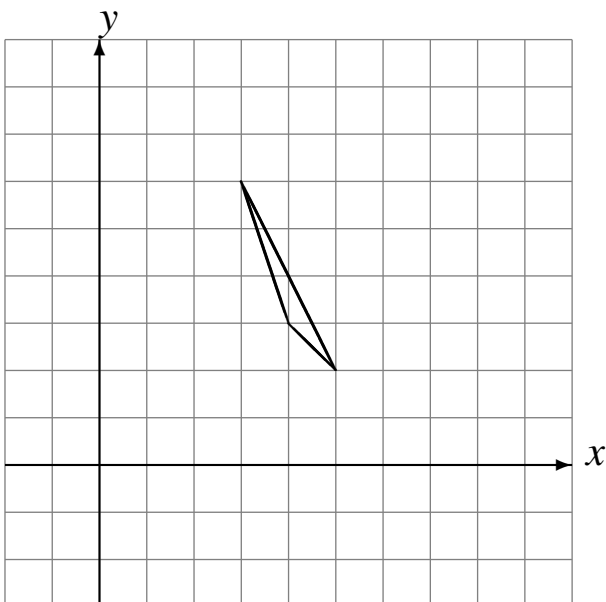
Déplacement de la figure par  $(-3, 1)$ .



Déplacement de la figure par  $(3, -4)$ .

Déplacement de la figure par  $(-2, 2)$ .

Déplacement de la figure par  $(0, 4)$ .



Déplacement de la figure par  $(5, 1)$ .

Déplacement de la figure par  $(-3, -6)$ .

Déplacement de la figure par  $(-2, -5)$ .

