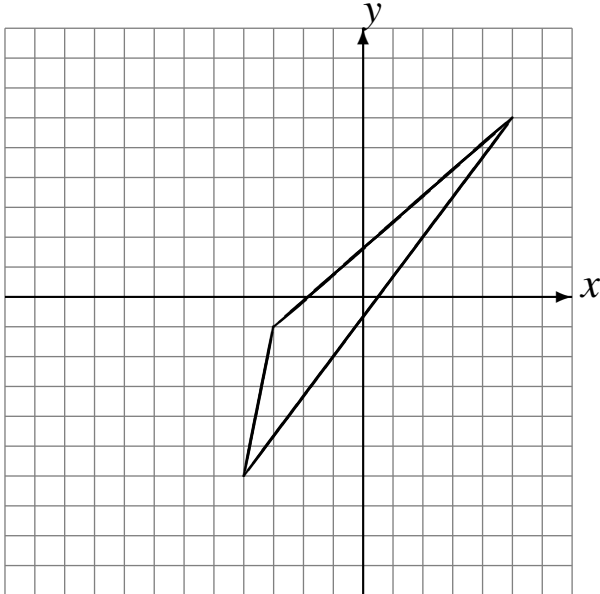


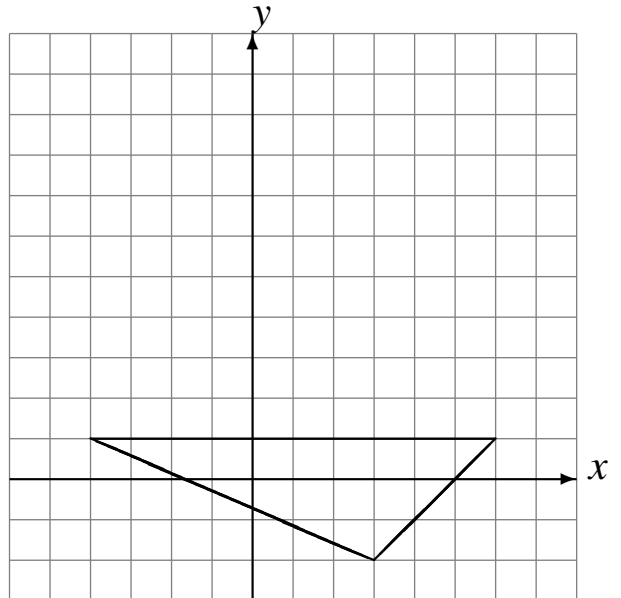
Translations (G)

Dessinez l'image finale et les étapes intermédiaires de la translation décrite.

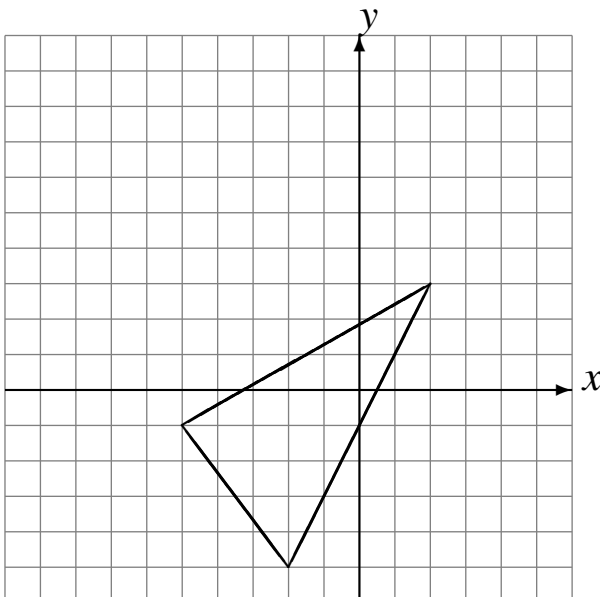
Déplacement de la figure par $(-6, -3)$.
Déplacement de la figure par $(0, 5)$.



Déplacement de la figure par $(-1, 4)$.
Déplacement de la figure par $(0, 5)$.



Déplacement de la figure par $(-3, 6)$.
Déplacement de la figure par $(4, -4)$.



Déplacement de la figure par $(0, 1)$.
Déplacement de la figure par $(5, -2)$.

