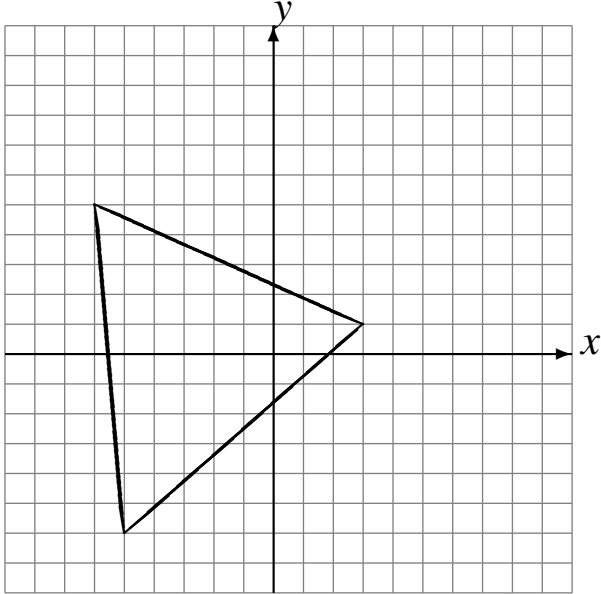


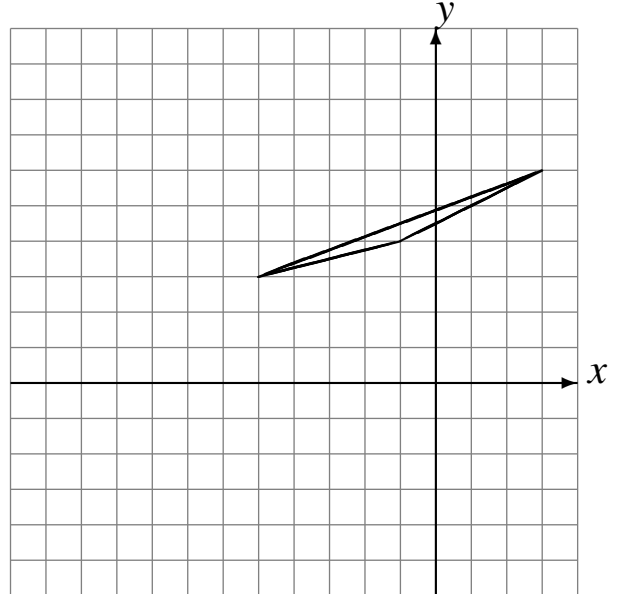
Translations (E)

Dessinez l'image finale et les étapes intermédiaires de la translation décrite.

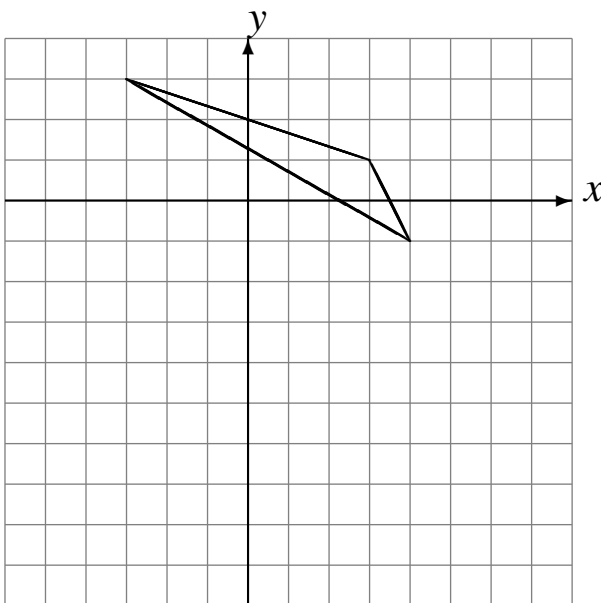
Déplacement de la figure par $(5, 5)$.
Déplacement de la figure par $(-6, -6)$.



Déplacement de la figure par $(-6, -2)$.
Déplacement de la figure par $(1, -3)$.



Déplacement de la figure par $(1, -4)$.
Déplacement de la figure par $(-2, -4)$.



Déplacement de la figure par $(0, 4)$.
Déplacement de la figure par $(3, -4)$.

