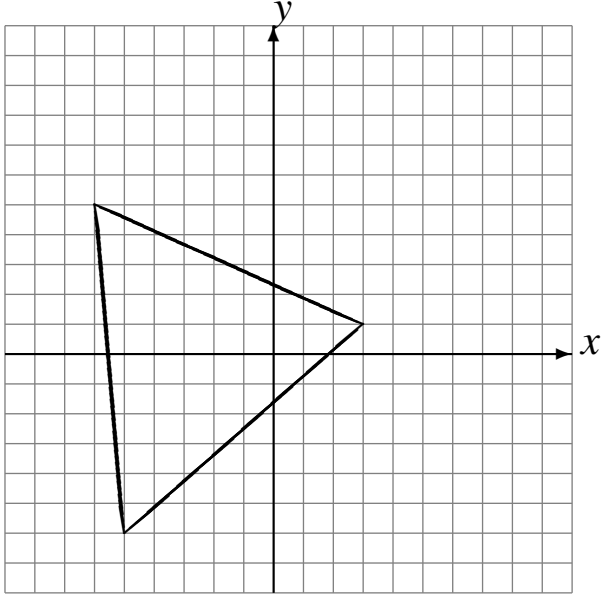


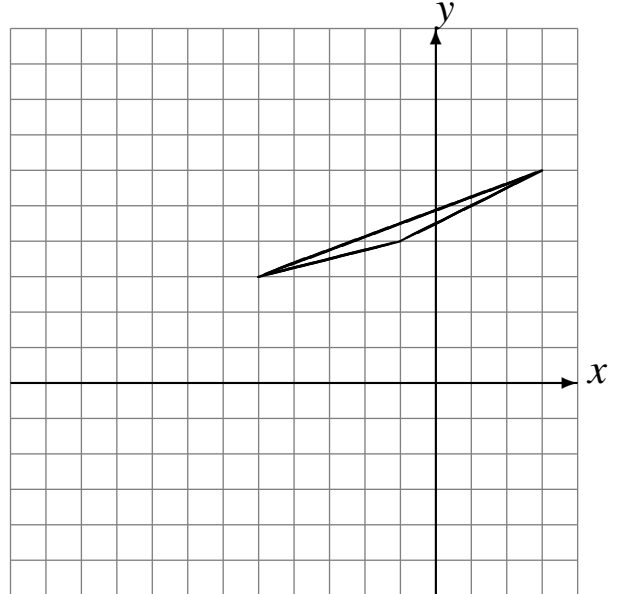
# Translations (E)

Dessinez l'image finale et les étapes intermédiaires de la translation décrite.

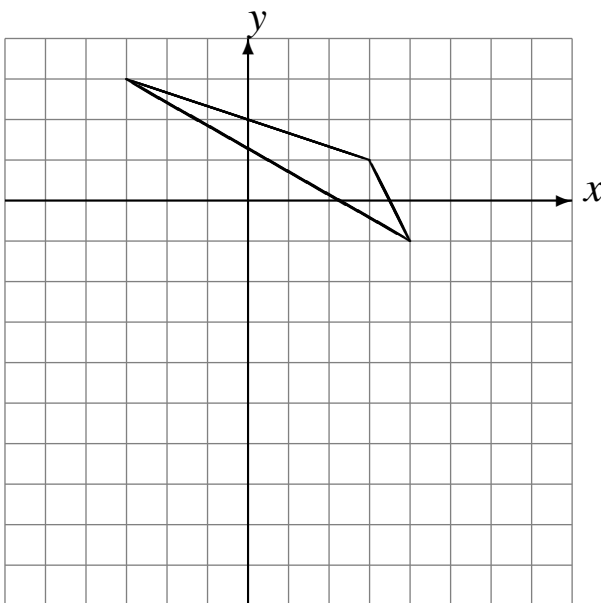
Déplacement de la figure par  $(5, 5)$ .  
Déplacement de la figure par  $(-6, -6)$ .



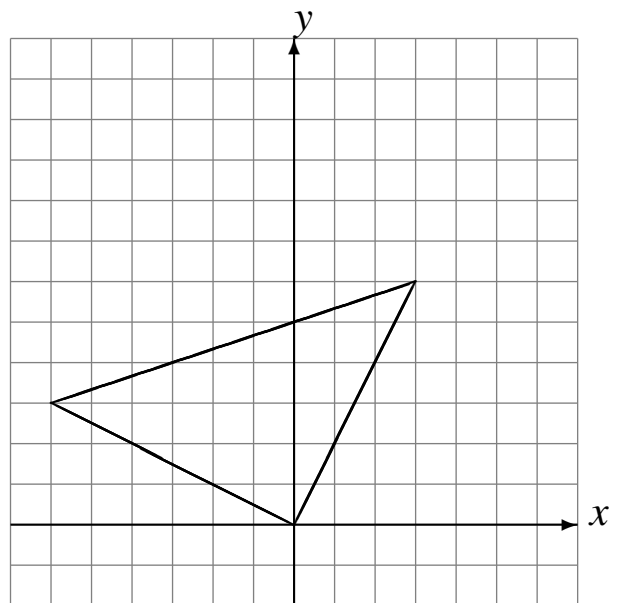
Déplacement de la figure par  $(-6, -2)$ .  
Déplacement de la figure par  $(1, -3)$ .



Déplacement de la figure par  $(1, -4)$ .  
Déplacement de la figure par  $(-2, -4)$ .



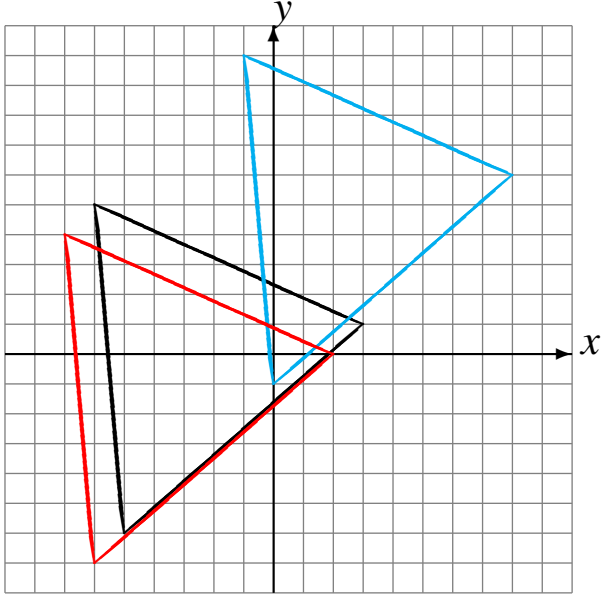
Déplacement de la figure par  $(0, 4)$ .  
Déplacement de la figure par  $(3, -4)$ .



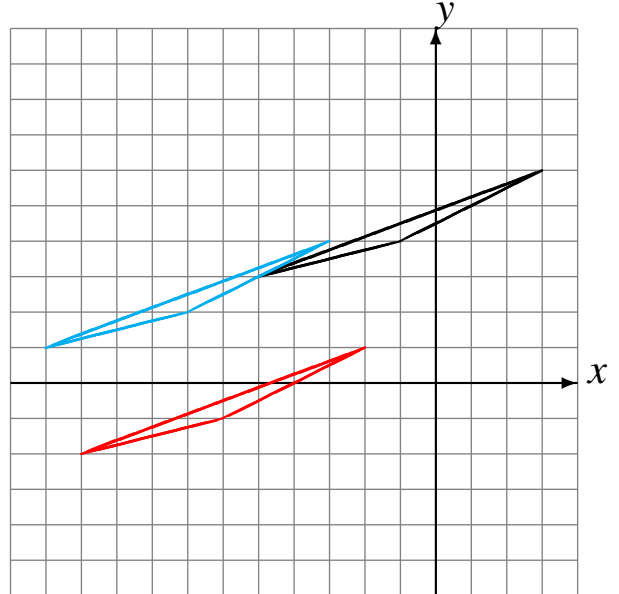
# Translations (E) Solutions

Dessinez l'image finale et les étapes intermédiaires de la translation décrite.

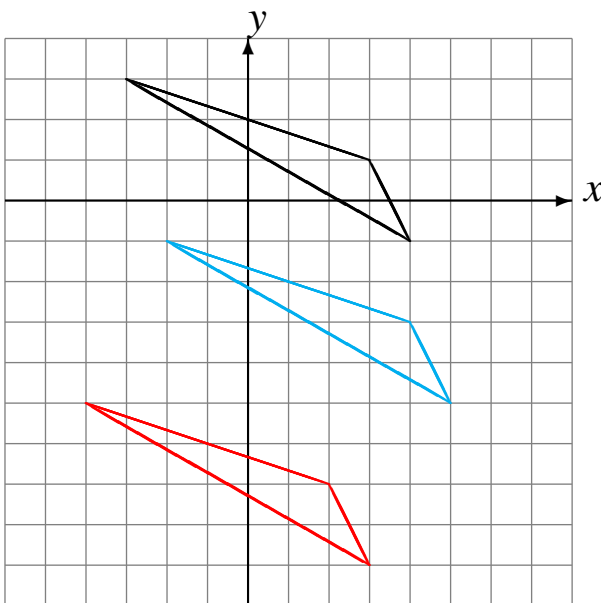
Déplacement de la figure par  $(5, 5)$ .  
Déplacement de la figure par  $(-6, -6)$ .



Déplacement de la figure par  $(-6, -2)$ .  
Déplacement de la figure par  $(1, -3)$ .



Déplacement de la figure par  $(1, -4)$ .  
Déplacement de la figure par  $(-2, -4)$ .



Déplacement de la figure par  $(0, 4)$ .  
Déplacement de la figure par  $(3, -4)$ .

