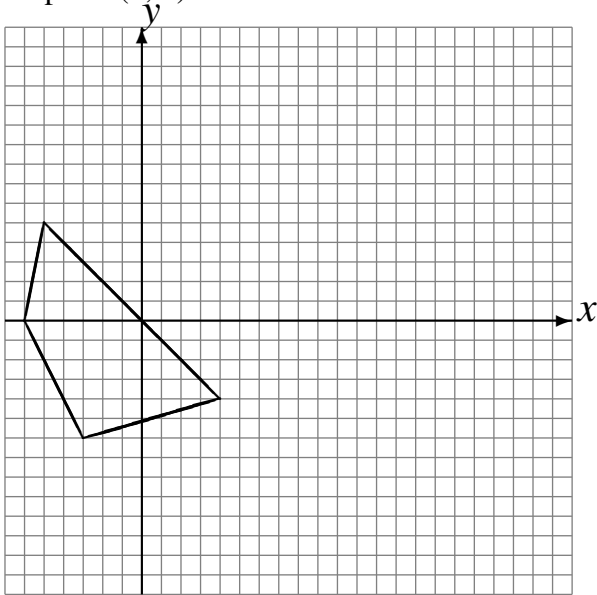


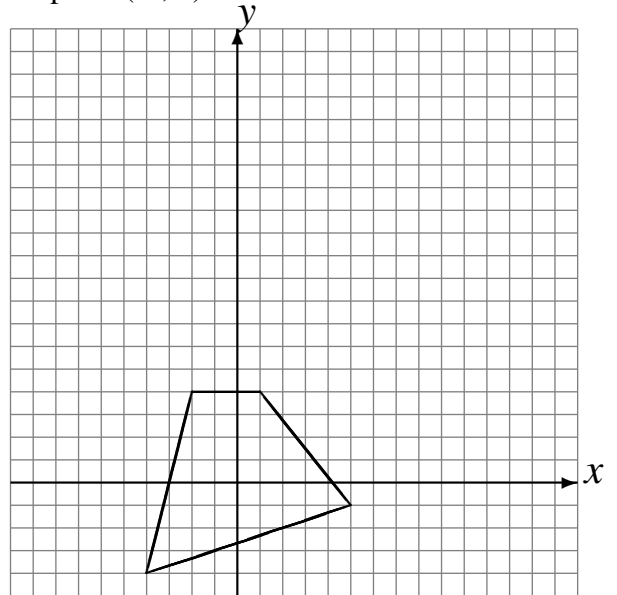
Rotations (F)

Dessinez l'image finale et les étapes intermédiaires de la rotation décrite.

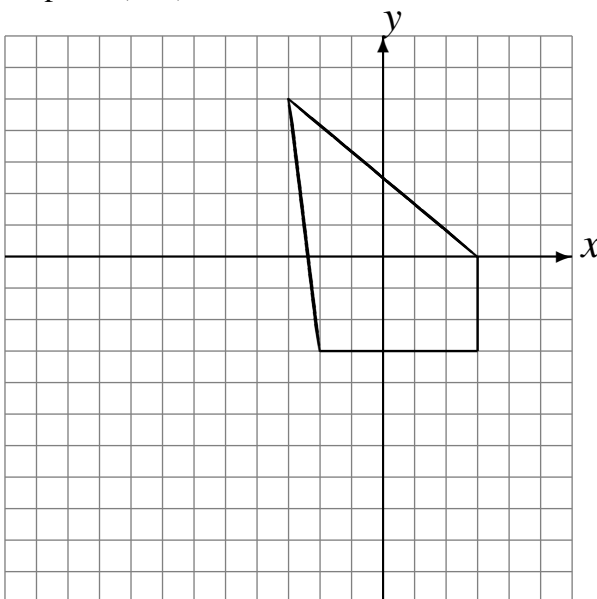
Rotation de 180° autour du point $(3, -4)$.
Rotation dans le sens antihoraire de 90° autour
du point $(3, 5)$.



Rotation de 180° autour du point $(5, 3)$.
Rotation dans le sens antihoraire de 90° autour
du point $(-2, 3)$.



Rotation dans le sens antihoraire de 90° autour
du point $(-4, -1)$.
Rotation dans le sens antihoraire de 90° autour
du point $(2, 2)$.



Rotation de 180° autour du point $(-5, 4)$.
Rotation de 180° autour du point $(-3, 5)$.

