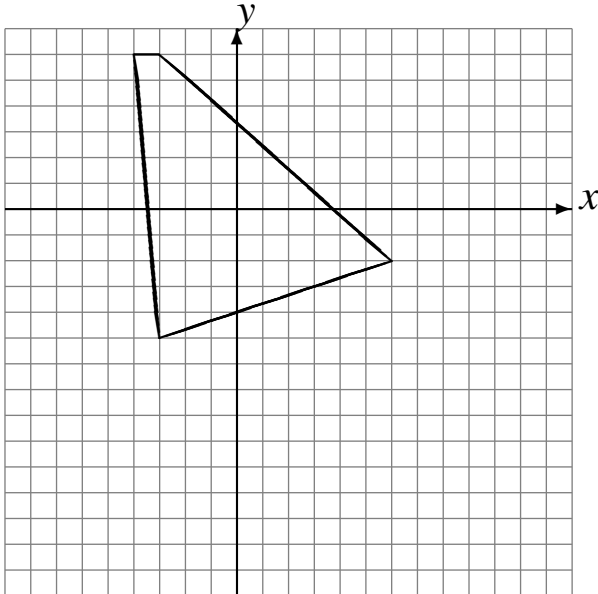


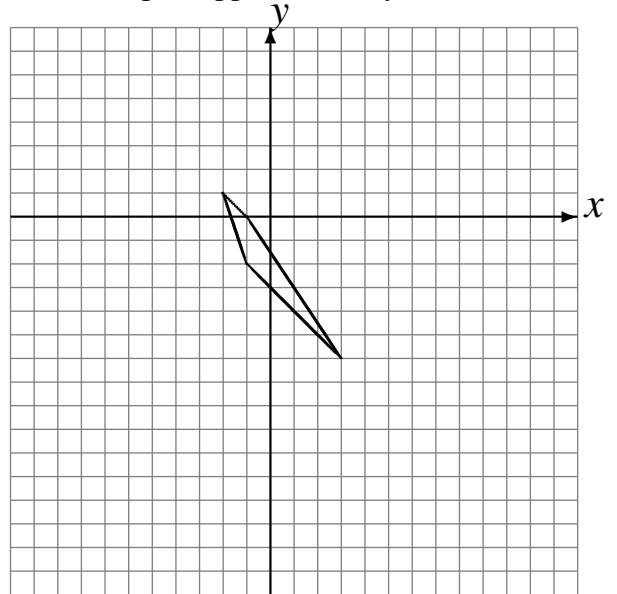
Réflexions (E)

Dessinez l'image finale et les étapes intermédiaires de la réflexion décrite.

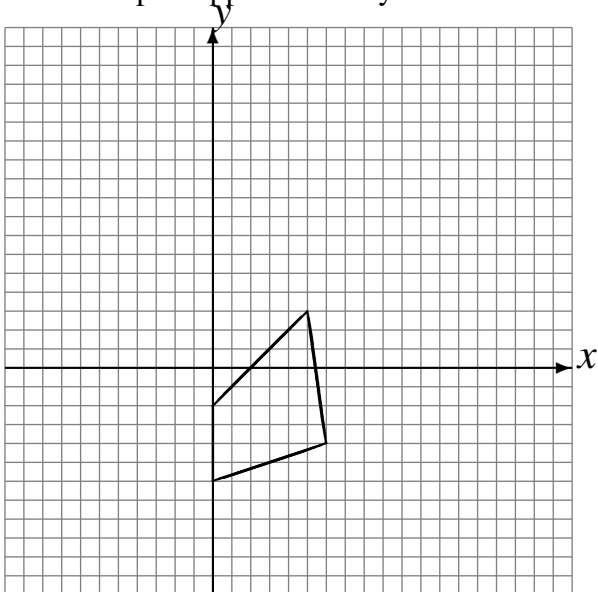
Réflexion par rapport à l'axe $x = 0$.
Réflexion par rapport à l'axe $x = 2$.
Réflexion par rapport à l'axe $y = -4$.



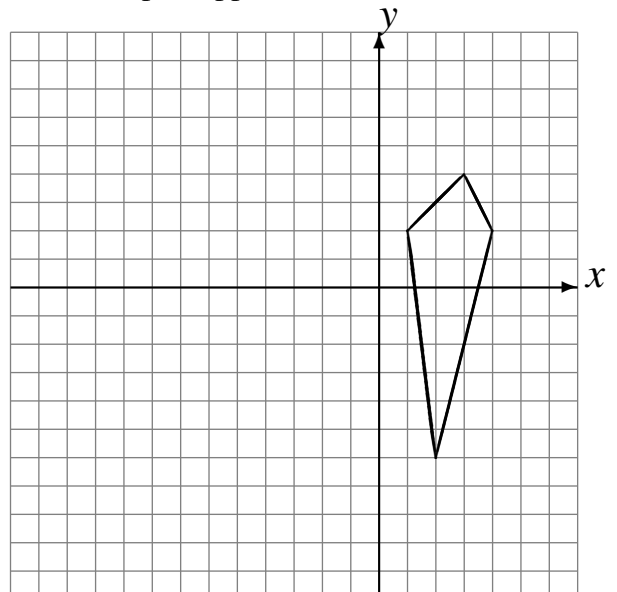
Réflexion par rapport à l'axe $y = 0$.
Réflexion par rapport à l'axe $y = 3$.
Réflexion par rapport à l'axe $y = -4$.



Réflexion par rapport à l'axe $x = -2$.
Réflexion par rapport à l'axe $x = 4$.
Réflexion par rapport à l'axe $y = 3$.



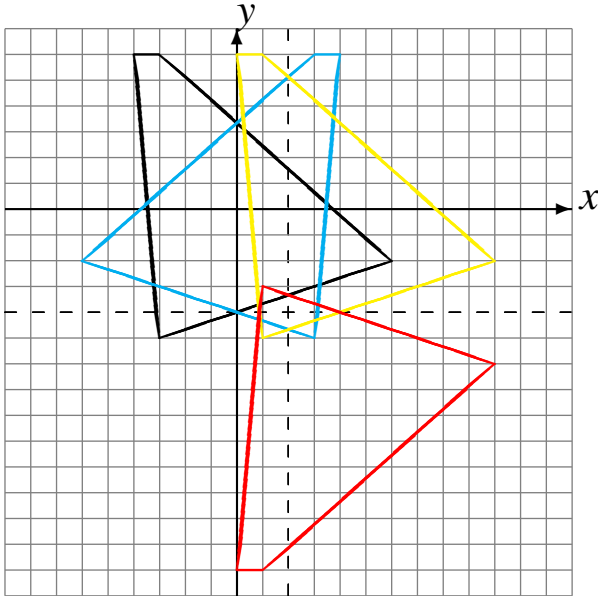
Réflexion par rapport à l'axe $x = -4$.
Réflexion par rapport à l'axe $x = -3$.
Réflexion par rapport à l'axe $x = 2$.



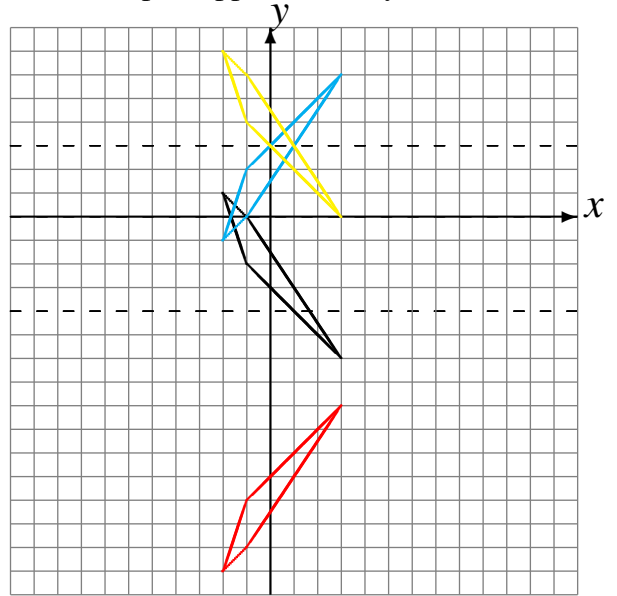
Réflexions (E) Solutions

Dessinez l'image finale et les étapes intermédiaires de la réflexion décrite.

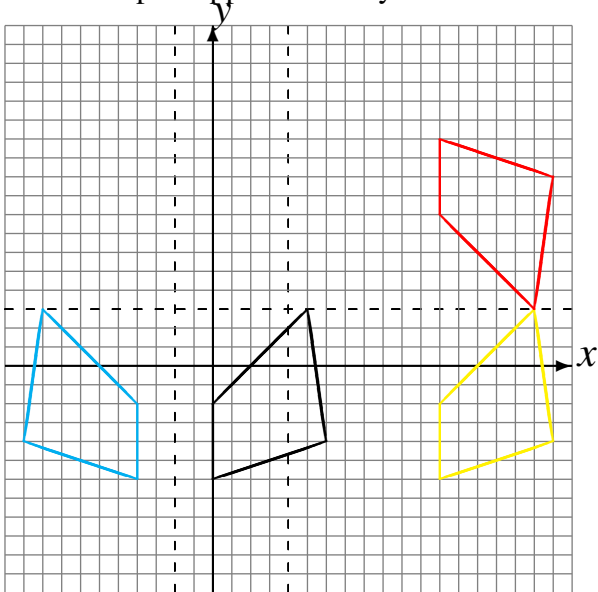
Réflexion par rapport à l'axe $x = 0$.
 Réflexion par rapport à l'axe $x = 2$.
 Réflexion par rapport à l'axe $y = -4$.



Réflexion par rapport à l'axe $y = 0$.
 Réflexion par rapport à l'axe $y = 3$.
 Réflexion par rapport à l'axe $y = -4$.



Réflexion par rapport à l'axe $x = -2$.
 Réflexion par rapport à l'axe $x = 4$.
 Réflexion par rapport à l'axe $y = 3$.



Réflexion par rapport à l'axe $x = -4$.
 Réflexion par rapport à l'axe $x = -3$.
 Réflexion par rapport à l'axe $x = 2$.

