

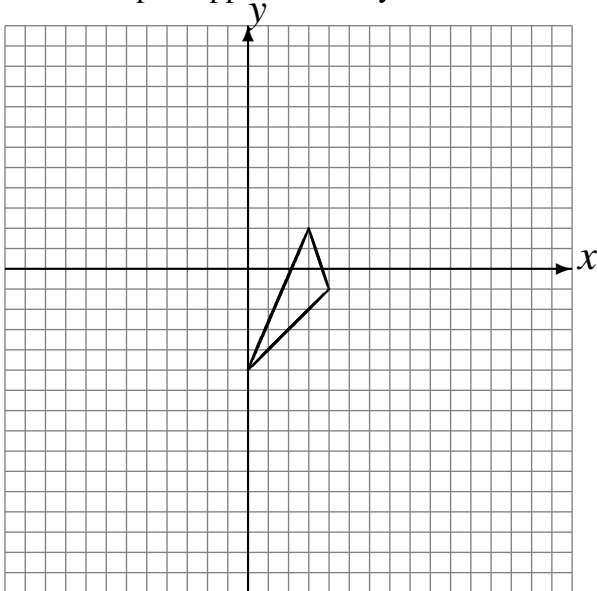
Réflexions (J)

Dessinez l'image finale et les étapes intermédiaires de la réflexion décrite.

Réflexion par rapport à l'axe $y = 3$.

Réflexion par rapport à l'axe $y = -2$.

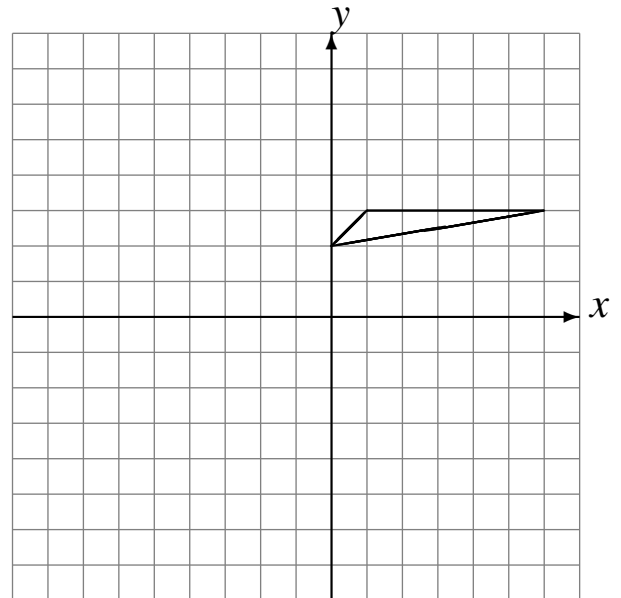
Réflexion par rapport à l'axe $y = -3$.



Réflexion par rapport à l'axe $x = 2$.

Réflexion par rapport à l'axe $x = -2$.

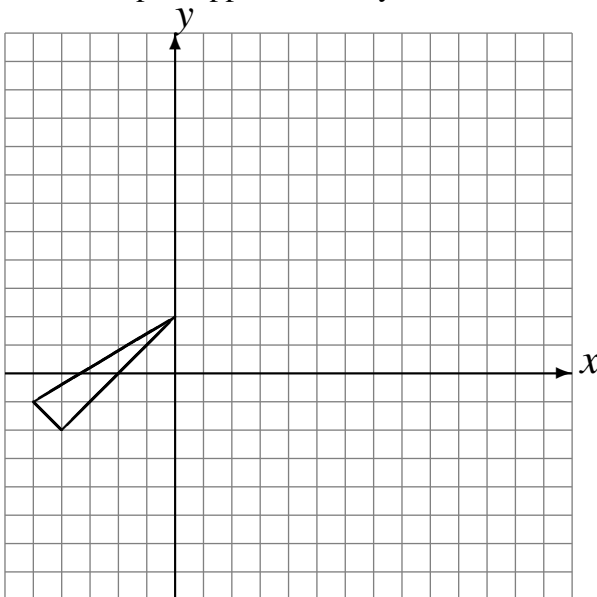
Réflexion par rapport à l'axe $y = 0$.



Réflexion par rapport à l'axe $x = 4$.

Réflexion par rapport à l'axe $y = 4$.

Réflexion par rapport à l'axe $y = 2$.



Réflexion par rapport à l'axe $y = 2$.

Réflexion par rapport à l'axe $x = -2$.

Réflexion par rapport à l'axe $x = -1$.

