

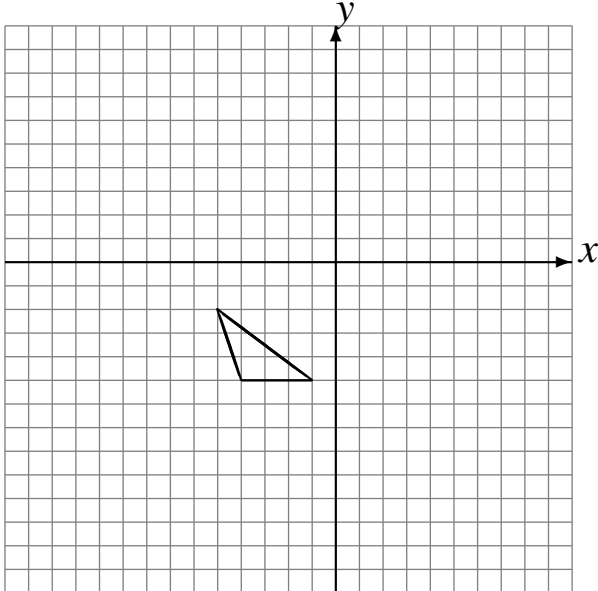
Réflexions (D)

Dessinez l'image finale et les étapes intermédiaires de la réflexion décrite.

Réflexion par rapport à l'axe $x = -2$.

Réflexion par rapport à l'axe $x = 3$.

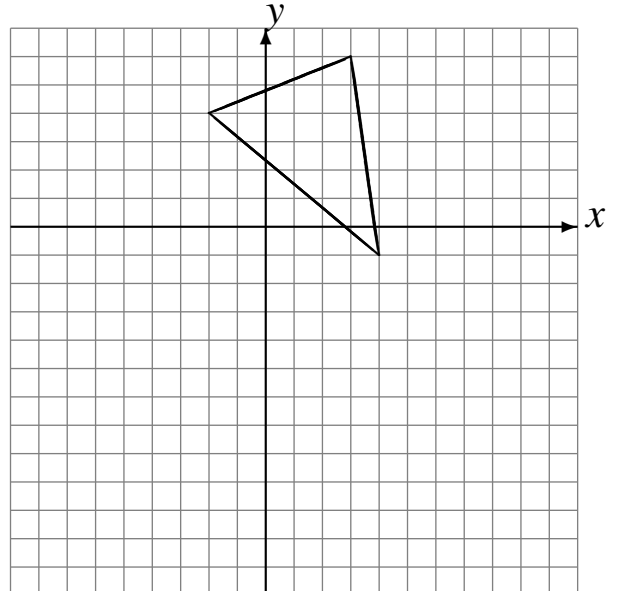
Réflexion par rapport à l'axe $x = -2$.



Réflexion par rapport à l'axe $y = -1$.

Réflexion par rapport à l'axe $y = -1$.

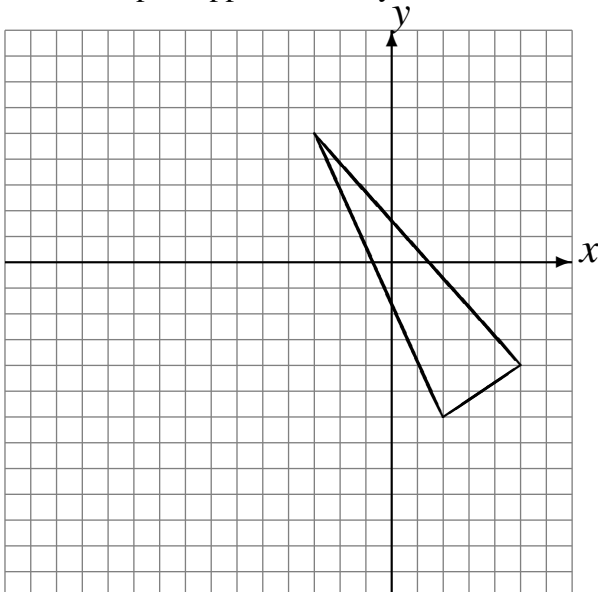
Réflexion par rapport à l'axe $y = -3$.



Réflexion par rapport à l'axe $y = 1$.

Réflexion par rapport à l'axe $x = -4$.

Réflexion par rapport à l'axe $y = -2$.



Réflexion par rapport à l'axe $y = 0$.

Réflexion par rapport à l'axe $y = -2$.

Réflexion par rapport à l'axe $y = 4$.

