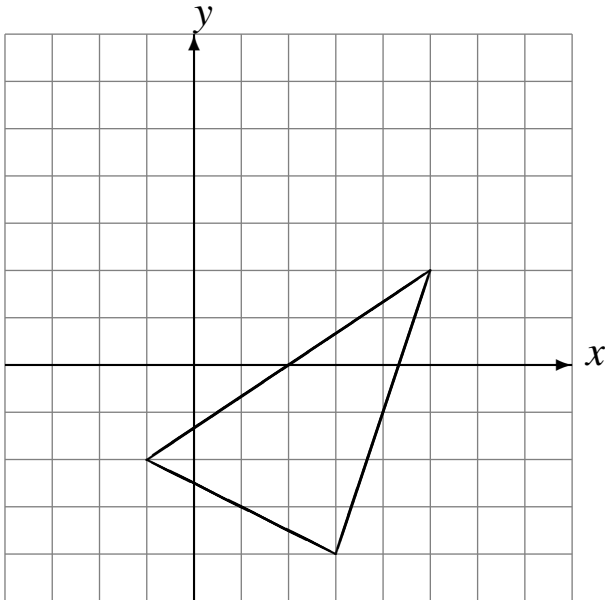


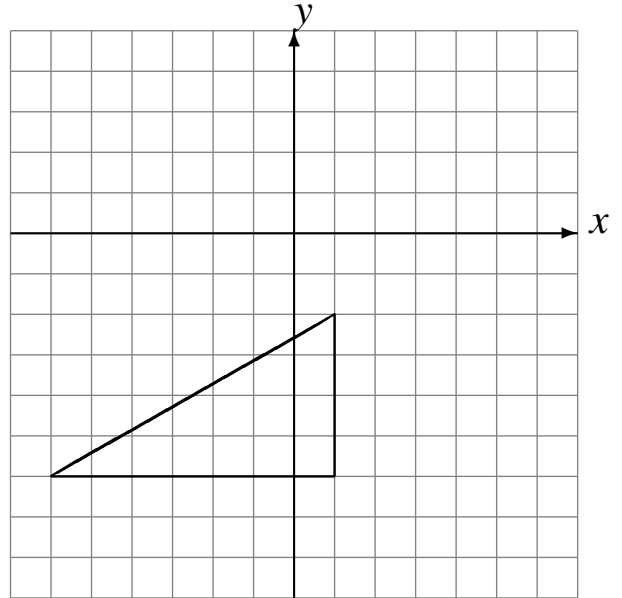
Réflexions (A)

Dessinez l'image finale et les étapes intermédiaires de la réflexion décrite.

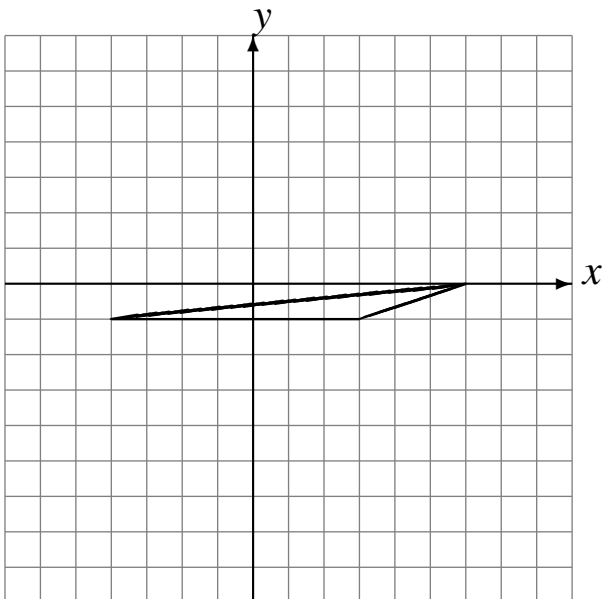
Réflexion par rapport à l'axe $x = 2$.
Réflexion par rapport à l'axe $y = 1$.
Réflexion par rapport à l'axe $y = 3$.



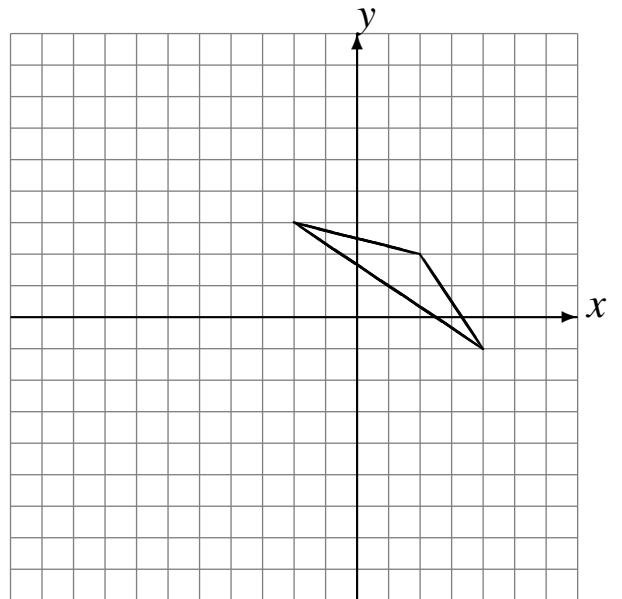
Réflexion par rapport à l'axe $x = 0$.
Réflexion par rapport à l'axe $y = -2$.
Réflexion par rapport à l'axe $x = 0$.



Réflexion par rapport à l'axe $x = 2$.
Réflexion par rapport à l'axe $x = 1$.
Réflexion par rapport à l'axe $y = -1$.



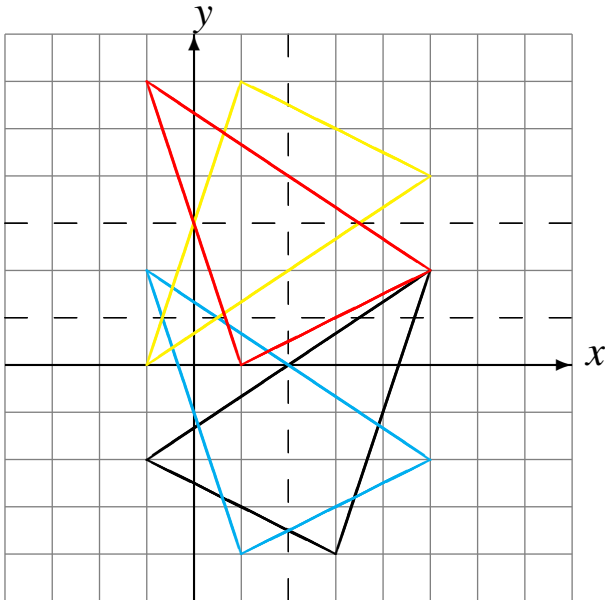
Réflexion par rapport à l'axe $y = 0$.
Réflexion par rapport à l'axe $x = -3$.
Réflexion par rapport à l'axe $x = -2$.



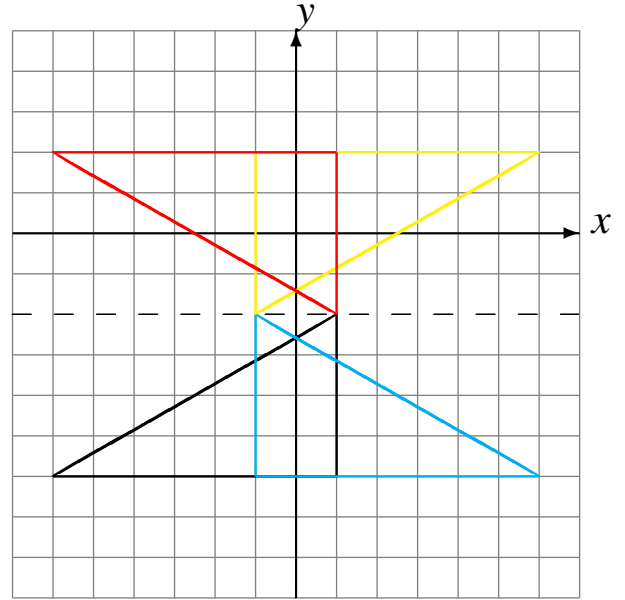
Réflexions (A) Solutions

Dessinez l'image finale et les étapes intermédiaires de la réflexion décrite.

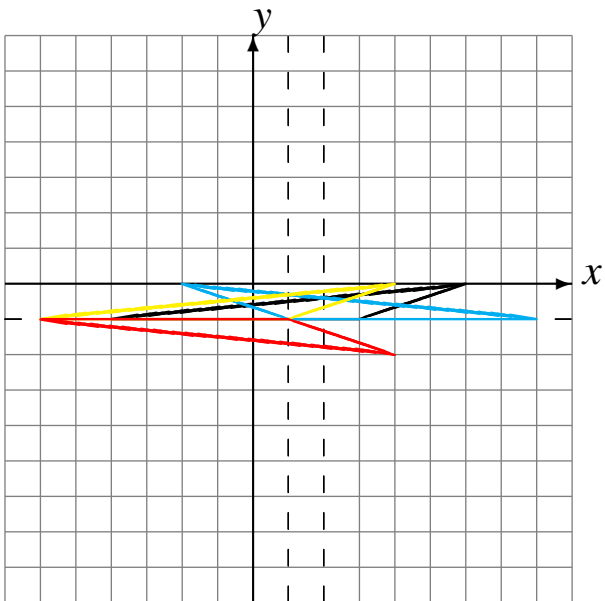
Réflexion par rapport à l'axe $x = 2$.
Réflexion par rapport à l'axe $y = 1$.
Réflexion par rapport à l'axe $y = 3$.



Réflexion par rapport à l'axe $x = 0$.
Réflexion par rapport à l'axe $y = -2$.
Réflexion par rapport à l'axe $x = 0$.



Réflexion par rapport à l'axe $x = 2$.
Réflexion par rapport à l'axe $x = 1$.
Réflexion par rapport à l'axe $y = -1$.



Réflexion par rapport à l'axe $y = 0$.
Réflexion par rapport à l'axe $x = -3$.
Réflexion par rapport à l'axe $x = -2$.

