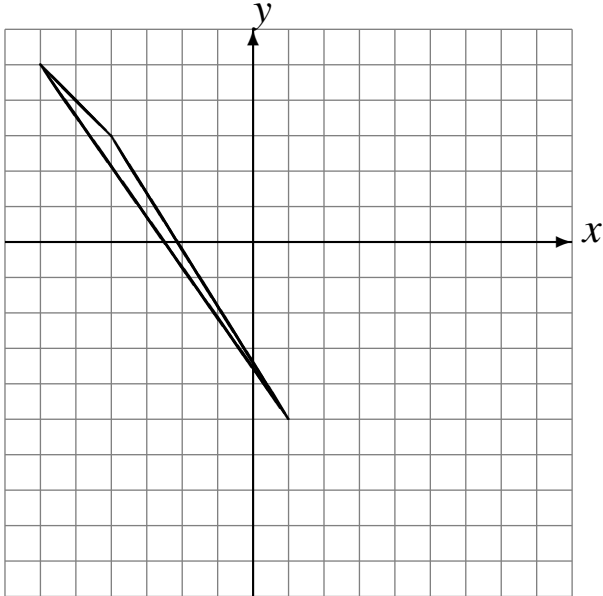


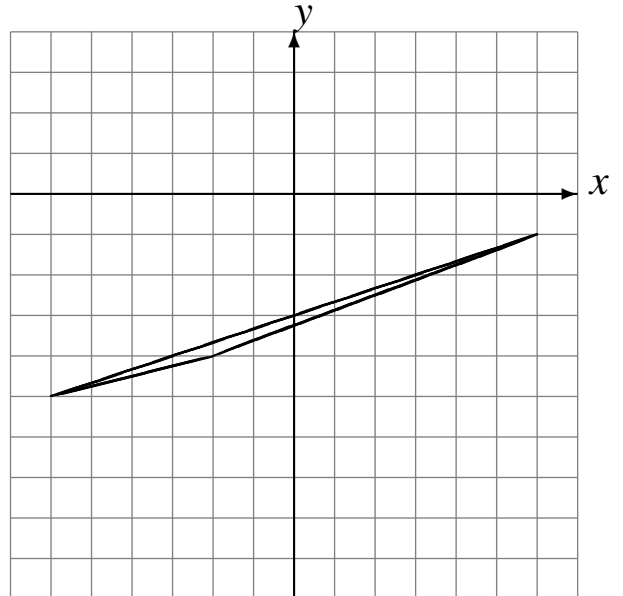
Réflexions (F)

Dessinez l'image finale et les étapes intermédiaires de la réflexion décrite.

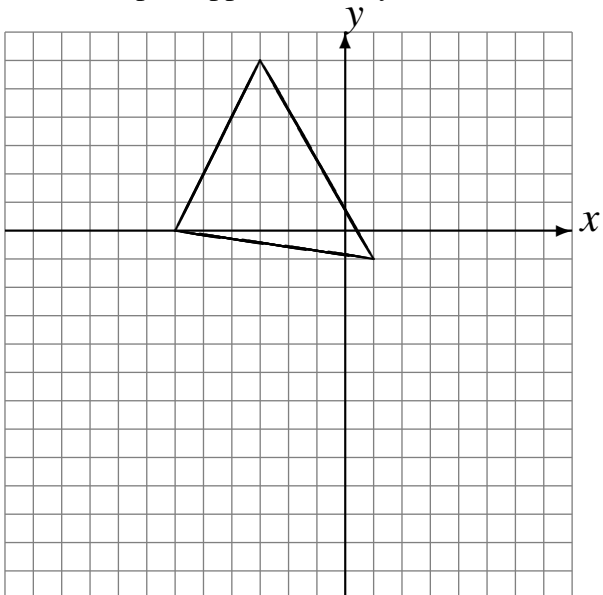
Réflexion par rapport à l'axe $y = -2$.
Réflexion par rapport à l'axe $x = 1$.



Réflexion par rapport à l'axe $y = -3$.
Réflexion par rapport à l'axe $y = -4$.



Réflexion par rapport à l'axe $y = -3$.
Réflexion par rapport à l'axe $y = -3$.



Réflexion par rapport à l'axe $x = 2$.
Réflexion par rapport à l'axe $y = 1$.

