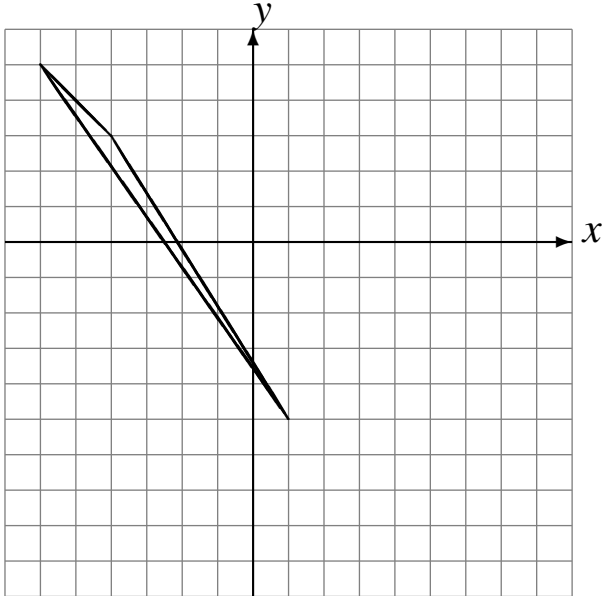


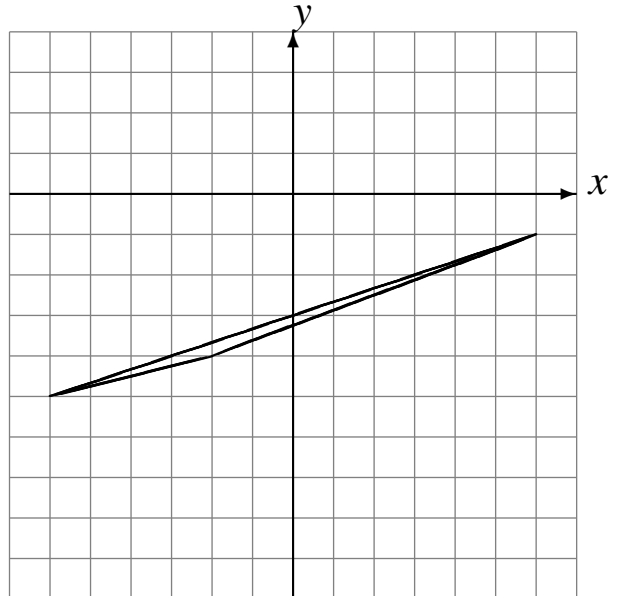
# Réflexions (F)

Dessinez l'image finale et les étapes intermédiaires de la réflexion décrite.

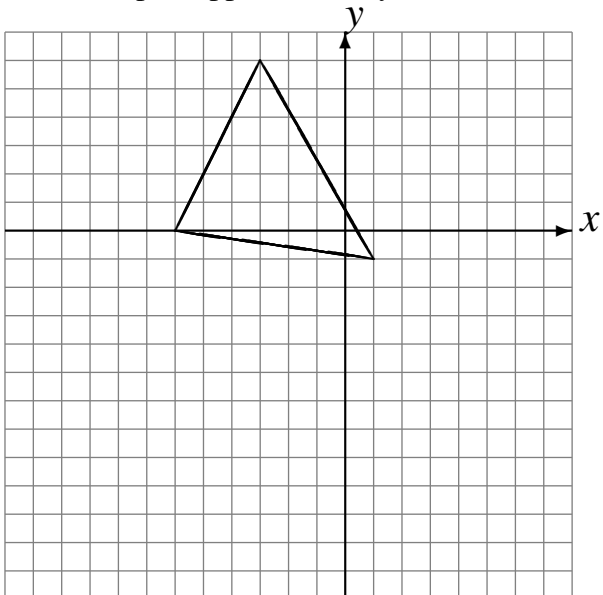
Réflexion par rapport à l'axe  $y = -2$ .  
Réflexion par rapport à l'axe  $x = 1$ .



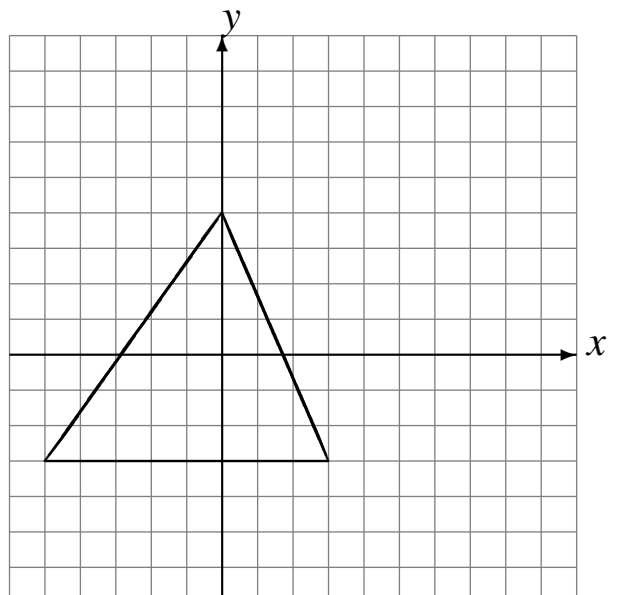
Réflexion par rapport à l'axe  $y = -3$ .  
Réflexion par rapport à l'axe  $y = -4$ .



Réflexion par rapport à l'axe  $y = -3$ .  
Réflexion par rapport à l'axe  $y = -3$ .



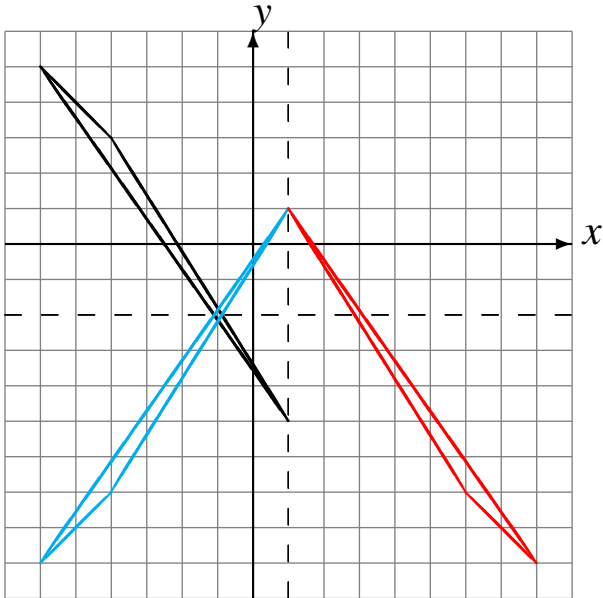
Réflexion par rapport à l'axe  $x = 2$ .  
Réflexion par rapport à l'axe  $y = 1$ .



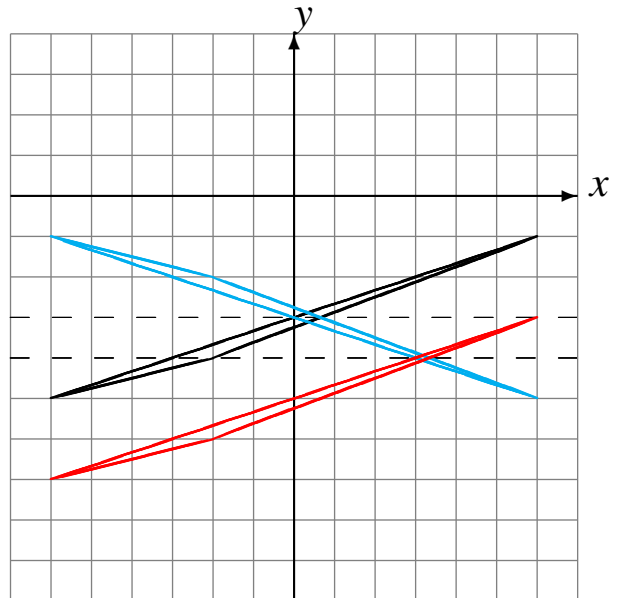
# Réflexions (F) Solutions

Dessinez l'image finale et les étapes intermédiaires de la réflexion décrite.

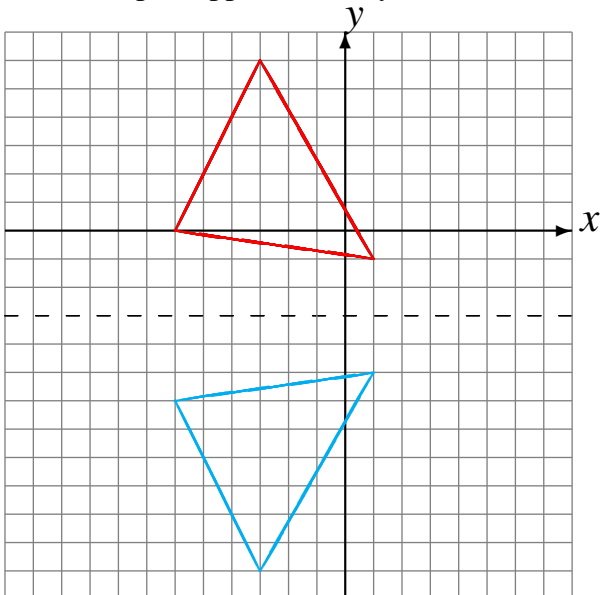
Réflexion par rapport à l'axe  $y = -2$ .  
 Réflexion par rapport à l'axe  $x = 1$ .



Réflexion par rapport à l'axe  $y = -3$ .  
 Réflexion par rapport à l'axe  $y = -4$ .



Réflexion par rapport à l'axe  $y = -3$ .  
 Réflexion par rapport à l'axe  $y = -3$ .



Réflexion par rapport à l'axe  $x = 2$ .  
 Réflexion par rapport à l'axe  $y = 1$ .

