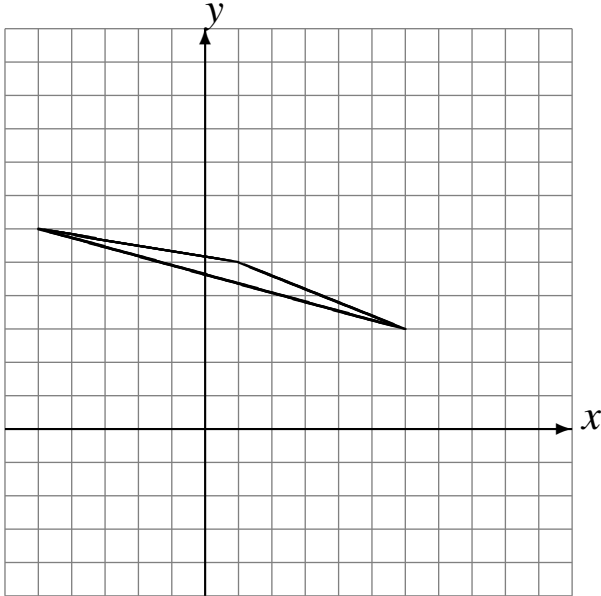


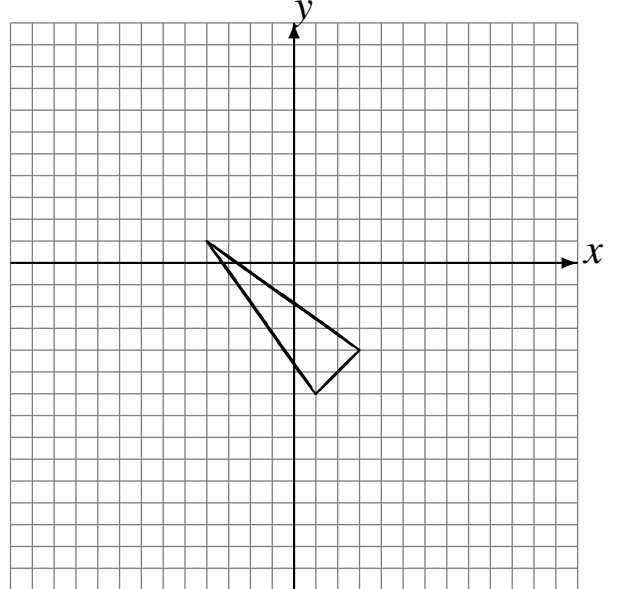
Réflexions (C)

Dessinez l'image finale et les étapes intermédiaires de la réflexion décrite.

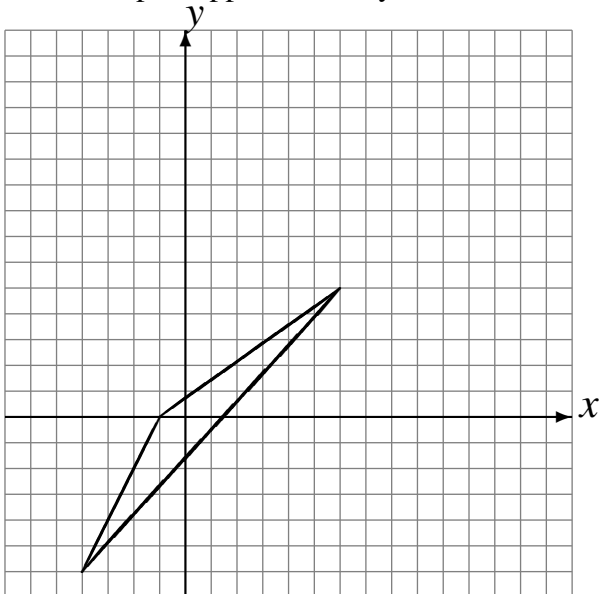
Réflexion par rapport à l'axe $x = 2$.
Réflexion par rapport à l'axe $x = 4$.



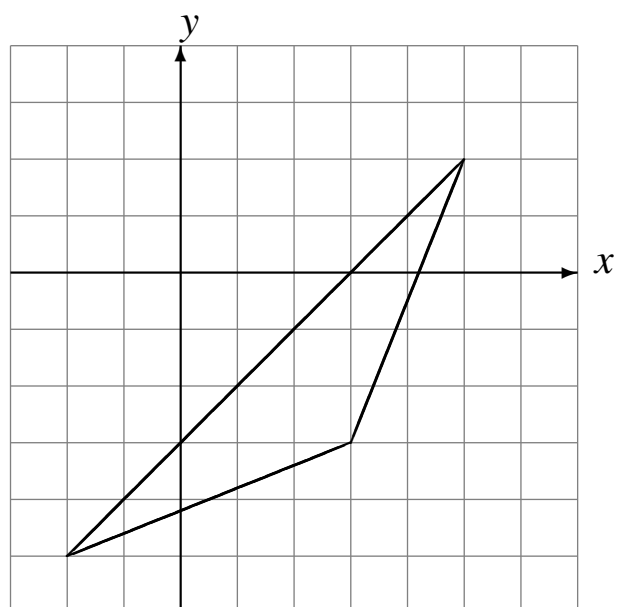
Réflexion par rapport à l'axe $x = 4$.
Réflexion par rapport à l'axe $x = 0$.



Réflexion par rapport à l'axe $x = 4$.
Réflexion par rapport à l'axe $y = 4$.



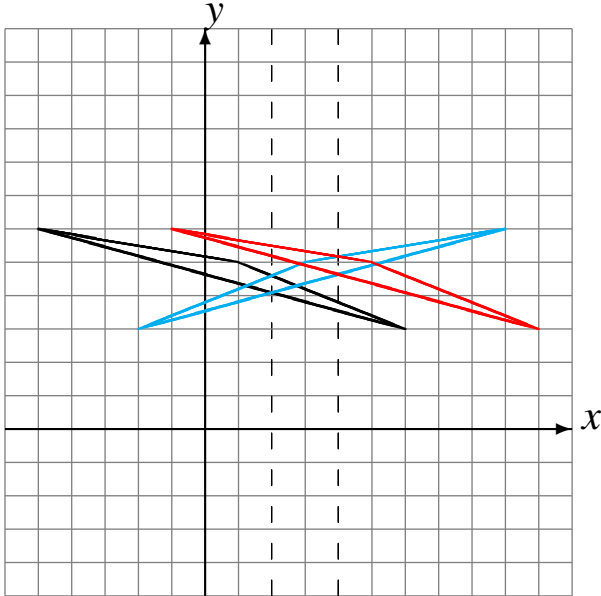
Réflexion par rapport à l'axe $x = 2$.
Réflexion par rapport à l'axe $x = 2$.



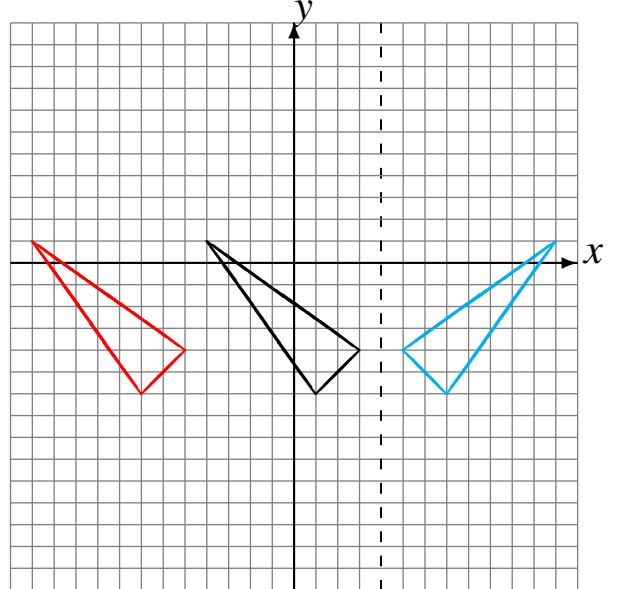
Réflexions (C) Solutions

Dessinez l'image finale et les étapes intermédiaires de la réflexion décrite.

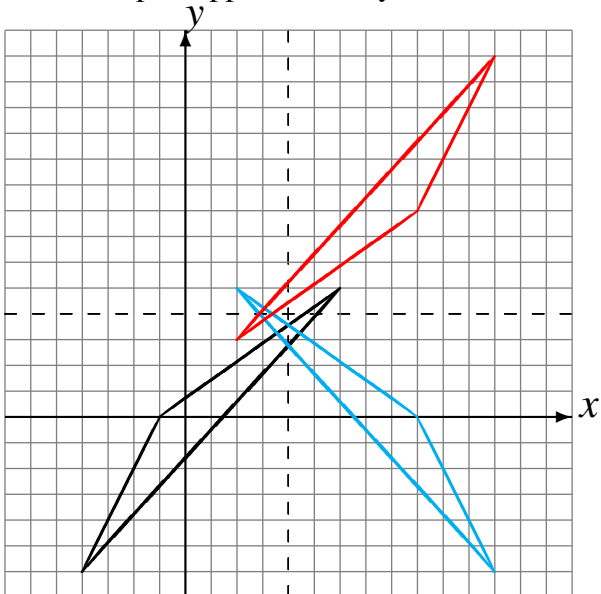
Réflexion par rapport à l'axe $x = 2$.
Réflexion par rapport à l'axe $x = 4$.



Réflexion par rapport à l'axe $x = 4$.
Réflexion par rapport à l'axe $x = 0$.



Réflexion par rapport à l'axe $x = 4$.
Réflexion par rapport à l'axe $y = 4$.



Réflexion par rapport à l'axe $x = 2$.
Réflexion par rapport à l'axe $x = 2$.

