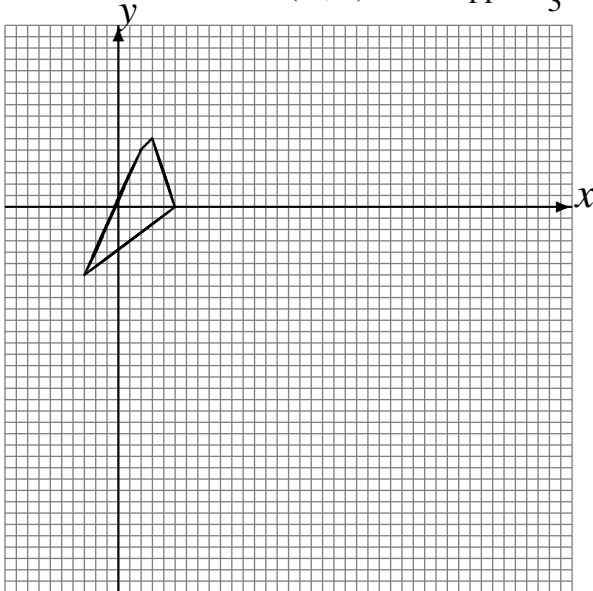


L'Homothétie (F)

Dessinez l'image finale et les étapes intermédiaires de l'homothétie décrite.

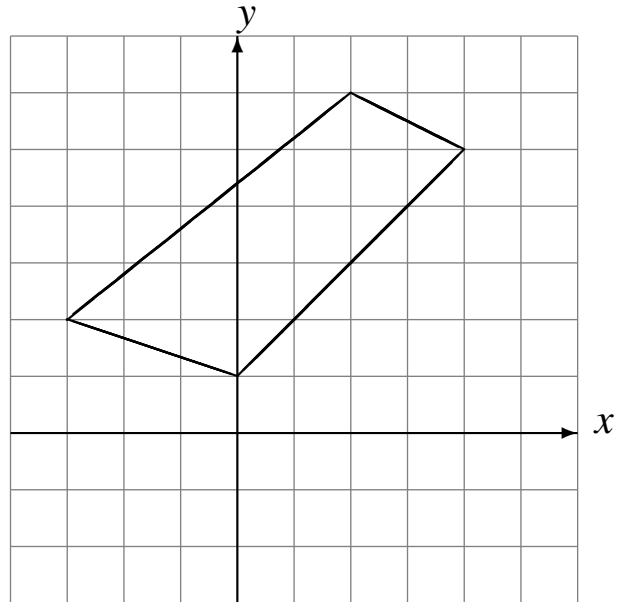
Homothétie de centre $(-4, 3)$ et de rapport 4.

Homothétie de centre $(-4, 2)$ et de rapport $\frac{1}{3}$.



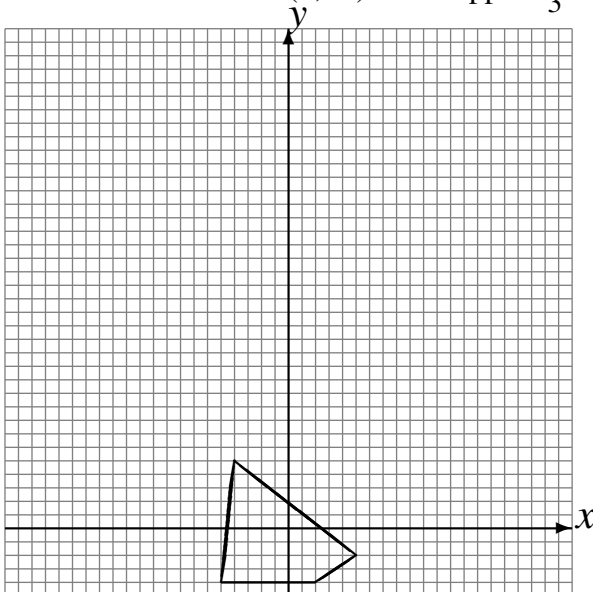
Homothétie de centre $(-4, -4)$ et de rapport $\frac{1}{4}$.

Homothétie de centre $(1, 4)$ et de rapport $\frac{1}{2}$.



Homothétie de centre $(0, -5)$ et de rapport 4.

Homothétie de centre $(2, -3)$ et de rapport $\frac{1}{3}$.



Homothétie de centre $(5, -5)$ et de rapport 2.

Homothétie de centre $(3, 3)$ et de rapport $\frac{1}{3}$.

