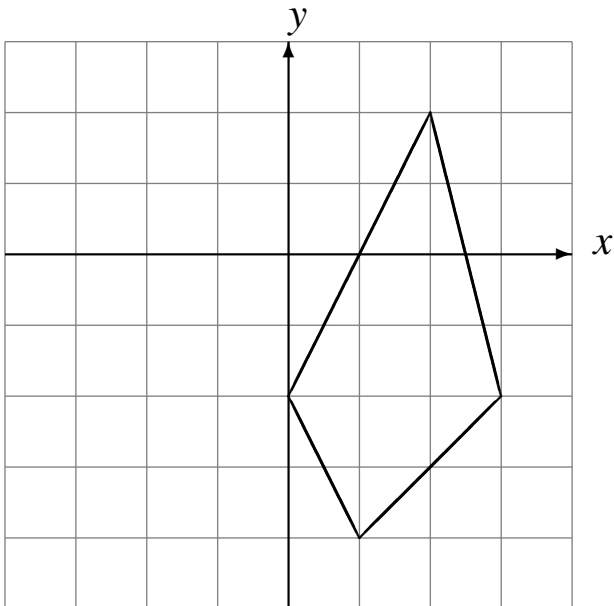


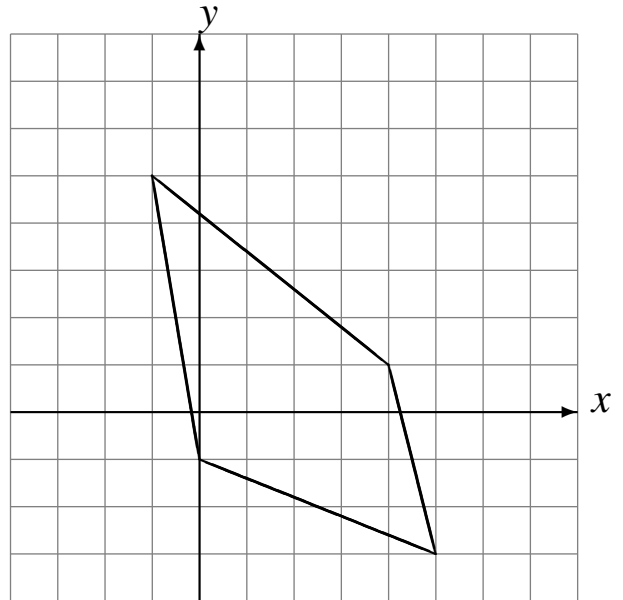
L'Homothétie (B)

Dessinez l'image finale et les étapes intermédiaires de l'homothétie décrite.

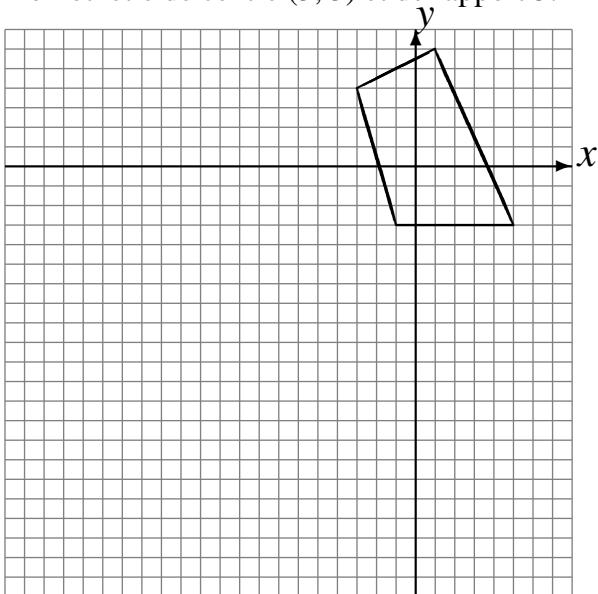
Homothétie de centre $(-5, 0)$ et de rapport $\frac{1}{3}$.
Homothétie de centre $(-4, 1)$ et de rapport $\frac{1}{4}$.



Homothétie de centre $(1, 4)$ et de rapport $\frac{1}{3}$.
Homothétie de centre $(-1, 1)$ et de rapport 2.



Homothétie de centre $(-3, -4)$ et de rapport $\frac{1}{4}$.
Homothétie de centre $(5, 5)$ et de rapport 3.



Homothétie de centre $(-1, 0)$ et de rapport 4.
Homothétie de centre $(1, -3)$ et de rapport 2.

