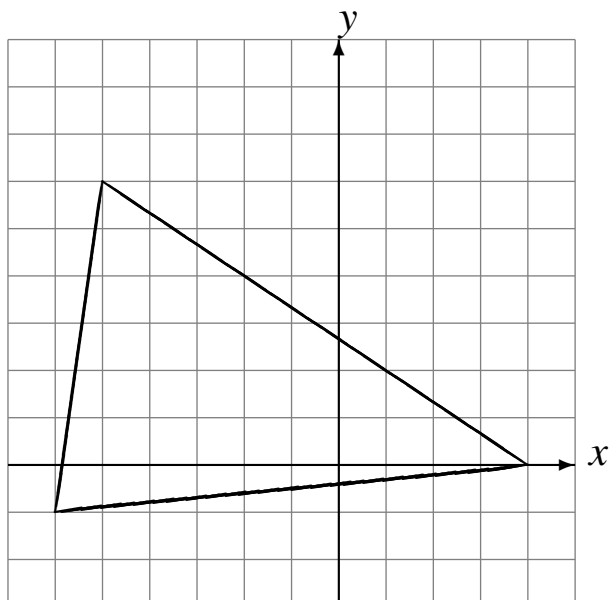


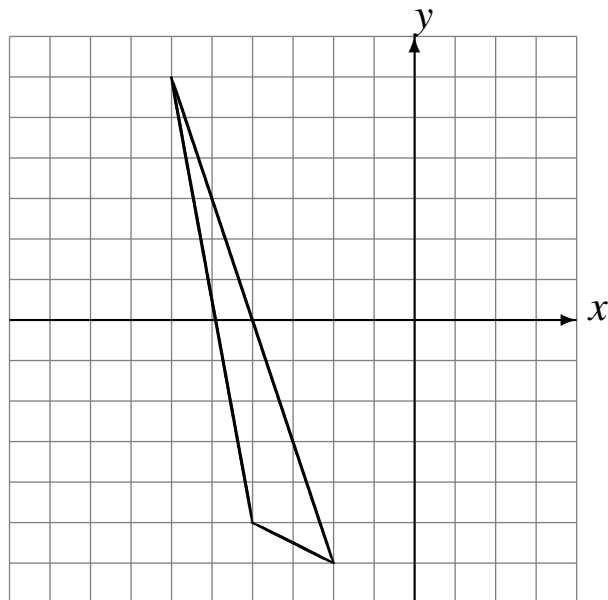
# L'Homothétie (G)

Dessinez l'image de l'homothétie décrite.

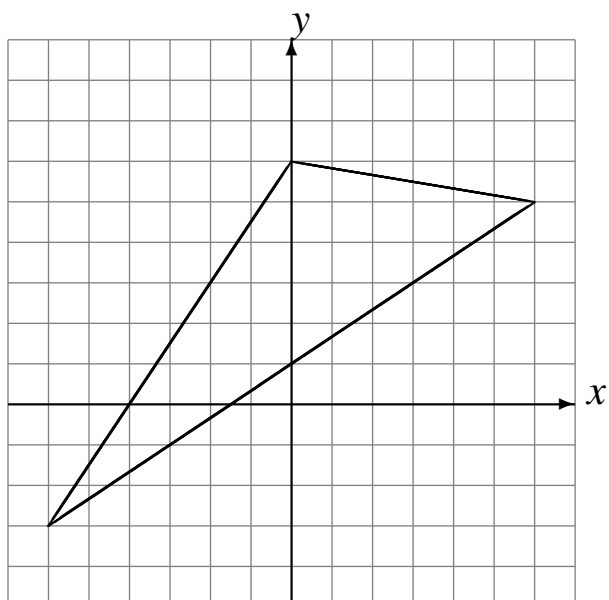
Homothétie de centre  $(5, 3)$  et de rapport  $\frac{1}{2}$ .



Homothétie de centre  $(0, -2)$  et de rapport  $\frac{1}{3}$ .



Homothétie de centre  $(3, -4)$  et de rapport  $\frac{1}{3}$ .



Homothétie de centre  $(0, 5)$  et de rapport 2.

