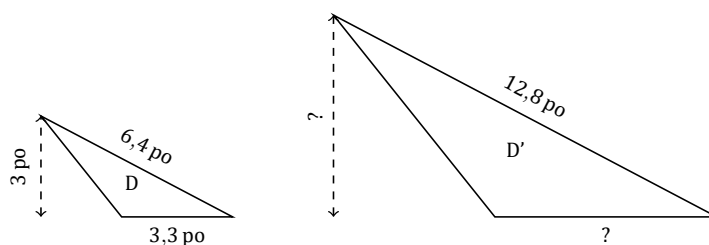
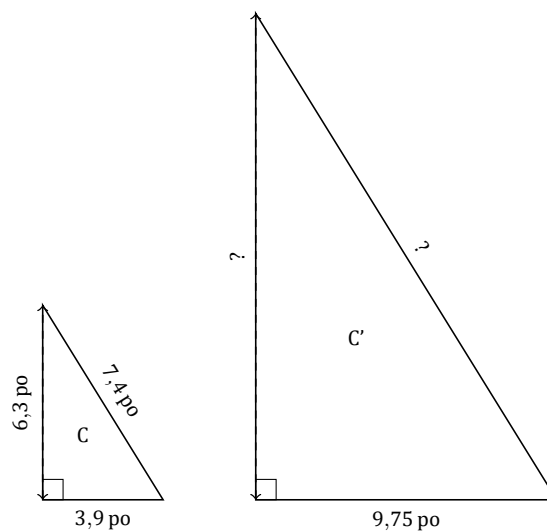
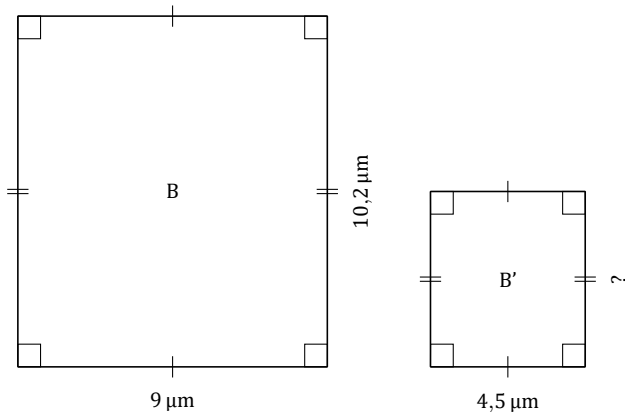
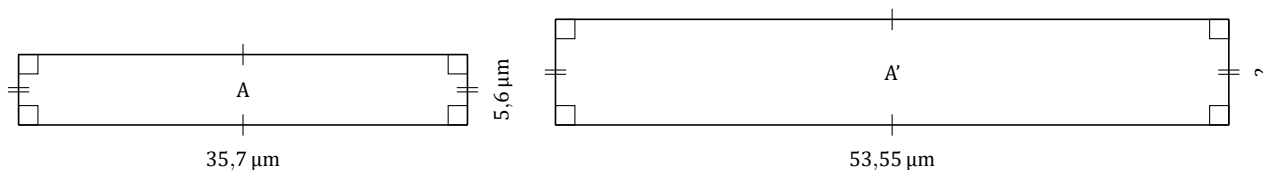


# Facteur d'Échelle (H)

Nom: \_\_\_\_\_

Date: \_\_\_\_\_

Déterminez le facteur d'échelle pour chaque paire de figures et marquez les longueurs manquantes.



# Facteur d'Échelle (H) Réponses

Nom: \_\_\_\_\_

Date: \_\_\_\_\_

Déterminez le facteur d'échelle pour chaque paire de figures et marquez les longueurs manquantes.

