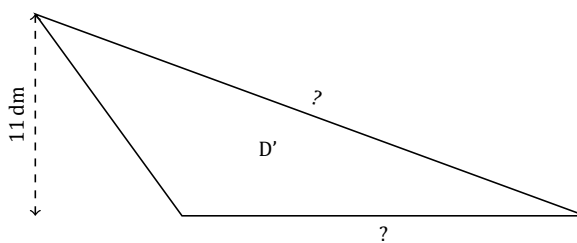
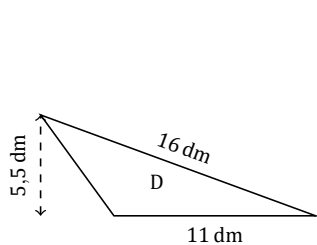
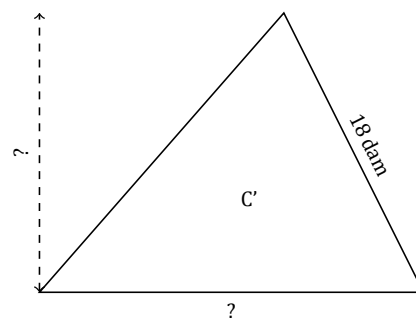
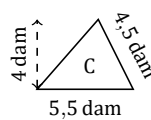
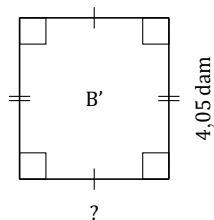
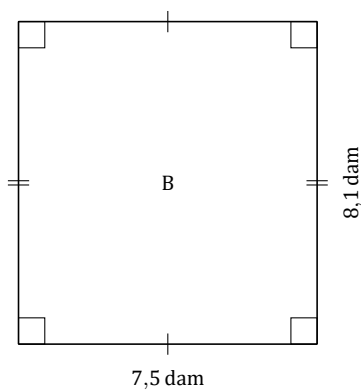
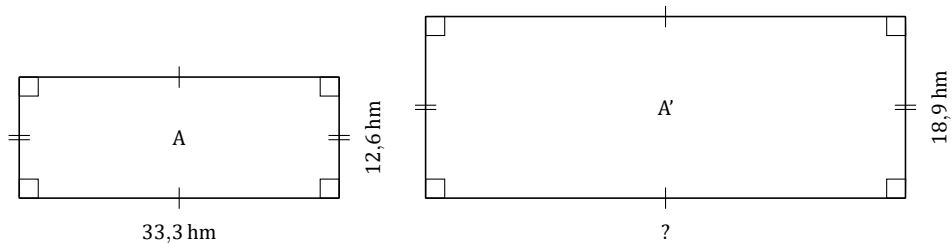


# Facteur d'Échelle (F)

Nom: \_\_\_\_\_

Date: \_\_\_\_\_

Déterminez le facteur d'échelle pour chaque paire de figures et marquez les longueurs manquantes.



# Facteur d'Échelle (F) Réponses

Nom: \_\_\_\_\_

Date: \_\_\_\_\_

Déterminez le facteur d'échelle pour chaque paire de figures et marquez les longueurs manquantes.

