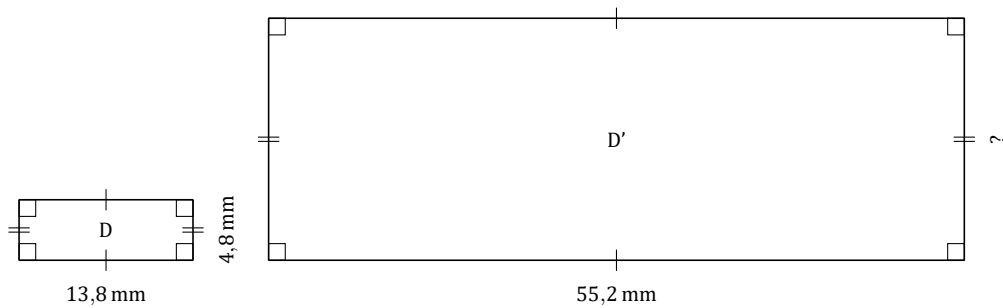
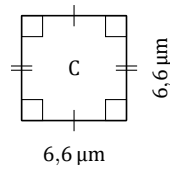
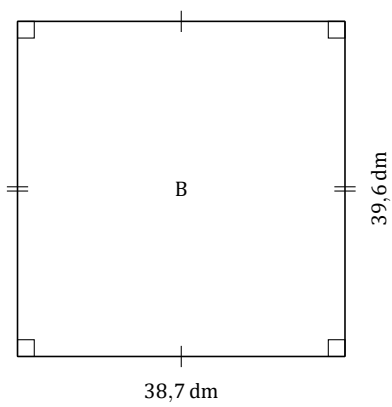
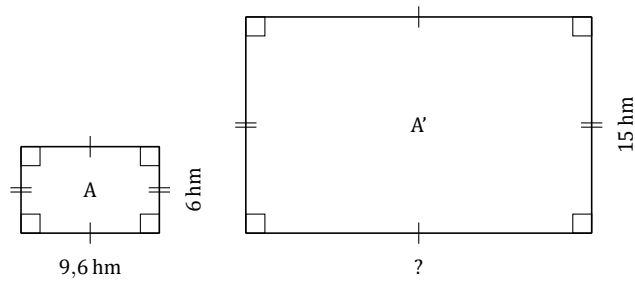


Facteur d'Échelle (F)

Nom: _____

Date: _____

Déterminez le facteur d'échelle pour chaque figure et marquez les longueurs manquantes.



Facteur d'Échelle (F) Réponses

Nom: _____

Date: _____

Déterminez le facteur d'échelle pour chaque figure et marquez les longueurs manquantes.

