
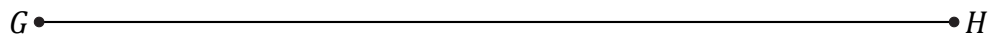





# Construction du Milieu d'un Segment (J)

Nom: \_\_\_\_\_

Date: \_\_\_\_\_

Construisez le milieu d'un segment à l'aide d'une règle et un compas.



# Construction du Milieu d'un Segment (J) Réponses

Nom: \_\_\_\_\_

Date: \_\_\_\_\_

Construisez le milieu d'un segment à l'aide d'une règle et un compas.

