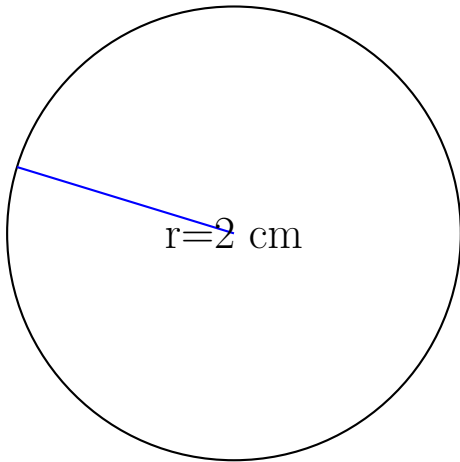


Calcul des Mesures d'un Cercle (J)

Calculez les mesures de chaque cercles à l'aide de la mesure donnée. Utilisez $\pi = 3.14$

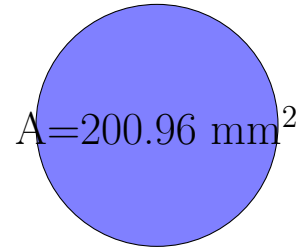


rayon = 2 cm

diamètre = _____

circonférence = _____

aire = _____

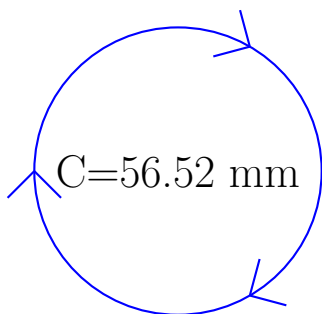


rayon = _____

diamètre = _____

circonférence = _____

aire = 200.96 mm²

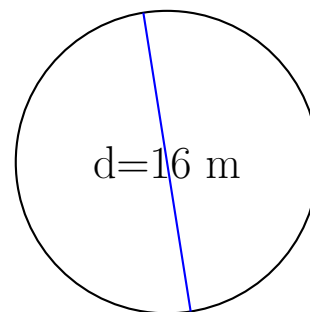


rayon = _____

diamètre = _____

circonférence = 56.52 mm

aire = _____



rayon = _____

diamètre = 16 m

circonférence = _____

aire = _____