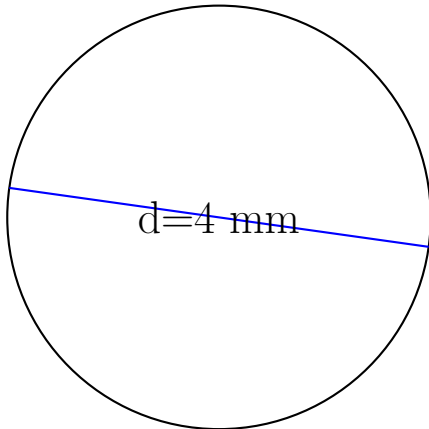
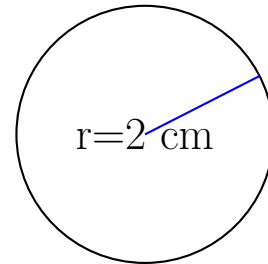


Calcul des Mesures d'un Cercle (E)


Calculez les mesures de chaque cercles à l'aide de la mesure donnée. Utilisez $\pi = 3.14$



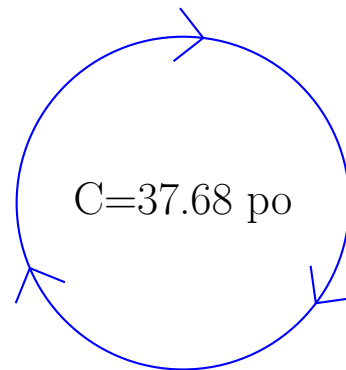
rayon = _____
diamètre = 4 mm
circonférence = _____
aire = _____



rayon = 2 cm
diamètre = _____
circonférence = _____
aire = _____



rayon = _____
diamètre = _____
circonférence = _____
aire = 200.96 mm²



rayon = _____
diamètre = _____
circonférence = 37.68 po
aire = _____