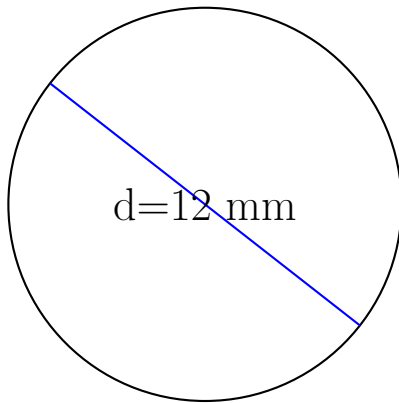


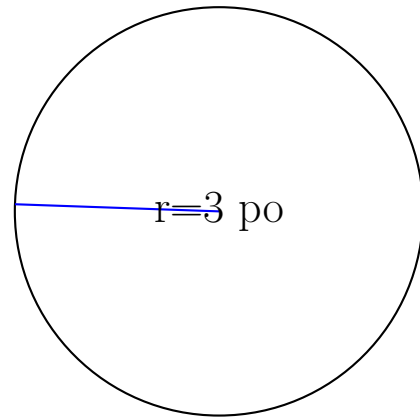
## Calcul de l'Aire et Circonférence (C)

Calculez les mesures de chaque cercles à l'aide de la mesure donnée. Utilisez  $\pi = 3.14$



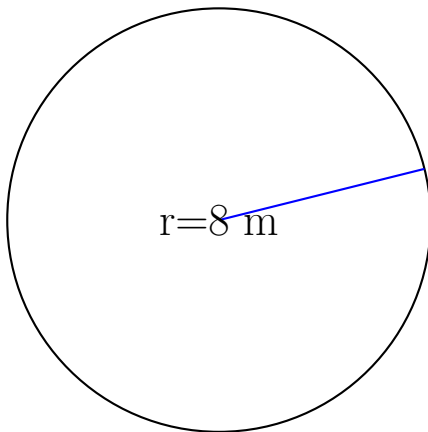
circonférence = \_\_\_\_\_

aire = \_\_\_\_\_



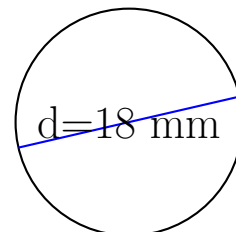
circonférence = \_\_\_\_\_

aire = \_\_\_\_\_



circonférence = \_\_\_\_\_

aire = \_\_\_\_\_



circonférence = \_\_\_\_\_

aire = \_\_\_\_\_