



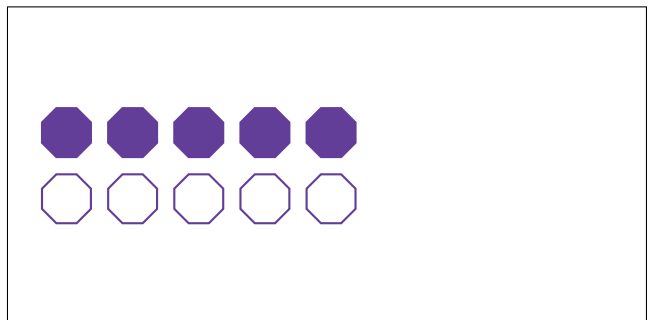


Modèles d'un Ensemble (D)




Dans cet ensemble
il y a 9 figures et
6 sont coloriées.

$$\frac{6 \text{ figures coloriées}}{9 \text{ figures dans cet ensemble}} = \frac{6}{9} = \frac{2}{3}$$

Écrivez une fraction pour chacun des modèles suivants.



Modèles d'un Ensemble (D) Réponses




Dans cet ensemble
il y a 9 figures et
6 sont coloriées.

$$\frac{6 \text{ figures coloriées}}{9 \text{ figures dans cet ensemble}} = \frac{6}{9} = \frac{2}{3}$$


Écrivez une fraction pour chacun des modèles suivants.



$$\frac{4}{6} = \frac{2}{3}$$



$$\frac{5}{15} = \frac{1}{3}$$



$$\frac{10}{15} = \frac{2}{3}$$




$$\frac{2}{3}$$



$$\frac{6}{12} = \frac{1}{2}$$



$$\frac{5}{10} = \frac{1}{2}$$



$$\frac{16}{24} = \frac{2}{3}$$



$$\frac{2}{4} = \frac{1}{2}$$