


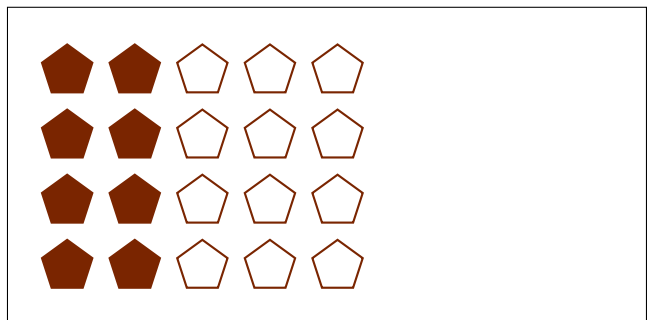
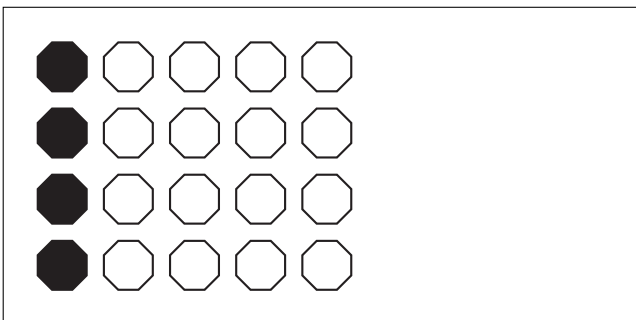
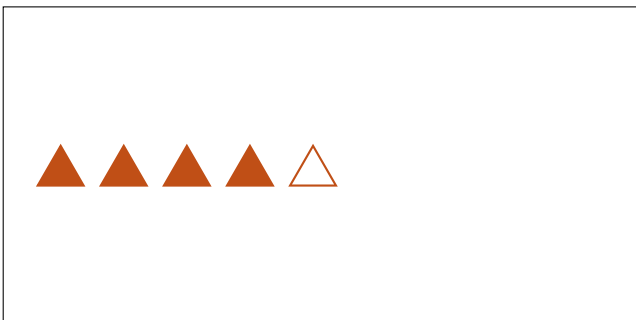
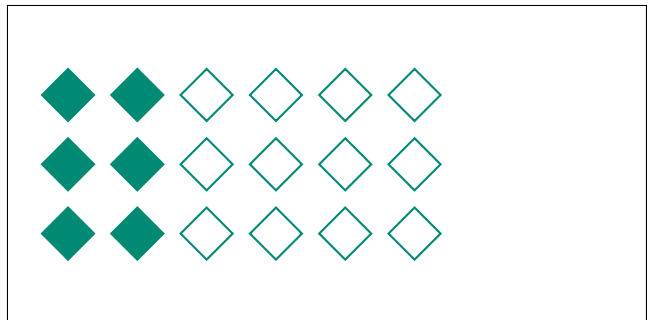


# Modèles d'un Ensemble (F)




Dans cet ensemble  
il y a 10 figures  
et 8 sont coloriées.

$$\frac{8 \text{ figures coloriées}}{10 \text{ figures dans cet ensemble}} = \frac{8}{10} = \frac{4}{5}$$

Écrivez une fraction pour chacun des modèles suivants.



# Modèles d'un Ensemble (F) Réponses



Dans cet ensemble  
il y a 10 figures  
et 8 sont coloriées.

$$\frac{8 \text{ figures coloriées}}{10 \text{ figures dans cet ensemble}} = \frac{8}{10} = \frac{4}{5}$$

Écrivez une fraction pour chacun des modèles suivants.

$$\frac{12}{24} = \frac{1}{2}$$

$$\frac{2}{3}$$

$$\frac{9}{15} = \frac{3}{5}$$

$$\frac{6}{18} = \frac{1}{3}$$

$$\frac{4}{5}$$

$$\frac{1}{4}$$

$$\frac{4}{20} = \frac{1}{5}$$

$$\frac{8}{20} = \frac{2}{5}$$