


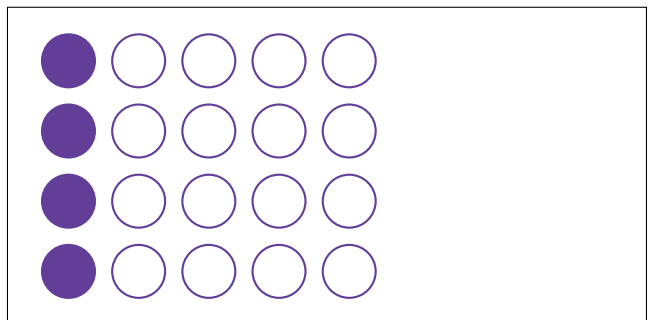
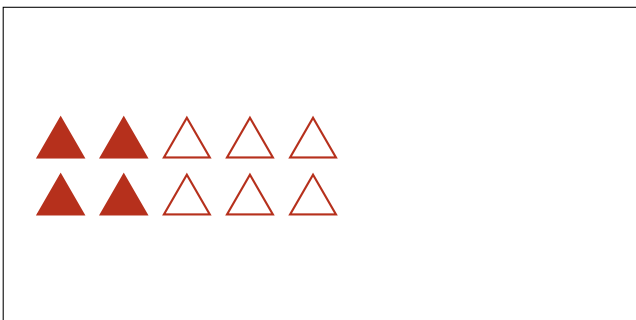

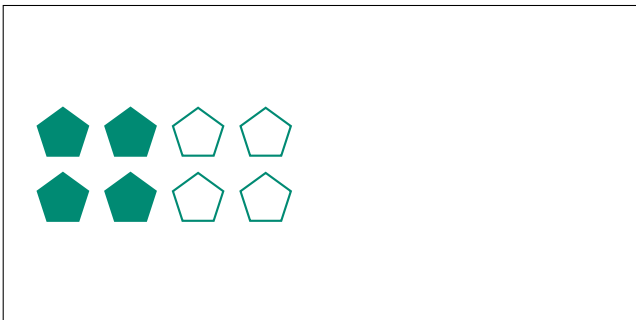

Modèles d'un Ensemble (E)




Dans cet ensemble
il y a 20 figures et
12 sont coloriées.

$$\frac{12 \text{ figures coloriées}}{20 \text{ figures dans cet ensemble}} = \frac{12}{20} = \frac{3}{5}$$

Écrivez une fraction pour chacun des modèles suivants.




Modèles d'un Ensemble (E) Réponses



Dans cet ensemble
il y a 20 figures et
12 sont coloriées.

$$\frac{12 \text{ figures coloriées}}{20 \text{ figures dans cet ensemble}} = \frac{12}{20} = \frac{3}{5}$$

Écrivez une fraction pour chacun des modèles suivants.




$$\frac{6}{10} = \frac{3}{5}$$



$$\frac{10}{15} = \frac{2}{3}$$



$$\frac{4}{8} = \frac{1}{2}$$



$$\frac{12}{15} = \frac{4}{5}$$




$$\frac{1}{3}$$



$$\frac{1}{4}$$



$$\frac{4}{10} = \frac{2}{5}$$



$$\frac{4}{20} = \frac{1}{5}$$