

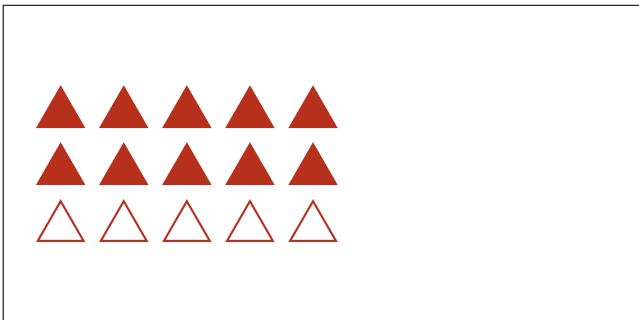
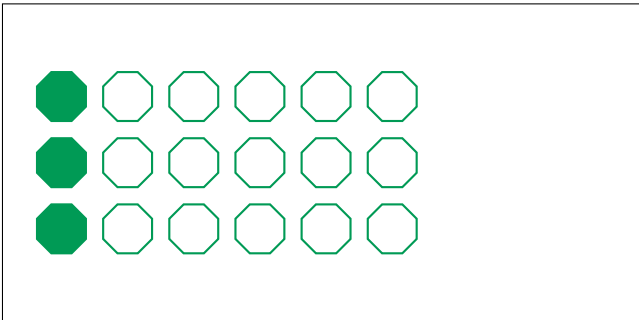
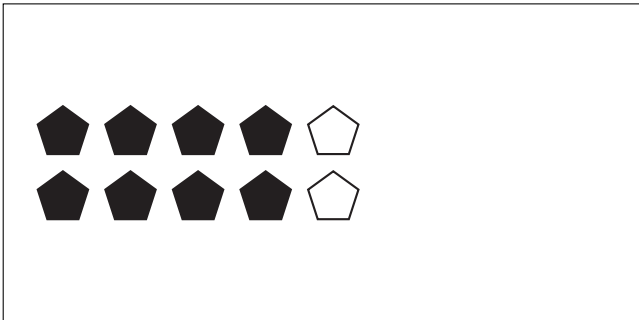


Modèles d'un Ensemble (C)



Dans cet ensemble
il y a 3 figures et
2 sont coloriées.

$$\frac{2 \text{ figures coloriées}}{3 \text{ figures dans cet ensemble}} = \frac{2}{3}$$

Écrivez une fraction pour chacun des modèles suivants.



Modèles d'un Ensemble (C) Réponses



Dans cet ensemble
il y a 3 figures et
2 sont coloriées.

$$\frac{2 \text{ figures coloriées}}{3 \text{ figures dans cet ensemble}} = \frac{2}{3}$$

Écrivez une fraction pour chacun des modèles suivants.

$$\frac{3}{9} = \frac{1}{3}$$

$$\frac{10}{12} = \frac{5}{6}$$

$$\frac{4}{8} = \frac{1}{2}$$

$$\frac{2}{10} = \frac{1}{5}$$

$$\frac{8}{10} = \frac{4}{5}$$

$$\frac{3}{18} = \frac{1}{6}$$

$$\frac{10}{15} = \frac{2}{3}$$

$$\frac{3}{4}$$