


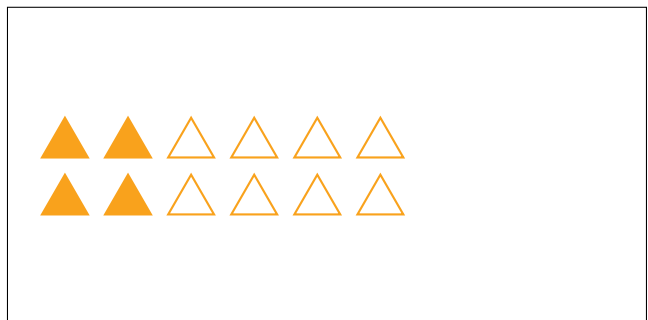
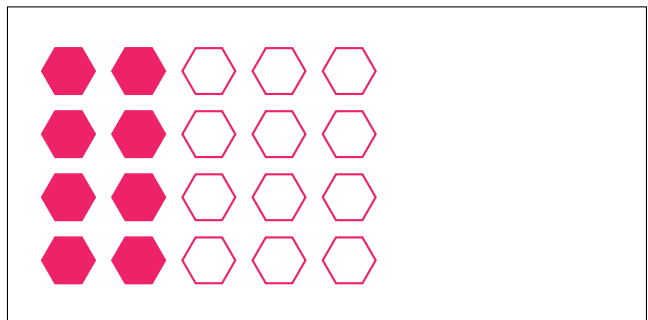
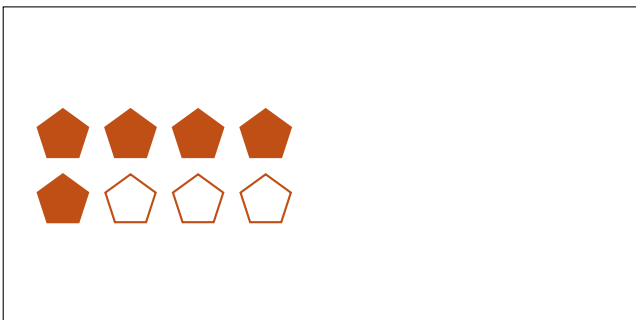
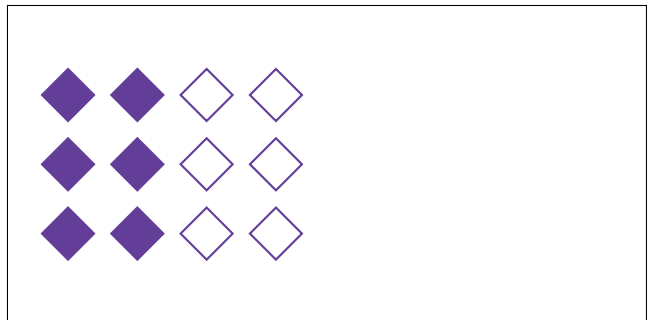


Modèles d'un Ensemble (B)




Dans cet ensemble
il y a 24 figures et
16 sont coloriées.

$$\frac{16 \text{ figures coloriées}}{24 \text{ figures dans cet ensemble}} = \frac{16}{24} = \frac{2}{3}$$

Écrivez une fraction pour chacun des modèles suivants.



Modèles d'un Ensemble (B) Réponses




Dans cet ensemble
il y a 24 figures et
16 sont coloriées.

$$\frac{16 \text{ figures coloriées}}{24 \text{ figures dans cet ensemble}} = \frac{16}{24} = \frac{2}{3}$$

Écrivez une fraction pour chacun des modèles suivants.




$$\frac{4}{6} = \frac{2}{3}$$



$$\frac{10}{12} = \frac{5}{6}$$



$$\frac{12}{20} = \frac{3}{5}$$



$$\frac{6}{12} = \frac{1}{2}$$



$$\frac{5}{8}$$



$$\frac{8}{20} = \frac{2}{5}$$



$$\frac{9}{12} = \frac{3}{4}$$



$$\frac{4}{12} = \frac{1}{3}$$